

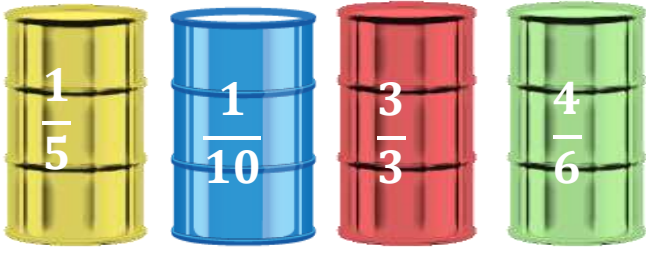
Adı :
Soyadı:

4. Sınıf
Matematik

Kesirler
Yaprak Test-2


1) Aşağıdaki kesirlerden hangisi diğerlerinden farklı bir kesir türüdür?

- A) $\frac{5}{7}$ B) $\frac{9}{8}$ C) $\frac{2}{3}$ D) $\frac{9}{12}$



2) Yukarıda verilen 3 varilin kaçta kaçının su ile dolu olduğu üzerlerine yazılmıştır. İçinde ne çok su olan varil hangisidir?

- A) Sarı B) Mavi C) Kırmızı D) Yeşil



3) Arı Maya evine giderken gördüğü çiçekten polen almak için mola veriyor. Arı Maya yolun kaçta kaçında mola vermiştir?

- A) $\frac{3}{5}$ B) $\frac{3}{6}$ C) $\frac{2}{6}$ D) $\frac{4}{5}$

4) Çeyreği 60 olan sayının $\frac{4}{6}$ ' ü kaç eder?

- A) 240 B) 160 C) 200 D) 120

$$\frac{K}{12}$$

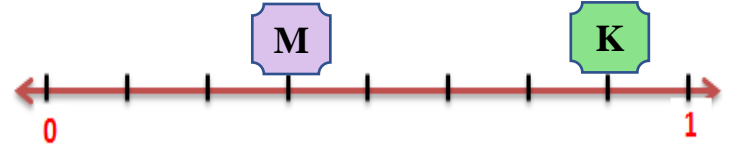
Bileşik Kesir

$$\frac{12}{L}$$

Basit Kesir

5) Yukarıda verilen basit ve bileşik kesirde K ve L yerine yazılabilecek en büyük sayıların toplamı kaçtır?

- A) 20 B) 21 C) 22 D) 23



6) Yukarıda verilen sayı doğrusunda K-M işleminin sonucu aşağıdakilerden hangisidir?

- A) $\frac{3}{9}$ B) $\frac{4}{8}$ C) $\frac{4}{9}$ D) $\frac{3}{8}$

7) Aşağıdaki seçeneklerden hangisinde kesirlerin türleri doğru yazılmıştır?

	$4\frac{5}{7}$	$\frac{5}{7}$	$\frac{7}{5}$	$\frac{1}{7}$
A)	Tam sayılı	Basit	Birim	Bileşik
B)	Bileşik	Birim	Basit	Basit
C)	Tam sayılı	Basit	Bileşik	Birim
D)	Bileşik	Tam sayılı	Bileşik	Birim

Adı :
Soyadı:

4. Sınıf
Matematik

Kesirler
Yaprak Test-2

Ömer 240 sayfalık kitabın $\frac{4}{6}$ 'ni okumuştur.
Aysel de 320 sayfalık kitabın $\frac{5}{8}$ 'ini okumuştur.

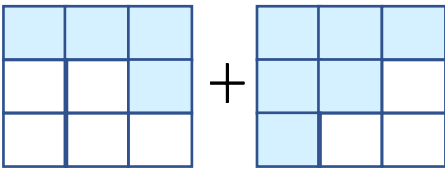
8) Ömer ve Aysel'in okuyacağı toplam kaç sayfaları kalmıştır?

- A) 180 B) 210 C) 190 D) 200

$$\frac{1}{10} > \frac{1}{A} < \frac{1}{B}$$

9) Yukarıdaki sıralamada A ve B yerine hangi sayılar yazılabilir?

- A) A= 12 B= 6 B) A= 12 B= 15
C) A= 8 B= 7 D) A= 9 B= 11



10) Yukarıda kesir modeli verilen toplama işleminin sonucu bileşik sayı olarak aşağıdakilerden hangisidir?

- A) B) C) D)

$$\left(4\frac{4}{7} + 5\frac{6}{7} \right) - 2\frac{5}{7}$$

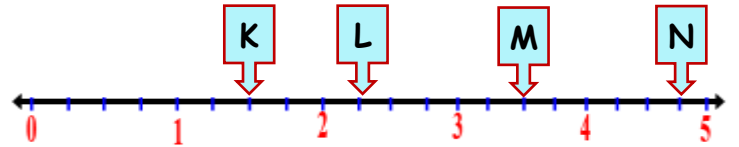
11) Yukarıda verilen işlemin sonucu aşağıdakilerden hangisidir?

- A) $7\frac{5}{14}$ B) $5\frac{15}{7}$ C) $7\frac{15}{7}$ D) $7\frac{5}{7}$

$$m + 15 = 40$$

12) Dikdörtgen şeklinde bir bahçenin kısa kenarı uzun kenarının $\frac{3}{5}$ 'ü kadardır. Bu bahçenin çevresi kaç birimdir?

- A) 70 B) 80 C) 75 D) 90



13) Yukarıda verilen sayı doğrusunda hangi kesir doğru yazılmıştır?

- A) $K = 1\frac{2}{4}$ B) $L = 2\frac{2}{4}$
C) $M = 3\frac{2}{5}$ D) $N = 4\frac{4}{4}$

Adı :
Soyadı:

4. Sınıf
Matematik

Kesirler
Yaprak Test-2

Doğru :.....

Yanlış:.....

- 1 A B C D
2 A B C D
3 A B C D
4 A B C D
5 A B C D

- 6 A B C D
7 A B C D
8 A B C D
9 A B C D
10 A B C D

- 11 A B C D
12 A B C D
13 A B C D
14 A B C D
15 A B C D

- 16 A B C D
17 A B C D
18 A B C D
19 A B C D
20 A B C D