

Adı :
Soyadı:

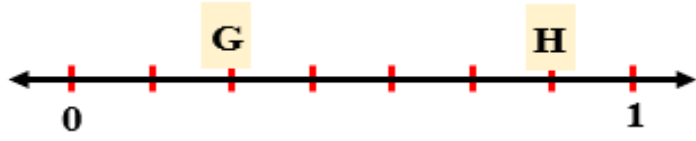
4. Sınıf
Matematik

Kesirler
Yaprak Test-5

$$\frac{6 - A}{10}$$

1) Yukarıda verilen kesrin birim kesir olması için A yerine hangi sayı yazılmalıdır?

- A) 1 B) 3 C) 16 D) 4



2) Yukarıda verilen sayı doğrusuna göre H-G işleminin sonucu kaçtır?

- A) $\frac{5}{8}$ B) $\frac{3}{7}$ C) $\frac{4}{8}$ D) $\frac{4}{7}$

$\frac{3}{18}$	$\frac{5}{18}$	$\frac{5}{18}$
Basketbol	Yüzme	Futbol

3) Bir sınıftaki öğrencilerin gittikleri kurslar ve öğrenci sayıları yukarıda gösterilmiştir. Kursa gitmeyenlerin sayısı sınıfın kaçta kaçtır?

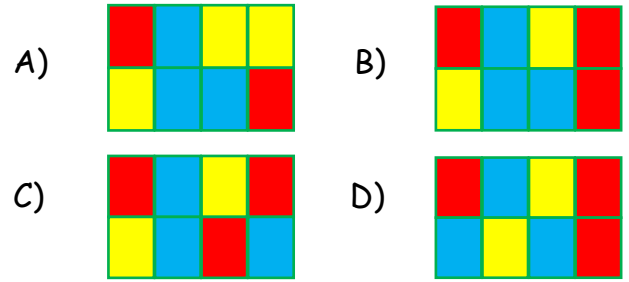
- A) $\frac{5}{18}$ B) $\frac{18}{5}$ C) $\frac{13}{18}$ D) $\frac{18}{18}$

4) $\frac{5}{9}$ 'i 45 olan sayının $\frac{5}{9}$ 'i kaç eder?

- A) 81 B) 45 C) 25 D) 5

$\frac{4}{3}$	$\frac{5}{7}$	$\frac{1}{8}$	$\frac{14}{2}$
$\frac{1}{2}$	$\frac{18}{19}$	$\frac{5}{9}$	$\frac{15}{12}$

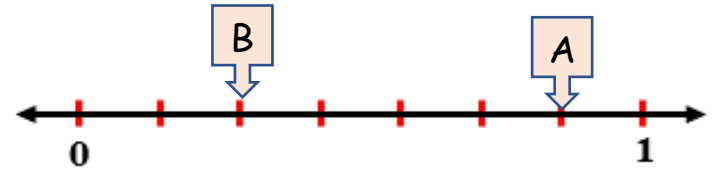
5) Yukarıda verilen kesirlerden basit kesirler maviye, bileşik kesirler kırmızıya, birim kesirler sarıya boyanıyor. Oluşan şekil hangisidir?



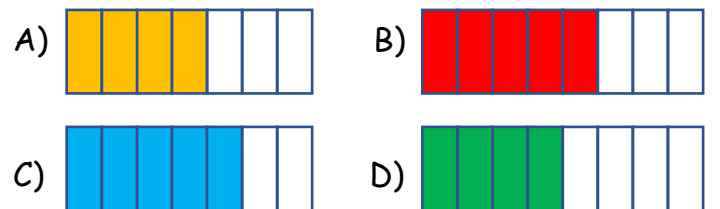
$$\frac{1}{K} < \frac{1}{10} < \frac{1}{L}$$

6) Yukarıda verilen karşılaştırmada K ve L yerine hangi sayılar yazılabilir?

- A) K= 6 L= 8 B) K= 13 L= 16
C) K= 5 L= 15 D) K= 16 L= 7



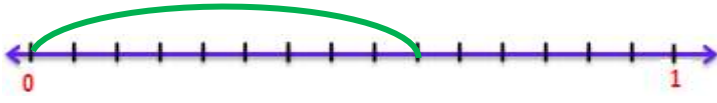
7) Yukarıda verilen sayı doğrusunda A-B işleminin sonucunun modelle gösterimi hangisinde doğru verilmiştir?



Adı :
Soyadı:

4. Sınıf
Matematik

Kesirler
Yaprak Test-5



8) Yukarıda sayı doğrusuna göre 375 km yolun yeşil kısmı asfaltlanmıştır. Geriye asfalt dökülmemiş kaç km yol kalmıştır?

- A) 140 km B) 125 km C) 150 km D) 160 km

$$\frac{3}{8} + \frac{7}{8} = \frac{A}{8} - \frac{5}{8}$$

9) Yukarıdaki eşitliğin sağlanabilmesi için A yerine kaç yazılmalıdır?

- A) 10 B) 15 C) 5 D) 20

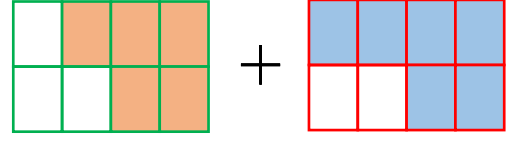
10) 144 sayısının $\frac{2}{6}$ 'si ile $\frac{2}{8}$ 'sinin toplamı kaçtır?

- A) 76 B) 84 C) 92 D) 88

$$\frac{12}{15 - B}$$

11) Yukarıda verilen bileşik kesrinde B yerine yazılabilecek en büyük sayı kaçtır?

- A) 3 B) 4 C) 5 D) 2



12) Yukarıda verilen işlemin sonucu aşağıdakilerden hangisidir?

- A) $\frac{5}{11}$ B) $\frac{11}{16}$ C) $\frac{11}{8}$ D) $\frac{11}{5}$

Bir fırında her gün yapılan 672 ekmeğin $\frac{5}{7}$ 'i satılıyor. Kalan ekmeğin hayvan barınaklarına gönderiliyor.

13) Bu fırında bir haftada kaç tane ekmeğin hayvan barınaklarına gönderilmektedir?

- A) 1564 B) 1344 C) 1384 D) 1424

Filiz 252 sayfalık kitabın pazartesi günü $\frac{4}{9}$ 'ünü okudu. Salı günü de kalan sayfanın $\frac{3}{7}$ 'ünü okudu.

14) Filiz kitabın geri kalanını da Çarşamba günü okuyup bitirmiştir. Filiz Çarşamba günü kaç sayfa okumuştur?

- A) 172 B) 74 C) 96 D) 80

Adı :

Soyadı:

4. Sınıf
Matematik

Kesirler
Yaprak Test-5

Doğru :

Yanlış:.....

- 1 A B C D
2 A B C D
3 A B C D
4 A B C D
5 A B C D

- 6 A B C D
7 A B C D
8 A B C D
9 A B C D
10 A B C D

- 11 A B C D
12 A B C D
13 A B C D
14 A B C D
15 A B C D

- 16 A B C D
17 A B C D
18 A B C D
19 A B C D
2 A B C D