


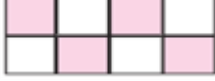
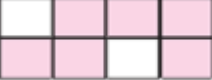
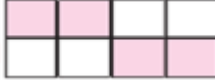
Adı : .....

Soyadı: .....

4. Sınıf  
Matematik

Kesirler  
Yaprak Test-11

1. 2 tane  $\frac{1}{8}$  ile 3 tane  $\frac{2}{8}$ 'sinin toplamı aşağıdakilerden hangisidir?

- A)  B) 
- C)  D) 

2.  $\frac{38}{7}$  kesrinin tam sayılı kesir olarak karşılığı hangisidir?

- A)  $5\frac{3}{7}$  B)  $3\frac{8}{7}$  C)  $7\frac{3}{8}$  D)  $5\frac{7}{3}$

$$\frac{25}{7} + \frac{46}{7}$$

3. Yukarıdaki işlemin sonucu kaçtır?

- A)  $\frac{71}{14}$  B)  $\frac{71}{49}$  C)  $10\frac{1}{7}$  D) 10

4. Bilgehan 650 liraya aldığı tabletin  $\frac{5}{13}$ 'ini peşin ödedi. Geri kalanını 10 taksitte ödeyeceğine göre aylık taksit fiyatı kaç liradır?

- A) 30 B) 40 C) 50 D) 65

5. Bir havuzun  $\frac{5}{8}$ 'i su ile doludur. Havuzun içindeki su miktarı 400 litre olduğuna göre havuzun dolması için kaç litre daha su gerekir?

- A) 800 B) 240 C) 300 D) 360

6. Aşağıda verilen kesirlerden hangisi basit kesirdir?

- A)  $\frac{8}{7}$  B)  $\frac{7}{7}$  C)  $\frac{5}{7}$  D)  $2\frac{11}{7}$

$$\frac{3}{8} + \frac{4}{8} = 35$$

7. Yukarıdaki işlemin  $\frac{8}{8}$ 'inin iki katı kaçtır?

- A) 20 B) 40 C) 60 D) 80

8. 45 sayısının  $\frac{3}{9}$ 'ü ile 65 sayının  $\frac{5}{13}$ 'inin toplamı kaçtır?

- A) 25 B) 35 C) 40 D) 50

9.  $\frac{5}{7}$ 'i 150 olan sayının  $\frac{5}{6}$ 'i kaç eder?

- A) 175 B) 225 C) 250 D) 275

10. Kaan'ın bütün parasının  $\frac{5}{9}$ 'i 20 lira etmektedir. Parasının  $\frac{3}{6}$ 'ü harcadığına göre kaç lira parası kalmıştır?

- A) 15 B) 18 C) 25 D) 30

Adı : .....

Soyadı: .....

4. Sınıf  
Matematik

Kesirler  
Yaprak Test-11

11. Aşağıda verilen şekillerden hangisi  $\frac{6}{8}$  kesrine eşittir?



12. Aşağıda verilen kesirlerden hangisi  $\frac{4}{5}$  kesrine eşit değildir?

- A)  $\frac{8}{10}$  B)  $\frac{16}{20}$  C)  $\frac{15}{25}$  D)  $\frac{20}{25}$



13. Yukarıdaki sayı doğrusunda A noktasının kesir olarak değeri nedir?

- A)  $\frac{5}{9}$  B)  $1\frac{2}{3}$  C)  $2\frac{1}{3}$  D)  $\frac{1}{5}$

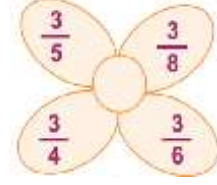


14. Yukarıda gösterilen şekil aşağıdakilerden hangisine eşittir?

- A)  $3\frac{1}{2}$  B)  $\frac{5}{6}$  C)  $\frac{4}{5}$  D)  $3\frac{2}{1}$

15. Beyza Hanım 1339 liraya aldığı telefonun  $\frac{5}{13}$ 'ini peşin ödedi. Geriye kaç lira borcu kalmıştır?

- A) 824 B) 515 C) 103 D) 412



16. Yukarıda verilen kesirlerden hangisi en büyük kesirdir?

- A)  $\frac{3}{5}$  B)  $\frac{3}{8}$  C)  $\frac{3}{4}$  D)  $\frac{3}{6}$

17. Payı 6 olan bileşik kesir aşağıdakilerden hangisidir?

- A)  $6\frac{5}{7}$  B)  $3\frac{5}{6}$  C)  $\frac{6}{9}$  D)  $\frac{6}{4}$

18.  $\frac{2}{6}$ 'si 24 olan sayının 5 katı kaç eder?

- A) 300 B) 360 C) 240 D) 144

19.  $\frac{5}{8}$ 'i 50 olan sayının  $\frac{5}{10}$ 'i kaç eder?

- A) 80 B) 40 C) 30 D) 60

$$\frac{a}{b} = \text{birim kesirdir.}$$

20. Yukarıda verilen bilgiye göre aşağıdaki bilgilerden hangisi doğrudur?

- A)  $a < b$  B)  $a > b$  C)  $a + b > 1$  D)  $a = b$