



KURBAĞALAR

Kurbağalar soğuk ve çok kurak yerlerde yaşayamazlar. Hem suda hem de karada yaşayan hayvanlardır. Pulsuz ve tüysüz olan vücudu sıçramaya ve yüzmeye elverişlidir. Boyu 3 ile 35 santimetre arasında değişir.

Arka bacakları uzun, ayakları perdelidir. Bu sayede sıçrar. Solunumu ince olan derisiyle yaparlar. Hareketli ve yapışkan diliyle yakaladığı böceklerle beslenir. Yumurta ile çoğalır.

Not: İlk 3 soruyu metne göre cevaplayınız.

1) Kurbağalar ile ilgili hangi bilgi **yanlıştır**?

- A) Hem suda hem de karada yaşayabilir.
- B) Soğuk ve kurak yerlerde yaşayabilir.
- C) Vücudu sıçramaya ve yüzmeye elverişlidir.

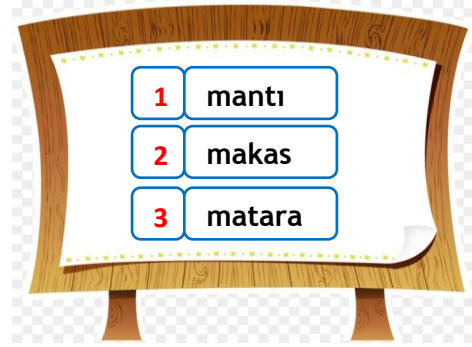
2) Kurbağalar **ne** ile beslenir?

- A) Balık
- B) Solucan
- C) Böcek

3) Kurbağalar solunumunu **nasıl** yaparlar?

- A) Derileriyle
- B) Burunlarıyla
- C) Dilleriyle

4)



Yukarıdaki sözcükler **sözlük sırasına** göre dizildiğinde sıralama nasıl olmalıdır?

- A) 2-1-3
- B) 1-2-3
- C) 2-3-1

5)

Ozan	barış
Anı	şair
Sulh	hatıra
Hasret	

Yukarıdaki kelimeler **eş anlamlıları** ile eşleştirildiğinde hangi kelime **boşta** kalır?

- A) Ozan
- B) Sulh
- C) Hasret

6)

Şehir	→	Antalya
İnsan	→	Mehmet
Hayvan	→	?

Yukarıdaki tabloda özel adlara örnekler verilmiştir. Buna göre “?” yerine aşağıdakilerden hangisi **gelmelidir**?

- A) Köpek B) Tekir
C) Masa

7)

Aliler, hafta sonu Antalyadan otobüsle Niğdeye gidecekler.

Yukarıdaki cümlede altı çizili sözcüklerden hangisinin yazımı **doğrudur**?

- A) Aliler B) Antalyadan
C) Niğdeye

8)

Hikâyenin Unsurları	
Kahramanlar	Zaman
Mesaj	Yer

Yukarıdaki tabloda verilen kelimelerden hangisi hikâyenin unsurlarından birisi **değildir**?

- A) Yer B) Mesaj
C) Kahramanlar

9) Tanju her gün **4 adet** gofret yediğine göre **1 haftada** toplam kaç gofret yemiştir?



- A) 21 B) 24 C) 28

10) Aslan'ın gitmiş olduğu bir çiftlikte **6 tane keçi**, **7 tane tavuk** vardır. Bu çiftlikteki hayvanların ayak sayılarının toplamı kaçtır?



- A) 38 B) 36 C) 34

11) Ozi'nin yaptığı bir çarpma işleminde 1.çarpan 5, 2.çarpan ise 1.çarpandan **4 fazladır**. Bu çarpma işleminde çarpım kaçtır?



- A) 20 B) 45 C) 60

12) Mert'in sınıfında **7 tane** sırada **2 öğrenci**, **6 tane** sırada **3 öğrenci** oturmaktadır. Mert'in sınıfında toplam kaç öğrenci vardır?



- A) 28 B) 32 C) 38

13)




Pırl

Ben 8 yaşındayım. Annemin yaşı benim yaşımın 4 katından, 2 fazladır.

Pırl'ın annesi kaç yaşındadır?

- A) 44 B) 34 C) 32

14) $9 \times 4 = A$
 $8 \times 3 = B$
 $7 \times 2 = C$



Elif, "A + B - C = ?" işleminin sonucu kaç bulmuştur?


- A) 46 B) 56 C) 74

15) Kral Şakir, aklından bir sayı tutuyor. Aklından tuttuğu sayı, 7 sayısının 4 katının, 9 eksigidir. Kral Şakir'in aklından tuttuğu sayı kaçtır?



- A) 37 B) 28 C) 19

16) Aşağıdakilerden hangisi güvenli oyun alanı değildir?

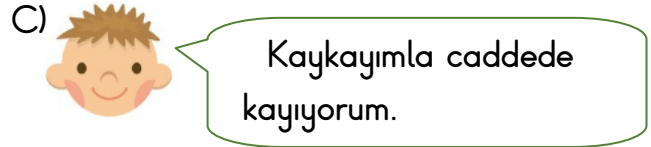
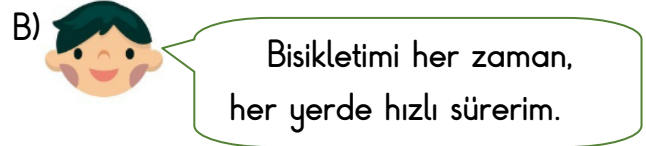
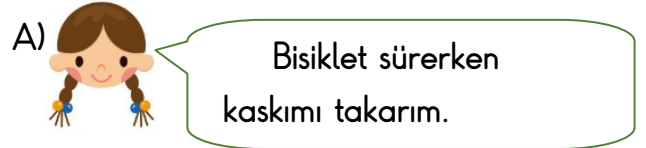


17) Cadde ve oyun oynamak için tehlikelidir.

Yukarıdaki ifadede noktalı yere hangisi yazılmalıdır?

- A) bahçeler B) parklar
 C) sokaklar

18) Aşağıdaki çocuklardan hangisi **oyun aracını güvenli** kullanmaktadır?



Yukarıda verilen araçları kullanırken aşağıdakilerden hangisi takmamıza gerek yoktur?



20) Görseldeki çocuk için hangisi **söylenbilir**?

- A) Güvenliğini tehlikeye atmaktadır.
 B) Davranışlarının sonuçlarını düşünebilmektedir.
 C) Hareketi tehlikeli değildir.

Cevap Anahtarı

- 1)B 2)C 3)A 4)A 5)C
6)B 7)A 8)B 9)C 10)A
11)B 12)B 13)B 14)A 15)C
16)B 17)C 18)A 19)C 20)A