



3. SINIF


20. HAFTA KAZANIM DEĞERLENDİRME

1. Aşağıdaki cümlelerden hangisi hayal ürün ifadeler içermektedir?

- A) Çöpe atılan ekmekler üzgün üzgün neden böyle israf edildiklerini düşünüyorlardı.
B) Piknik bittikten sonra doğanın zarar görmemesi için ateşi söndürdük, çöpleri topladık.
C) Kağıtlar ve kartonlar çöp değildir, geri dönüşüm sayesinde tekrar kullanılabilir.

2. Aşağıdaki seçeneklerden hangisinde sözcükler alfabetik olarak sıralanmıştır?

- A) baston - davul - lale - keman
B) top - vazo - yılan - zil
C) mavi - ordu - tahta - plastik



3. "Yaptığı hatayı anlayınca" cümlesinde boş bırakılan yere hangisi gelirse cümle anlamlı tamamlanmış olur?

- A) sevinçten havalara uçtu.
B) kendini ödüllendirdi.
C) arkadaşlarından özür diledi.

4. "Ah keşke ona o sözleri söylemeseydim!" cümlesinde aşağıdaki duygulardan hangisi vardır?

- A) pişmanlık
B) gurur
C) neşe




5. "Ağacın dalını budarken elimi yaraladım." cümlesinde altı çizili sözcük, aşağıdaki cümlelerin hangisinde aynı anlamda kullanılmıştır?

- A) Denizin dibine dalıp midye topladık.
B) Pencereden uzaklara bakarken hayallere daldı.
C) Şiddetli rüzgar dalları kırdı.

6. Yan taraftaki şeklin boyalı kısımlarının ifade ettiği kesir hangi seçenekte doğru olarak verilmiştir ?

- A) $\frac{2}{5}$ B) $\frac{4}{5}$ C) $\frac{3}{5}$



7. Aşağıdaki kesir ifadelerinden hangisi çeyrek anlamına gelmektedir?

- A) $\frac{1}{4}$ B) $\frac{2}{5}$ C) $\frac{3}{6}$

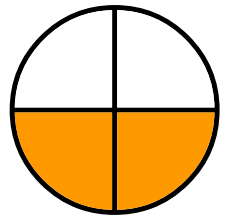
8. 1 bütün elma yarım elmaya eşittir.
1 bütün elmanın eş parçasından her birine çeyrek denir.

Yukarıdaki cümlelerde boş bırakılan yerlere gelmesi gereken sayıların çarpımı kaçtır?

- A) 4 B) 6 C) 8

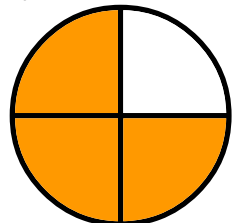
9. Görseldeki şeklin ne kadarı boyanmıştır?

- A) çeyreği
B) yarısı
C) bütünü



10. Aşağıda verilen şekil ile ilgili hangi ifade yanlıştır?

- A) Bütün 4 eş parçaya ayrılmıştır.
B) Eş parçaların 3 parçası boyanmıştır.
C) Boyalı kısımların kesir ile ifade edilmiş şekli $\frac{1}{4}$ 'dir.



11. Aşağıda ifadelerden hangisi yanlıştır?

- A) Trafik kurallarına sadece sürücüler uymalıdır.
B) Araçlar için yanan yeşil ışık "geç" anlamına gelir.
C) Caddede yürürken kaldırımları kullanmalıyız.

12. Aşağıdaki ifadelerden hangisi doğrudur?

- A) Trafik polisleri trafikteki düzenin sağlanmasından sorumludur.
B) Yayalar yol boş ise kendileri için kırmızı ışık yanarken karşıdan karşıya geçebilirler.
C) Trafik işaretlerinin anlamlarını 18 yaşından sonra öğrenmeliyiz..

13. Hangi levha okul geçidi levhasıdır?



14. Yayaların, hayvanların ve araçların karayolları üzerindeki hal ve hareketlerine ne ad verilir?

- A) yol B) trafik C) levha

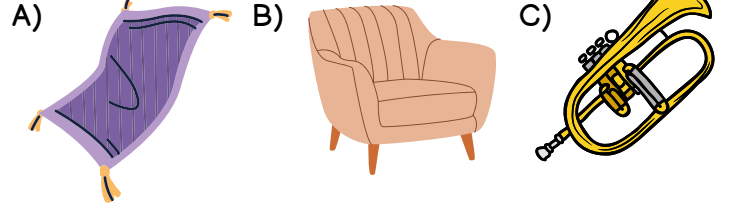
15. Aşağıdakilerden hangisi karşıdan karşıya geçerken güvenli geçiş kuralıdır?

- A) Yayaların karşıdan karşıya geçerken ilk önce sağa, sonra sola, sonra tekrar sağa bakmaları gerekmektedir.
B) Yol boş ise koşarak karşıya geçilmelidir.
C) Yayaların karşıdan karşıya geçerken ilk önce sola, sonra sağa, sonra tekrar sola bakmaları gerekmektedir.

16. "..... çıkararak her varlık bir ses kaynağıdır." cümlesinde boş bırakılan yere hangisi gelmelidir?

- A) ışık
B) ses
C) ısı

17. Aşağıdaki görsellerden hangisi bir ses kaynağıdır?



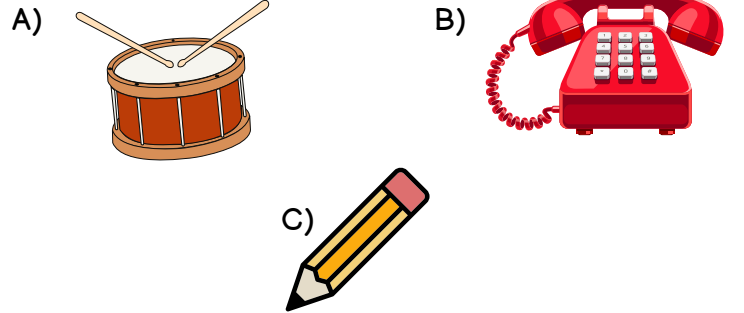
18. Aşağıdaki ifadelerden hangisi yanlıştır?

- A) Ses çevreye doğrusal olarak yayılır.
B) Her sesin bir kaynağı vardır.
C) Farklı ses kaynaklarından çıkan sesler de farklı olur.

19. "Düdük bir ses kaynağıdır." Buna göre aşağıdaki varlıklardan hangisi bu yönüyle düdüğe benzer?

- A) duvar B) korna C) lamba

20. Aşağıda görselleri verilenlerden hangisi bir ses kaynağı değildir?



CEVAPLAR

- 1 A B C
2 A B C
3 A B C
4 A B C
5 A B C
6 A B C
7 A B C
8 A B C
9 A B C
10 A B C

- 11 A B C
12 A B C
13 A B C
14 A B C
15 A B C
16 A B C
17 A B C
18 A B C
19 A B C
20 A B C



20. HAFTA KAZANIM DEĞERLENDİRME CEVAP ANAHTARI

1	A
2	B
3	C
4	A
5	C
6	B
7	A
8	C
9	B
10	C

11	A
12	A
13	B
14	B
15	C
16	B
17	C
18	A
19	B
20	C