

- 1) Diktim onu büyüdü benimle,  
Kuşlara , sincaplara yuva oldu.  
Kelebekler, böcekler ona kondu.  
Ağacım tüm canlılara yuva oldu.

Yukarıda bir kıtası verilen şiirin konusu aşağıdakilerden hangisi olabilir?

- A) Ağaç sevgisi      B) Hayvan sevgisi  
C) Hayvanların yararları

- 2) Dün akşam komşumuz bize çok soğuk davrandı.

Yukarıdaki cümlede hangi kelime gerçek anlamı dışında kullanılmıştır?

- A) akşam      B) bize      C) soğuk

- 3) Aşağıdaki cümlelerin hangisinde "ağır" kelimesi gerçek anlamda kullanılmıştır?

- A) Annem ablama çok ağır konuştu.  
B) Umut ağır çantayı kolayca kaldırdı.  
C) Yandaki daireden çok ağır bir koku geliyordu.

- 4) Aşağıdaki cümlelerin hangisinde "boş" kelimesi farklı anlamda kullanılmıştır?

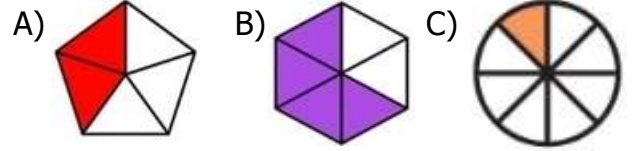
- A) Defne boş kutuyu eve götürdü.  
B) Adam boş vaatlerle bizleri kandırmış.  
C) Boş kasaya elmaları topladık.

- 5) Kara haber köyde çok çabuk duyuldu.

Yukarıdaki cümlede hangi kelime gerçek anlamı dışında kullanılmıştır?

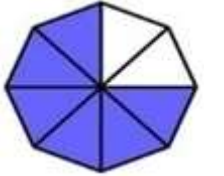
- A) kara      B) çabuk      C) köyde

- 6) Aşağıdaki şekillerin hangisinde boyalı kısım birim kesri ifade eder?



- 7) Yandaki şekildeki boyalı alanın kesir sayısı ile ifade edilişi aşağıdakilerden hangisidir?

- A)  $\frac{8}{8}$       B)  $\frac{6}{6}$       C)  $\frac{6}{8}$



- 8) Yandaki kesir sayısı ile ilgili aşağıdaki ifadelerden hangisi **yanlıştır**?

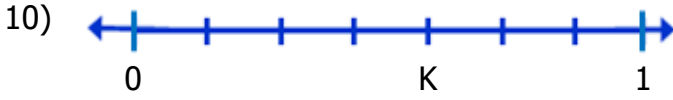
$$\frac{4}{6}$$

- A) Eş parçalardan 4 tanesi alınmıştır.  
B) Bütün 4 eş parçaya bölünmüştür.  
C) Bütün 6 eş parçaya bölünmüştür.



Yukarıdaki şeklin birim kesri aşağıdakilerden hangisidir?

- A)  $\frac{1}{10}$       B)  $\frac{4}{10}$       C)  $\frac{6}{10}$



Yukarıdaki sayı doğrusunda K noktası hangi kesir sayısı ile ifade edilir?

- A)  $\frac{4}{7}$       B)  $\frac{7}{4}$       C)  $\frac{5}{8}$

11) Aşağıdakilerden hangisi acil bir durum **değildir**?

- A) Okulda yangın çıkması.  
B) Evimizin elektriğinin kesilmesi.  
C) Bir öğrencinin bayılması.

12) I – Deprem  
II- Tören  
III- Sel

Yukarıdakilerden hangileri acil durumdur?

- A) Hepsi      B) I      C) I ve III

13) Yaşadığımız apartmanda yangın çıktı.

Yukarıdaki durumda aşağıdakilerden hangisini yapmamız en doğru hareket olacaktır?

- A) Balkondan aşağı atlamak.  
B) Yangın merdivenini kullanarak apartmandan uzaklaşmak.  
C) Yangını söndürmeye çalışmak.

14) Bir hırsızlık olayında aşağıdakilerden hangisinden yardım isteyebiliriz?

- A) Komşumuz      B) İtfaiye      C) Polis

15) Mutfakta ocakta bir gaz kaçağı olması durumunda aşağıdakilerden hangisi alınabilecek bir güvenlik tedbiri **değildir**?

- A) Sessizce bekleriz.  
B) Bir büyüğümüze haber veririz.  
C) Pencereleri açıp mutfağı havalandırırız.

16) Gaye'nin duymuş olduğu sesin şiddeti gittikçe artmaktadır.

Yukarıdaki durumda aşağıdaki sonuçlardan hangisi çıkarılabilir?

- A) Ses kaynağı Gaye'den uzaklaşmaktadır.  
B) Ses kaynağı Gaye'ye yaklaşmaktadır.  
C) Ses kaynağı olduğu yerde durmaktadır.

17) Aşağıdaki ses kaynaklarından hangisi diğerlerinden **farklıdır**?

- A) Rüzgar      B) Telefon      C) Davul

18) Ses kaynakları ile ilgili aşağıdakilerden hangisi doğrudur?

|    | <u>Canlı Varlıklar</u> | <u>Cansız Varlıklar</u> |
|----|------------------------|-------------------------|
| A) | Doğal                  | Yapay                   |
| B) | Doğal                  | Doğal                   |
| C) | Yapay                  | Doğal                   |

19) Aşağıdakilerden hangisi **yanlıştır**?

- A) Ses her yöne doğru yayılır.  
B) Ses kaynağının yaklaşıp uzaklaştığını anlayamayız.  
C) Her sesin bir kaynağı vardır.

20)

matkap - yağmur – kuş – telefon – su  
araba – gök gürültüsü – düdük - kedi

Yukarıdaki ses kaynaklarının türüne ilişkin sayılar hangisinde doğru verilmiştir?

- A) 5 tane yapay , 4 tane doğal  
B) 3 tane yapay , 6 tane doğal  
C) 4 tane yapay , 5 tane doğal

## CEVAP ANAHTARI

| TÜRKÇE | MATEMATİK | HAYAT BİL. | FEN BİLİM. |
|--------|-----------|------------|------------|
| 1) A   | 6) C      | 11) B      | 16) B      |
| 2) C   | 7) C      | 12) C      | 17) A      |
| 3) B   | 8) B      | 13) B      | 18) A      |
| 4) B   | 9) A      | 14) C      | 19) B      |
| 5) A   | 10) A     | 15) A      | 20) C      |