

Ad, soyad:

.....
.....
.....

Hafta Sonu Etkinlikleri - 2



Metni üç kere okuyalım ve okuma yaparken süre tutalım.



ÖĞRETMENİM

Öğretmenim çok kibar bir insandır. Hiç kötü söz söylemez. Sesini yükselttiğini bile duymadık. Biliyorum, bazen sinirlenir. O zaman kollarını bağlar ve bir süre sessizce bekler. Sinirlendiğinde içinden ona kadar sayıyormuş. Böylece siniri geçiyormuş. Ben de artık sinirlendiğimde onun yaptığı gibi yapıyorum. Gerçekten işe yarıyor.

Öğretmenim, onun için bir iyilik yaptığımızda mutlaka teşekkür eder. Sabahları ve okul çıkışlarında selamlaşır. Her insan gibi öğretmenim de hata yapabiliyor. İşte o zaman da özür diliyor. Öğretmenimi çok seviyorum.

1. okuma:.....

2. Okuma:.....

3. Okuma:.....

SORULAR

1- Öğretmen nasıl biriymiş?

2- Öğretmen sinirlendiğinde ne yapıyormuş?

3- İyilik yapıldığında öğretmen ne diyormuş?

4- Öğretmen ne zaman özür diliyormuş?



TOPLAMA VE ÇIKARMA ZAMANI



$17 - 5 =$

$18 - 9 =$

$20 - 5 =$

$17 - 17 =$

$9 + 3 =$

$10 + 2 =$

$2 + 8 =$

$9 + 9 =$

$10 - 9 =$

$14 - 7 =$

$11 - 5 =$

$14 - 2 =$

$14 + 3 =$

$2 + 10 =$

$10 + 6 =$

$11 + 7 =$

$18 - 8 =$

$4 - 1 =$

$19 - 3 =$

$11 - 6 =$

$13 + 5 =$

$16 + 3 =$

$9 + 6 =$

$18 + 1 =$

$$\begin{array}{r} 10 \\ - 3 \\ \hline \end{array}$$

$$\begin{array}{r} 12 \\ - 5 \\ \hline \end{array}$$

$$\begin{array}{r} 18 \\ - 4 \\ \hline \end{array}$$

$$\begin{array}{r} 19 \\ - 7 \\ \hline \end{array}$$

$$\begin{array}{r} 10 \\ + 5 \\ \hline \end{array}$$

$$\begin{array}{r} 10 \\ + 8 \\ \hline \end{array}$$

$$\begin{array}{r} 14 \\ + 5 \\ \hline \end{array}$$

$$\begin{array}{r} 11 \\ + 3 \\ \hline \end{array}$$

$$\begin{array}{r} 9 \\ - 8 \\ \hline \end{array}$$

$$\begin{array}{r} 12 \\ - 6 \\ \hline \end{array}$$

$$\begin{array}{r} 9 \\ - 3 \\ \hline \end{array}$$

$$\begin{array}{r} 8 \\ - 8 \\ \hline \end{array}$$

Funda Menekşe

✓ Sağlıklı besinleri işaretleyelim.



✓ İfadeleri okuyalım. Doğru ifadelerin başındaki bulutu maviye, yanlış ifadelerin başındaki bulutu kırmızıya boyayalım.



Süt, yumurta, bal hayvansal besinlerdir.



Sadece ayran içerek büyüyebiliriz.



Et ve süt ürünleri kemiklerimizi güçlendirir.



Meyve ve sebzeler bizi hastalıklardan korur.




Cips sağlıklı bir besindir.



Sağlıklı olmak için dengeli ve düzenli beslenmeliyiz.

✓ Sağlıklı besinlere örnek olabilecek beş besinin görselini çizelim.





DİL BİLGİSİ ETKİNLİKLERİ

Alfabemiz: a,b,c,ç,d,e,f,g,h,ı,i,j,k,l,m,n,o,ö,p,r,s,ş,t,u,ü,v,y,z

- Aşağıda verilen harflerden bir önceki ve bir sonraki harfleri yazalım.

○ K ○ ○ T ○

○ V ○ ○ E ○

○ U ○ ○ L ○

○ G ○ ○ Ö ○

- Verilen görsellerde yer alan varlıkların adını yazalım ve kelimeleri hecelerine ayıralım.




.....
.....



.....
.....



.....
.....



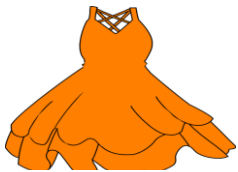
.....
.....



.....
.....



.....
.....



.....
.....



.....
.....



.....
.....

Ad, soyad:

.....
.....
.....

Haftalık Değerlendirme - 2



Doğru :
Yanlış :

Can, hafta sonu tiyatroya gitti. Tiyatrodaki oyunun adı Alaaddin'in Sihirli Lambasıydı. Oyuncuların rollerini sergiledikleri yere sahne denirmiş. Sahnedeki eşyalara ise dekor denirmiş. Can dekorları dikkatle inceledi. En çok uçan halıyı beğendi. Oyunun sonunda tüm seyirciler oyuncuları ayakta alkışladı.



İlk dört soruyu metne göre cevaplayalım.

- 1- Kim tiyatroya gitti?
A) Alaaddin B) Can C) Efe
- 2- Tiyatro oyununun adı neydi?
A) Alaaddin'in Sihirli Lambası
B) Bir Yaz Gecesi Rüyası
C) Dekor
- 3- Can tiyatroya ne zaman gitti?
A) Pazartesi
B) hafta sonu
C) yaz mevsiminde

- 4- Can sahnede en çok hangi dekoru beğendi?
A) lamba
B) uçak
C) uçan halı
- 5- Alfabemizin ilk ve son harfleri hangileridir?
A) A-B B) A-Z C) K-Ğ
- 6- Aşağıdaki kelimelerden hangisi hecelerine yanlış ayrılmıştır?
A) t-ren
B) o-yun-cak
C) sah-ne
- 7- "Ayşe () nin ödevini beğendim." cümlesinde () olan yere hangi noktalama işareti yazılmalıdır?
A) soru işareti (?)
B) virgöl (,)
C) kesme işareti (')



8- Yukarıda kaç tane balık vardır?

- A) 7 B) 8 C) 9

9- İleriye onar ritmik sayarken altmıştan sonra hangi sayıyı söyleriz?

- A) elli B) altmış bir C) yetmiş







10- Hatice Öğretmen öğrencilerini sıraya dizmiştir. Görsele göre Selin kaçınıcı sıradaki öğrencidir?

- A) 2. B) 5. C) 4.



11- Yandaki para ile hangisini alabiliriz?




- A)  B)  C) 






12- Yukarıda verilen çıkarma işleminin sonucu kaçtır?

- A) 8 B) 7 C) 17

13- Hangi görselde sağlıklı bir besin vardır?

- A)  B)  C) 

14- Aşağıdakilerden hangisi hayvansal besinlerdendir?

- A)  B)  C) 

15- Aşağıdaki ifadelerden hangisi yanlıştır?

- A) Sağlıklı beslenmek için yalnızca et yemeliyiz.
B) Et, süt, yumurta kemiklerimizi güçlendirir.
C) Meyve ve sebzeler bizi hastalıklardan korur.