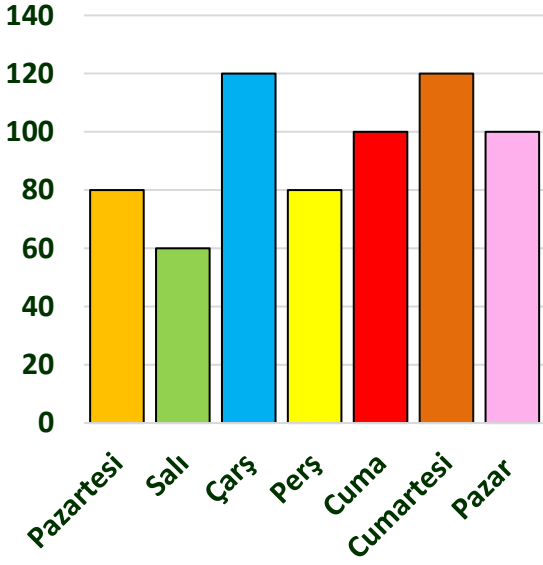


Adı :
Soyadı:

4. Sınıf
Matematik

Veri İşleme
Grafikler-1



Yanda verilen sütun grafiğinde Antalya havaalanına inen uçakların sayısını göstermektedir. Grafiğe göre sıklık tablosunu doldurunuz ve aşağıdaki soruları cevaplayınız.

Haftanın Günleri	Uçak Sayısı

En çok hangi günlerde kaç uçak iniş yapmıştır?

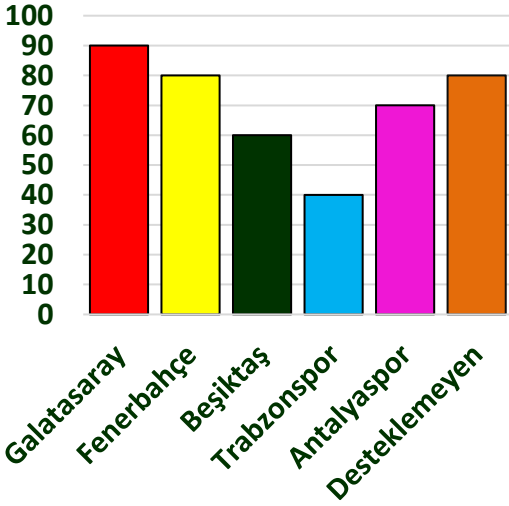
.....

Hafta sonu kaç uçak iniş yapmıştır?

.....

Bir haftada kaç uçak iniş yapmıştır?

.....



Okulumuzdaki erkek öğrencilerin destekledikleri takımlara ait sütun grafiği yanda verilmiştir. Grafiğe göre sıklık tablosunu doldurunuz ve aşağıdaki soruları cevaplayınız.

Takımlar	Destekleyen Sayısı

En çok desteklenen takım ve sayısı

.....

En az desteklenen takım ve sayısı

.....

Okulda kaç öğrenci herhangi bir takımı desteklemektedir?

.....

Toplam kaç öğrenciye ankete katılmıştır?

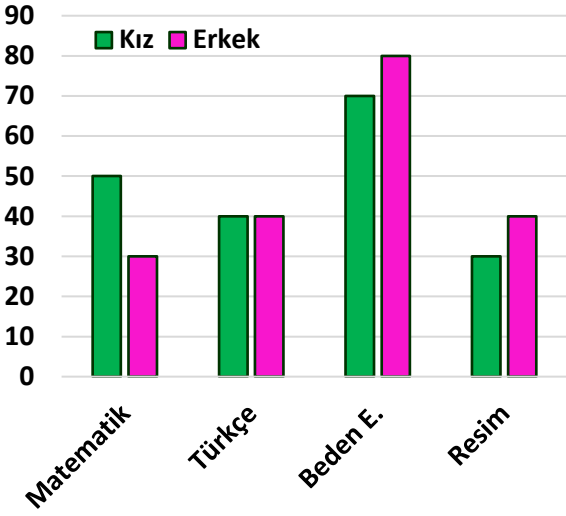
.....

Okulumuzda 712 öğrenci olduğuna göre kaç tane kız öğrenci vardır?

Adı :
Soyadı:

4. Sınıf Matematik

Veri İşleme Grafikler-1



Okulumuzdaki öğrencilerin en sevdiği dersleri gösteren sütun grafik yandadır. Grafiğe göre sıklık tablosunu doldurunuz ve aşağıdaki soruları cevaplayınız.

Dersler	Erkek Sayısı	Kız Sayısı

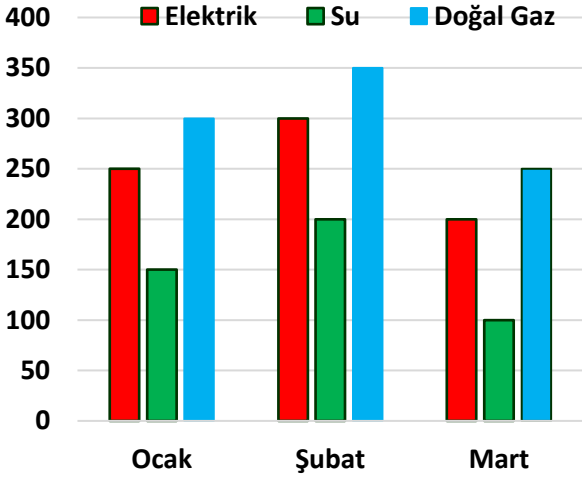
Kızların en çok sevdiği ders hangisidir?
.....

Erkeklerin en az sevdiği ders hangisidir?
.....

En sevilen ders hangisidir?
Toplam kaç öğrenci sevmektedir?.....

Toplam kaç tane kız öğrenci görüş bildirmiştir?
.....

Okulda kaç tane kız ve erkek öğrenci vardır?
.....



Öztürk ailesinin üç aylık giderlerini (TL) gösteren sütun grafik yandadır. Grafiğe göre sıklık tablosunu doldurunuz ve aşağıdaki soruları cevaplayınız.

Aylar	Elektrik	Su	Doğal Gaz

Doğalgaz için toplam ne kadar ücret ödemişler?
.....

En çok hangi ayda ne kadar su faturası ödenmiştir?
.....

3 aylık elektrik toplamı ne kadardır?
.....

Mart ayı su gideri ile şubat ayı elektrik gideri arasında ne kadar fark vardır?.....

En çok hangi ayda ne kadar gider ödenmiştir?
.....

Ocak ayı ile mart ayı giderleri arasındaki fark ne kadardır?
.....