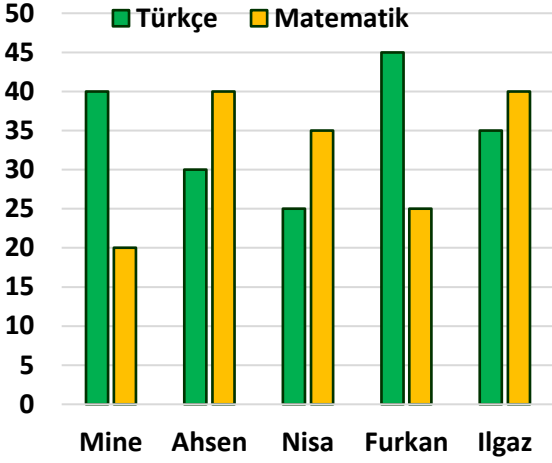


Adı : .....  
Soyadı: .....

## 4. Sınıf Matematik

## Veri İşleme Grafikler-2



Öğrencilerin Türkçe ve matematik dersinde çözdüğü soru sayılarının sütun grafiğine sıklık tablosunu doldurunuz ve aşağıdaki soruları cevaplayınız.

Öğrenciler	Türkçe	Matematik

En çok matematik sorusu çözen kimdir? Kaç soru çözmüştür?.....

Furkan Mine'den kaç tane Türkçe sorusu fazla çözmüştür?

Kız öğrenciler toplam kaç tane matematik sorusu çözmüştür?.....

Tüm öğrencilerin çözdüğü Türkçe sorusu kaç tanedir?.....

En çok ve en az soru çözen öğrenci kimdir? .....

Furkan ile Ilgaz'ın çözdüğü soruların eşit olması için Furkan kaç soru çözmelidir?



Öğrencilerin en sevdiği meyvelere ait sıklık tablosuna göre sütun grafiğini tamamlayınız..

Öğrencilerin yaz tatilinde okuduğu kitap sayılarına ait sıklık tablosuna göre sütun grafiğini tamamlayınız..

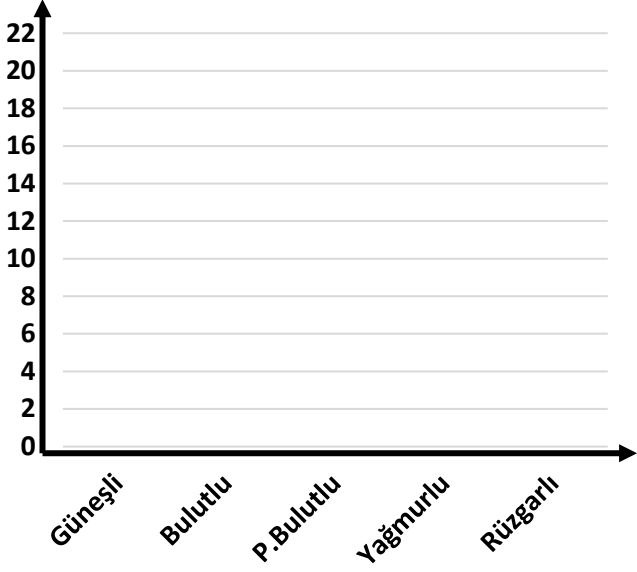
Meyveler	Sayı
Elma	4
Muz	7
Çilek	8
Üzüm	5
Kiraz	9

Meyveler	Sayı
Cemil	35
Efe	25
Yiğit	30
Nehir	50
Hilal	45

Adı : .....  
Soyadı: .....

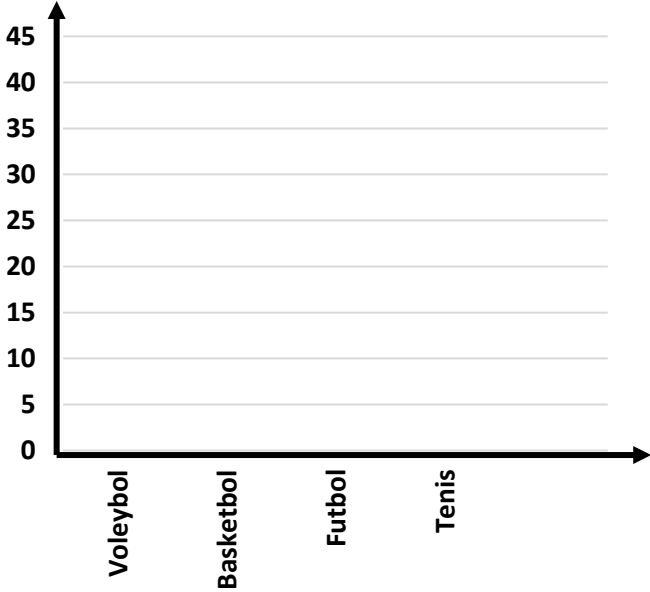
## 4. Sınıf Matematik

## Veri İşleme Grafikler-2



Antalya'da ocak ve şubat aylarındaki hava durumunu ait çetele tablosuna göre sütun grafiğini tamamlayınız..

Hava Durumu	Çetele	Sıklık
Güneşli		
Bulutlu		
Parçalı Bulutlu		
Yağmurlu		
Rüzgârlı		



Okulumuzdaki öğrencilerin ilgilendikleri spor dallarına ait nesne tablosuna göre sütun grafiğini tamamlayınız..

Spor Dalı	Nesne
Voleybol	
Basketbol	
Futbol	
Tenis	

**Not:** Her nesne 5 kişidir.



Bir mağazada bir günde satılan kıyafetlerin sayısına ait nesne tablosuna göre sütun grafiğini tamamlayınız..

Giyim Türü	Nesne
Kazak	
Şapka	
Mont	
Atkı	
Bot	

**Not:** Her nesne 3 adettir.