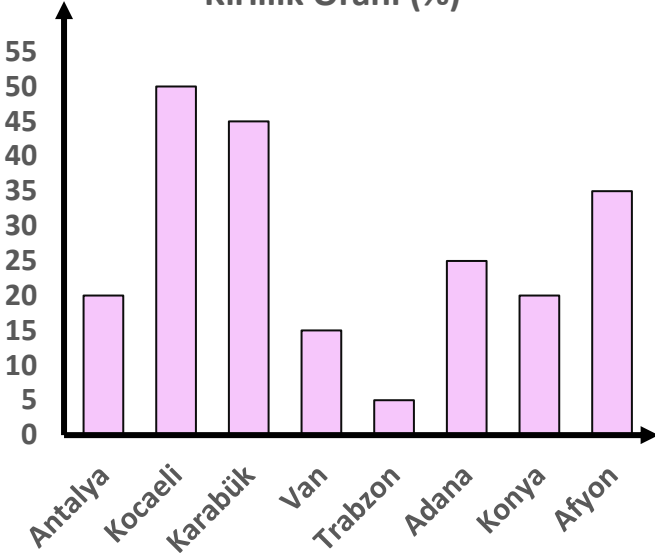


Adı :
Soyadı:

4. Sınıf
Matematik

Veri İşleme
Grafikler-3

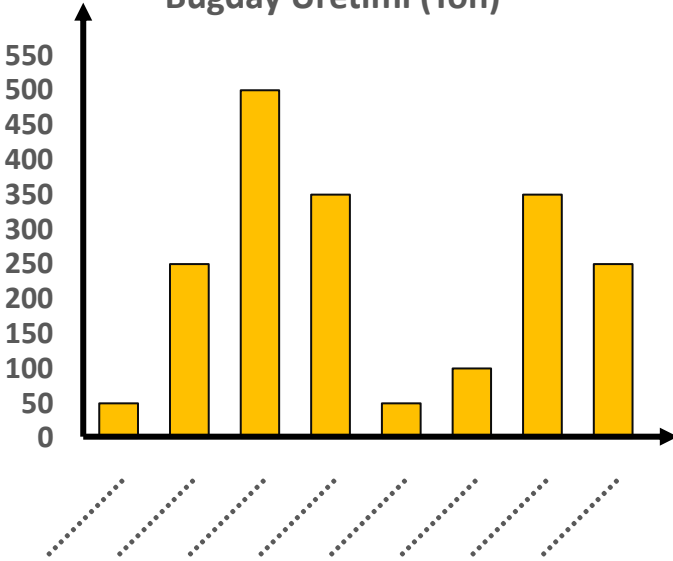
Kirlilik Oranı (%)



Bazı şehirlerdeki hava kirlilik oranları yanda verilmiştir. Kirlilik oranlarını şehirlere göre en fazladan en aza doğru sıralayınız.

Şehirler	Kirlilik Oranı

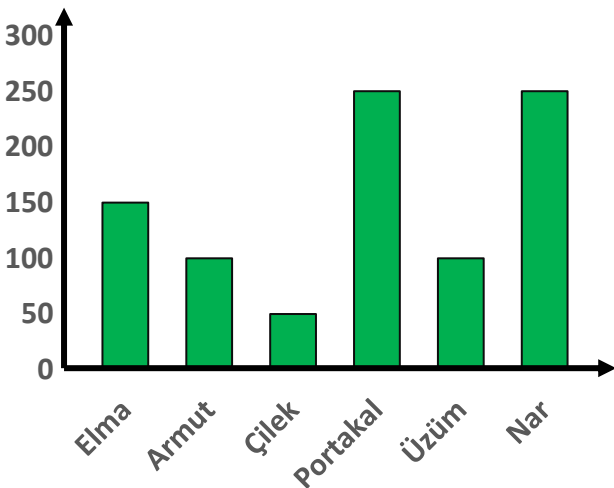
Buğday Üretimi (Ton)



Ülkemizde şehirlerin buğday üretim miktarı yanda verilmiştir. Sıklık tablosuna göre sütun grafiğinde şehir isimlerini yazınız.

Şehirler	Buğday Üretimi
Muğla	50.000 ton
Şanlıurfa	350.000 ton
Ankara	250.000 ton
Niğde	100.000 ton
Konya	500.000 ton
Diyarbakır	350.000 ton
Antalya	50.000 ton
Sivas	250.000 ton

Üretim Miktarı (kg)

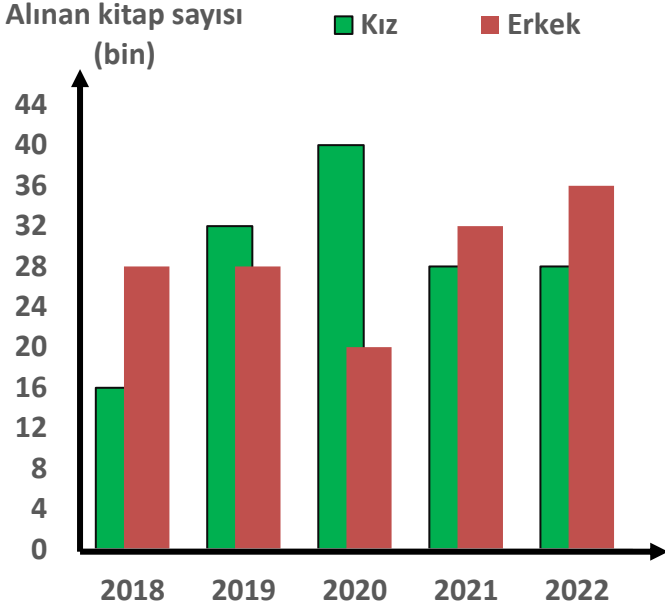


Şehirler	Meyve Miktarı	Fiyatı (kg)	Kazanç
Portakal		8 TL	
Elma		10 TL	
Nar		10 TL	
Çilek		15 TL	
Armut		15 TL	
Üzüm		20 TL	

Adı :
Soyadı:

4. Sınıf
Matematik

Veri İşleme
Grafikler-3



1-2018 yılında toplam kaç kitap alımı yapılmıştır?

Cevap:.....

2-Kızların en çok kitap aldığı yıl hangisidir? Kaç kitap almışlardır?

Cevap:.....

3-Erkekler 5 yılda toplam kaç kitap satın almışlardır?

Cevap:.....

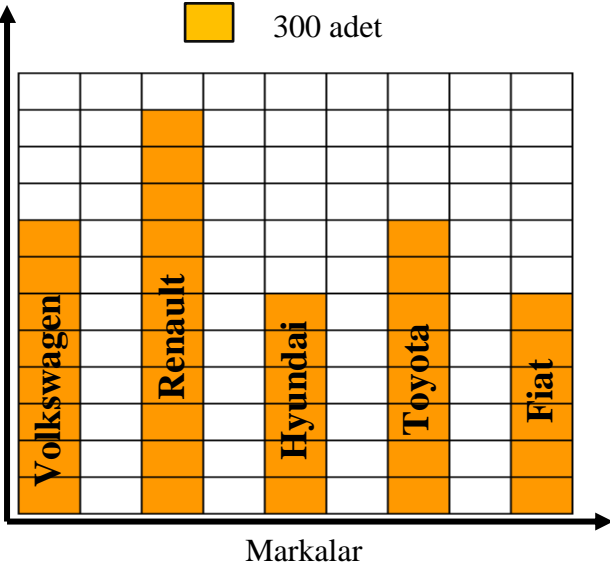
4-2021 yılında kızlar erkeklerden ne kadar fazla kitap satın almıştır?

Cevap:.....

5-En çok kitap satışı hangi yıl toplam kaç tane yapılmıştır?

Cevap:.....

Satış Adedi



1-En az satılan marka hangisidir? Kaç tane satış yapılmıştır?

Cevap:.....

2-Renault satışı Fiat satışından ne kadar fazladır?

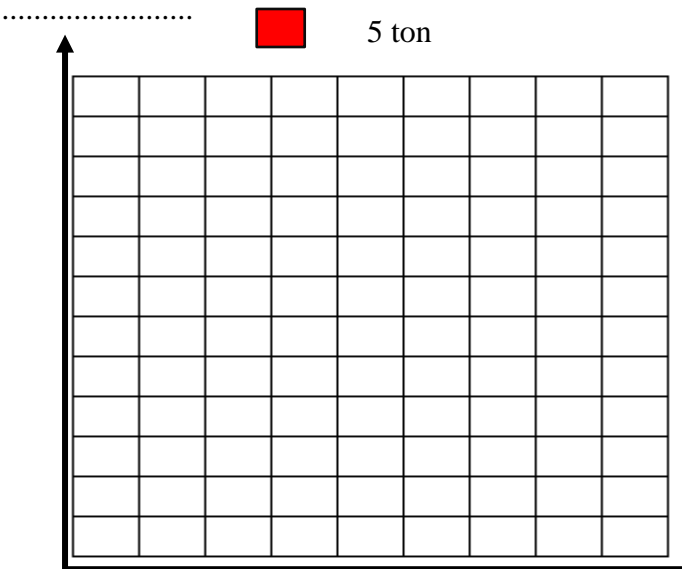
Cevap:.....

3-Hangi marka taşıtların satışı eşit miktardadır? İkisinin toplam satışı ne kadardır?

Cevap:.....

4-Toplam kaç tane satış yapılmıştır?

Cevap:.....



Bir çiftçinin yıllara göre ürettiği domates miktarları sıklık tablosunda verilmiştir. Her birim kare 5 ton olarak yandaki sütun grafiğini tamamlayınız.

Yıllar	Üretilen Domates Miktarı
2015	50 ton
2016	45 ton
2017	30 ton
2018	55 ton
2019	50 ton