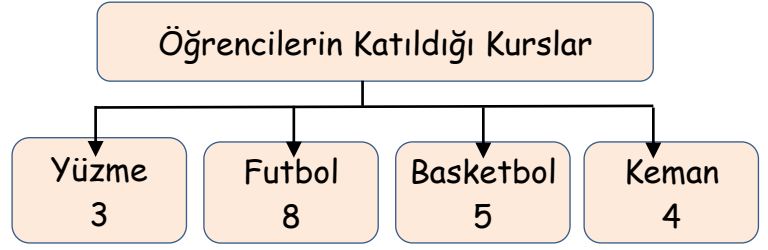
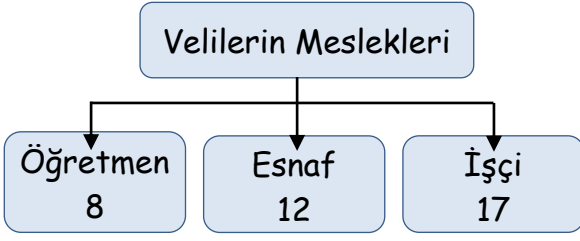


Adı :
Soyadı:

4. Sınıf Matematik

Veri İşleme Grafikler-4

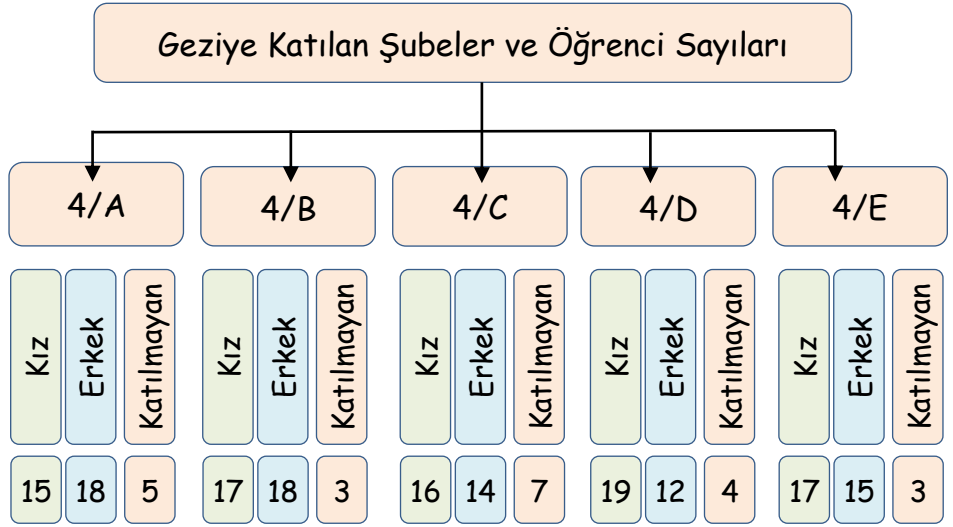


Yukarıdaki ağaç şemalarına göre verileri büyükten küçüğe doğru sıklık ve çetele tablosuna yazınız.

.....	Sıklık Miktarı

.....	Çetele Miktarı

Otobüs Ücreti 20 TL
Müze Ücreti 10 TL
Park Ücreti 30 TL



1- Sınıf mevcudu en fazla sınıf hangisidir?
.....

2- Geziye en çok hangi sınıfın kızları katılmaktadır?
.....

3- Erkeklerin en az katıldığı sınıf hangisidir?
.....

4- Geziye katılmayan öğrencilerin sayısı kaçtır?
.....

5- 4/A sınıfı otobüs için kaç lira ödemiştir?
.....

6- 4/B sınıfı müzeye girerken kaç lira ödediler?
.....

7- 4/C gezi için toplam kaç lira harcadı?
.....

8- 4/D sınıfı park için ne kadar harcadı?
.....

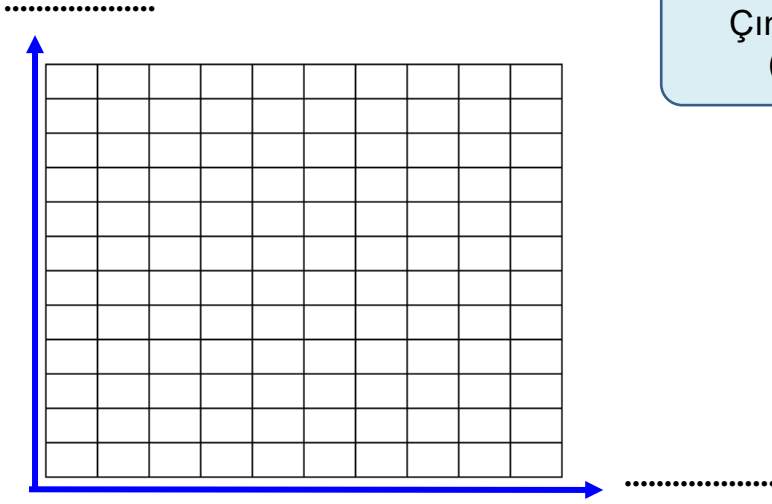
9- Geziye kaç öğrenci katılmıştır?
.....

Adı :
Soyadı:

4. Sınıf
Matematik

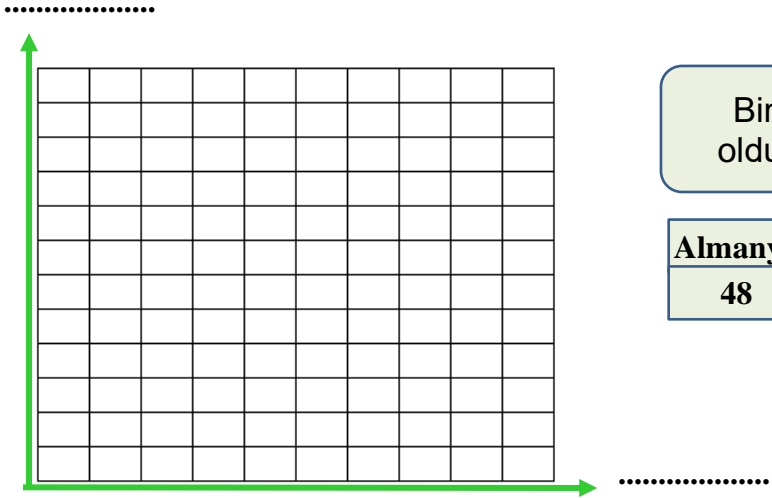
Veri İşleme
Grafikler-4

Verilere göre sütun grafiğini çizerek başlıklarını yazınız.




Çınar'ın günlere göre ders çalıştığı süreler (dakika) aşağıdaki tabloda verilmiştir.

.....
Pazartesi	55 dk
Salı	65 dk
Çarşamba	45 dk
Perşembe	30 dk
Cuma	40 dk



Bir otelde kalan turistlerin hangi ülkeye ait olduğunu gösteren tablo aşağıda verilmiştir.

Almanya	Rusya	Fransa	İtalya	Çin
48	72	56	32	64



Apartmanlarda bulunan daire sayılarını gösteren çetele tablosu aşağıda verilmiştir.

.....
Mutlu Apt.	
Gül Apt.	
Güneş Apt.	
Bahar Apt.	
Sevgi Apt.	