

3. SINIF

21. HAFTA KAZANIM DEĞERLENDİRME

1. Aşağıdaki cümlelerden hangisinde konut kelimesinin eş anlamlısı geçmektedir?

- A) Misafirlerimiz geleceği için annem mutfakta hazırlık yapıyordu.
B) Evimizin güneş alan cephesinde büyük bir balkonumuz vardı.
C) Arkadaşlarımla yarın öğlen parkta oynamak için sözleştik.

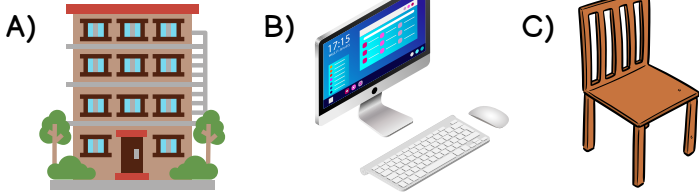
2. Aşağıdaki kelime çiftlerinden hangisi diğerlerinden farklı bir anlam ilişkisi içerisindedir?

- A) uzak - ırak
B) yaşlı - genç
C) sağ - sol

3. "Uzun süre yağmurda yürüdüğü için" cümlesinde boş bırakılan yere hangisinin gelmesi uygun olmaz?

- A) sırsıklam olmuştu.
B) hasta oldu.
C) ailesi onu ödüllendirdi.

4. Aşağıdaki varlıklardan hangisinin ikinci hecesi üç harften oluşmaktadır?



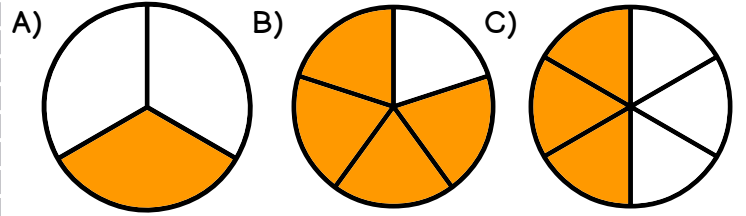
5. Hangi ata sözünde zıt anlamlı kelimeler bir arada kullanılmıştır?

- A) Ayağını yorganına göre uzat.
B) Tok, açın halinden anlamaz.
C) Rüzgar eken, fırtına biçer.

6. Bir bütünün eş parçalarından her birine ne denir?

- A) tam kesir
B) bütün
C) birim kesir

7. Aşağıdaki kesir görsellerinden hangisi birim kesire örnektir?

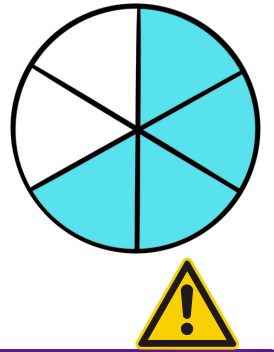


8. Aşağıdakilerden hangisi "dörtte üç" kesrinin birim kesridir?

- A) $\frac{2}{3}$ B) $\frac{1}{4}$ C) $\frac{3}{4}$

9. Yan taraftaki görsel ile ilgili verilen hangi bilgi doğrudur?

- A) Bütün 6 eş parçaya ayrılmış, 4 eş parçası boyanmıştır.
B) Bütün 6 eş parçaya ayrılmış, 2 parçası boyanmıştır.
C) Bütün 4 eş parçaya ayrılmış, 2 eş parçası alınmıştır



DİKKAT SORUSU

10. $\frac{A+2}{8}$ kesrinin payı paydasından küçüktür. Buna göre "A" yerine yazılabilecek sayıların toplamı kaçtır?

- A) 5 B) 10 C) 15



11.



Yukarıda görseli verilen işaretin adı nedir?

- A) Binaya giriş işareti
- B) Acil durum işareti
- C) Soldan geçiniz işareti

12. Aşağıdaki ifadelerden hangisi acil durumlara örnek değildir?

- A) yağmur
- B) deprem
- C) sel

13. Hangi görselde ülkemizde acil durumlarda aranacak telefon numarası verilmiştir?



14. Doğal afetler hangi durumlara örnektir?

- A) Acil durumlar
- B) Hareketli durumlar
- C) Küresel durumlar



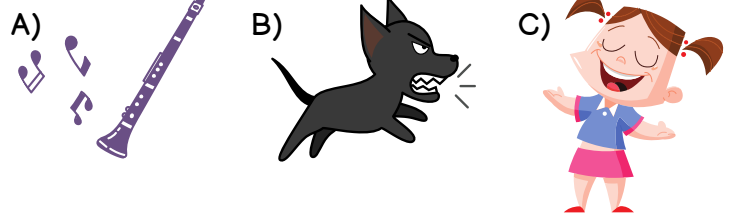
15. Aşağıdaki ifadelerden hangisi yanlıştır?

- A) Acil bir durumda ulaşılabilmesi için çantalarımızda yakınlarımızın telefon numaralarının yazılı olduğu bir kağıt bulundurmalıyız.
- B) Emniyetli alanlara ilerlerken en kestirme yolu izlemeliyiz.
- C) Acil durumlarda insanların hızla o bölgeden uzaklaşıp emniyetli bölgelere gitmesi gerekir.

16. "..... tabiat olaylarının veya canlıların çıkardığı seslerdir." cümlesinde boş bırakılan yere hangisi gelmelidir?

- A) Ses titreşimleri
- B) Yapay ses kaynakları
- C) Doğal ses kaynakları

17. Aşağıdaki görsellerden hangisi yapay bir ses kaynağıdır?



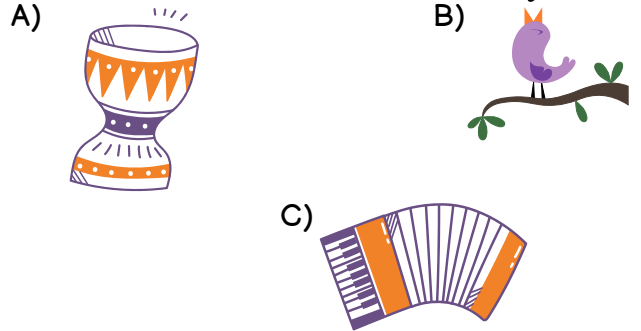
18. Aşağıdaki ifadelerden hangisi doğrudur?

- A) Kapı zili doğal ses kaynağıdır.
- B) Kedi miyavlaması doğal ses kaynağıdır.
- C) Televizyon sesi doğal ses kaynağıdır.

19. "Dalga sesi doğal ses kaynağıdır." Buna göre aşağıdaki seslerden hangisi bu yönüyle dalga sesine benzer?

- A) düdük sesi
- B) zil sesi
- C) rüzgar sesi

20. Aşağıda görselleri verilenlerden hangisi yapay bir ses kaynağı değildir?



CEVAPLAR

- 1 A B C
- 2 A B C
- 3 A B C
- 4 A B C
- 5 A B C
- 6 A B C
- 7 A B C
- 8 A B C
- 9 A B C
- 10 A B C

- 11 A B C
- 12 A B C
- 13 A B C
- 14 A B C
- 15 A B C
- 16 A B C
- 17 A B C
- 18 A B C
- 19 A B C
- 20 A B C



21. HAFTA KAZANIM DEĞERLENDİRME

CEVAP ANAHTARI

1	B
2	A
3	C
4	C
5	B
6	C
7	A
8	B
9	A
10	C

11	B
12	A
13	C
14	A
15	B
16	C
17	A
18	B
19	C
20	B

