


2.SINIF BÖLME İŞLEMİNİN ANLAMI 1


Aşağıdaki nesnelere ikişerli gruplara ayırınız ve kaç tane grup oluşturduğunu belirtiniz. Noktalı yerleri verilen nesne sayısına göre doldurunuz.




..... tane çileği, gruplara ayırdım.
..... tane grup oluştu.




..... tane armudu, gruplara ayırdım.
..... tane grup oluştu.




..... tane elmayı, gruplara ayırdım.
..... tane grup oluştu.



..... tane anahtarı, gruplara ayırdım.
..... tane grup oluştu.



..... tane pili, gruplara ayırdım.
..... tane grup oluştu.



..... tane topu, gruplara ayırdım.
..... tane grup oluştu.