

2.SINIF BÖLME İŞLEMİNİN ANLAMI 2


Aşağıdaki nesnelere üçerli gruplara ayırınız ve kaç tane grup oluşturduğunu belirtiniz. Noktalı yerleri verilen nesne sayısına göre doldurunuz.



..... tane balonu, gruplara ayırdım. tane grup oluştu.




..... tane kulübeyi, gruplara ayırdım. tane grup oluştu.




..... tane şekeri, gruplara ayırdım. tane grup oluştu.



..... tane limonu, gruplara ayırdım. tane grup oluştu.



..... tane silgiyi, gruplara ayırdım. tane grup oluştu.



..... tane ekmeği, gruplara ayırdım. tane grup oluştu.