



2.SINIF BÖLME İŞLEMİNİN ANLAMI 4

Aşağıdaki papatyaları sayınız. Papatya ve ağaçları beşerli gruplara ayırınız. Kaç grup oluşturduğunu yanına yazınız.



Grup sayısı :




Grup sayısı :

Aşağıdaki saksıları içinde eşit sayıda saksı bulunan 3 gruba ayırınız. Her bir grupta kaç saksı olduğunu yazınız.




Gruptaki saksı sayısı :

Aşağıdaki atları içinde eşit sayıda at bulunan 4 gruba ayırınız. Her bir grupta kaç at olduğunu yazınız.



Gruptaki at sayısı :

Aşağıdaki kurbağaları içinde eşit sayıda kurbağa bulunan 2 gruba ayırınız. Her bir grupta kaç kurbağa olduğunu yazınız.



Gruptaki kurbağa sayısı :