


2.SINIF BÖLME İŞLEMİNİN ANLAMI 1


Aşağıdaki nesnelere ikişerli gruplara ayırınız ve kaç tane grup oluşturduğunu belirtiniz. Noktalı yerleri verilen nesne sayısına göre doldurunuz.




..... tane çileği, gruplara ayırdım.
..... tane grup oluştu.




..... tane armudu, gruplara ayırdım.
..... tane grup oluştu.




..... tane elmayı, gruplara ayırdım.
..... tane grup oluştu.



..... tane anahtarı, gruplara ayırdım.
..... tane grup oluştu.



..... tane pili, gruplara ayırdım.
..... tane grup oluştu.



..... tane topları, gruplara ayırdım.
..... tane grup oluştu.

2.SINIF BÖLME İŞLEMİNİN ANLAMI 2


Aşağıdaki nesnelere üçerli gruplara ayırınız ve kaç tane grup oluşturduğunu belirtiniz. Noktalı yerleri verilen nesne sayısına göre doldurunuz.



..... tane balonu, gruplara ayırdım. tane grup oluştu.




..... tane kulübeyi, gruplara ayırdım. tane grup oluştu.




..... tane şekeri, gruplara ayırdım. tane grup oluştu.



..... tane limonu, gruplara ayırdım. tane grup oluştu.



..... tane silgiyi, gruplara ayırdım. tane grup oluştu.



..... tane ekmeği, gruplara ayırdım. tane grup oluştu.

2.SINIF BÖLME İŞLEMİNİN ANLAMI 3

Aşağıdaki nesnelere dörderli gruplara ayırınız ve kaç tane grup oluşturduğunu belirtiniz. Noktalı yerleri verilen nesne sayısına göre doldurunuz.



..... dilim karpuzu, gruplara ayırdım. tane grup oluştu.




..... tane kediyi, gruplara ayırdım. tane grup oluştu.




..... tane kuşu, gruplara ayırdım. tane grup oluştu.



..... tane aslanı, gruplara ayırdım. tane grup oluştu.




..... tane maymunu, gruplara ayırdım. tane grup oluştu.




..... tane tavuğu, gruplara ayırdım. tane grup oluştu.

2.SINIF BÖLME İŞLEMİNİN ANLAMI 4

Aşağıdaki papatyaları sayınız. Papatya ve ağaçları beşerli gruplara ayırınız. Kaç grup oluşturduğunu yanına yazınız.



Grup sayısı :




Grup sayısı :

Aşağıdaki saksıları içinde eşit sayıda saksı bulunan 3 gruba ayırınız. Her bir grupta kaç saksı olduğunu yazınız.




Gruptaki saksı sayısı :

Aşağıdaki atları içinde eşit sayıda at bulunan 4 gruba ayırınız. Her bir grupta kaç at olduğunu yazınız.



Gruptaki at sayısı :

Aşağıdaki kurbağaları içinde eşit sayıda kurbağa bulunan 2 gruba ayırınız. Her bir grupta kaç kurbağa olduğunu yazınız.



Gruptaki kurbağa sayısı :