



KARTALLAR

Kartal yavruları doğduktan sekiz, dokuz gün sonra dört kilogram, ağırlığa ulaşır. Kartal yavrularının doğduklarında rengi gridir. Dört yaşına kadar gri tüylere sahip olan kartal yavruları daha sonra ebeveynlerinin rengini almaya başlar. Afrika, Asya ve Avrupa kıtalarında 60'ın üzerinde kartal türleri bulunmaktadır.

Kartallar, eski yıllarda polislere ve ordulara yardım için kullanılmıştır. Kuş türleri içinde en uzun yaşayan canlılardır. Kartal türlerinin çoğunda dişi olan kartallar erkek olan kartallardan daha güçlü ve daha büyüktürler. Gökyüzünde en yüksekten uçan kuş türü kartallardır.

Not: İlk 3 soruyu metne göre cevaplayınız.

1) Kartallar ile ilgili hangi bilgi **yanlıştır**?

- A) Erkek olan kartallar dişi olan kartallardan daha güçlü ve daha büyüktürler.
 B) 60'dan fazla kartal türü bulunmaktadır.
 C) Kuş türleri içinde en uzun yaşayan canlılardır.

2) Gökyüzünde en yüksekten uçan kuş türü **hangisidir**?

- A) Karga B) Şahin C) Kartal

3) Kartallar, eski yıllarda kimlere yardım etmek için **kullanılmamıştır**?

- A) Polislere B) Çiftçilere
 C) Ordulara

4) 1 Ege ile Oya çok iyi arkadaşlar.

2 Spor yapmak sağlığımız için iyidir.

3 Çarşamba günü mü film izleyeceğiz ?

Yukarıdaki numaralanmış cümlelerin hangisinde hece sayısı daha **fazladır**?

- A) 1 B) 2 C) 3

5)

Siyah

Galip

Taze

Kara

Bayat


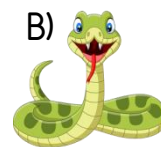
Mağlup

Ak

Yukarıdaki kelimeler **zıt anlamlıları** ile eşleştirildiğinde hangi kelime **boşta kalır**?

- A) Kara B) Siyah C) Galip

6) Sürüngen hayvanlar konulu bir yazı yazan Elifin yazısını aşağıdaki görsellerden hangisi ile desteklemesi **uygun olmaz**?





Kaan()ın kedisi Tekir()ın gözleri çok güzel değil mi ()

Yukarıdaki cümlede parantez işareti () olan yerlere sırasıyla hangi noktalama işaretleri **gelmelidir?**

- A) (') (') (.) B) (') (,) (?)
C) (') (') (?)


8)

Atalarım gökten yere
İndirmişler ay yıldızı
Bir buluta sarmışlar ki
Rengi şafaktan kırmızı

Yukarıdaki verilen şiirin konusu **nedir?**

- A) Bayrak B) Vatan
C) Gökyüzü


9)



Yukarıda verilen dondurmaları **ikişerli** gruplara ayırırsak **kaç grup** oluşur?

- A) 2 B) 5 C) 10

10)



Yukarıda verilen elmaları **beşerli** gruplara ayırırsak **kaç grup** oluşur?

- A) 4 B) 5 C) 20


11)

$$\begin{aligned} 16 - 4 &= 12 \\ 12 - 4 &= 8 \\ 8 - 4 &= 4 \\ 4 - 4 &= 0 \end{aligned}$$

Yandaki tekrarlı çıkarma işleminin bölme işlemi olarak **gösterilişi** hangisidir?

- A) $16 \div 2$ B) $16 \div 4$
C) $16 \div 8$

12)



Yukarıdaki çilekler **tabaklara eşit olacak** şekilde dağıtılacaktır. Her bir tabağa kaç çilek düşer?

- A) 3 B) 4 C) 5


13)

$$\begin{aligned} 18-3&=15 \\ 15-3&=12 \\ 12-3&=9 \\ 9-3&=6 \\ 6-3&=3 \\ 3-3&=0 \end{aligned}$$

Yandaki tekrarlı çıkarma işleminin bölme işlemi olarak **gösterilişi** hangisidir?

- A) $18 \overline{) 3}$ B) $18 \overline{) 6}$ C) $18 \overline{) 9}$

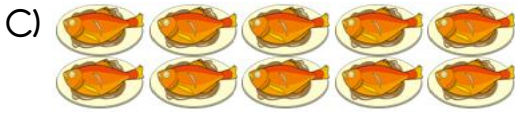
14)



Yukarıdaki armutları **kaç eş gruba** ayırırsak **her grupta 2 elma** olur?

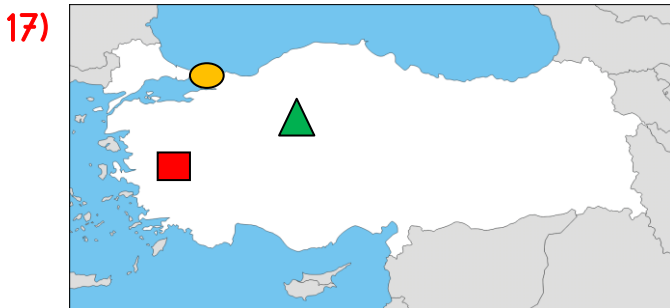
- A) 3 B) 4 C) 5

15) Aşağıdaki hangi gruptaki nesnelere dörderli gruplanırsa üç grup oluşur?



Yukarıdaki haritada ülkemiz **hangi rakamla** gösterilmiştir?

- A) 1 B) 2 C) 4



Yukarıdaki Türkiye haritasında hangi sembol, **başkentimizin** yerini göstermektedir?

- A) B) C)

18) Milli marşımızın adı ve şairi hangi seçenekte **doğru** olarak verilmiştir?

- A) İstiklal Marşı - Osman Zeki ÜNGÖR
B) Türkiye Marşı - Mehmet Akif ERSOY
C) İstiklal Marşı - Mehmet Akif ERSOY

19) Her bağımsız ülkenin, bir bayrağı ve milli marşı bulunmaktadır.

Bayrağımıza ve milli marşımıza **neden saygı** gösteririz?

- A) Bayrak ve milli marşımızın atalarımızdan kaldığı için
B) Bayrak ve milli marşımızın ülkemizin bağımsızlık sembolü olduğu için
C) Bayrak ve milli marşımızın şehitlerimizi hatırlattığı için

20) Türk bayrağı ve temsil eder.

Yukarıdaki ifadede noktalı yere hangisi yazılamaz?

- A) vatani
B) milleti
C) insanları

Cevap Anahtarı

1)A 2)C 3)B 4)A 5)B
6)C 7)C 8)A 9)B 10)A
11)B 12)C 13)A 14)C 15)B
16)A 17)B 18)C 19)B 20)C