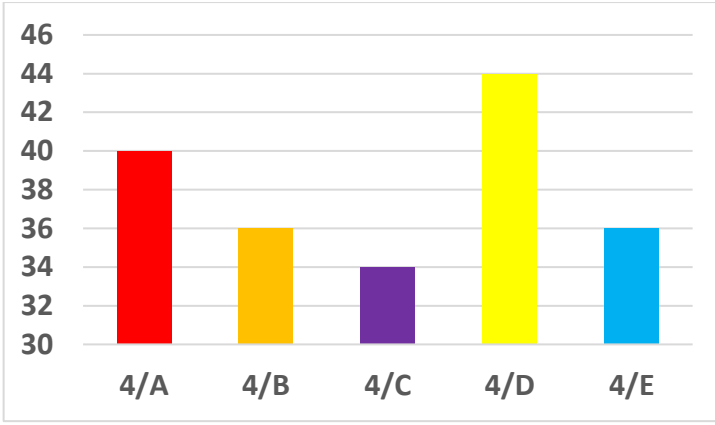


Adı :
Soyadı:

4. Sınıf
Matematik

Veri İşleme
Yaprak Test-1



Yukarıdaki sütun grafiğinde sınıfların mevcutları verilmiştir. Bu grafiğe göre 1.2. ve 3. soruları cevaplayınız.

1) 4. sınıflarda 91 kız öğrenci olduğuna göre erkeklerin sayısı kaçtır?

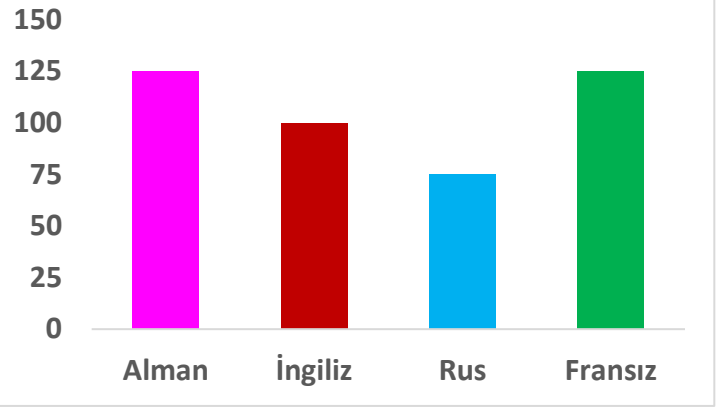
- A) 99 B) 100 C) 101 D) 95

2) 4/D sınıfının $\frac{4}{7}$ 'ü kız olduğuna göre erkek öğrencilerin sayısı kaçtır?

- A) 19 B) 20 C) 18 D) 16

3) Öğrenci sayısı en az olan sınıf ile en fazla olan sınıfın mevcutlarının toplamının $\frac{2}{6}$ 'sinin annesi ev hanımıdır. Annesi ev hanımı olan öğrenci sayısı kaçtır?

- A) 20 B) 22 C) 24 D) 26



Yukarıdaki sütun grafiğinde bir oteldeki turistlerin hangi ülke vatandaşı olduğu verilmiştir. Bu grafiğe göre 4.5. ve 6. soruları cevaplayınız.

4) Oteldeki bulunan turistlerden 89 tanesi hafta sonunda ayrıldı. Yerine 45 turist daha geldi. Otelde kaç tane turist olmuştur?

- A) 514 B) 381 C) 425 D) 469

5) Fransız turistlerin $\frac{3}{5}$ 'ü erkek olduğuna göre Fransız kadın turist sayısı kaçtır?

- A) 75 B) 25 C) 50 D) 60

6) Oteldeki turistlerin $\frac{1}{5}$ 'i yüzmeye, $\frac{2}{5}$ 'si yemek yemeğe gitti. Geri kalanları salonda spor yapıyor. Spor yapan turist sayısı kaçtır?

- A) 170 B) 255 C) 200 D) 85

Adı :
Soyadı:

4. Sınıf
Matematik

Veri İşleme
Yaprak Test-1

1	2
Elma	
Muz	
Çilek	
Şeftali	

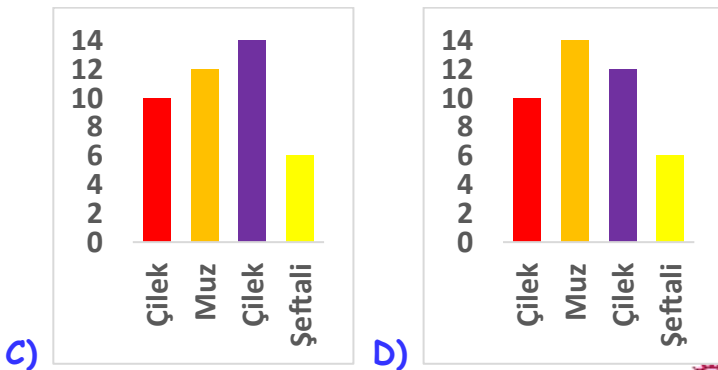
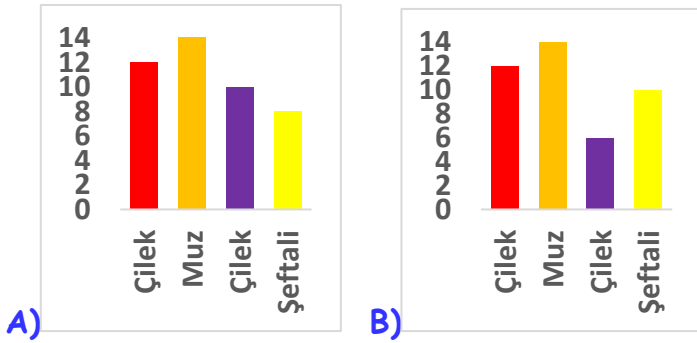
Yukarıdaki çetele tablosunda bir sınıftaki öğrencilerin sevdiği meyveler ve bu meyveleri seven öğrenci sayıları verilmiştir. Tabloya göre 7.8. ve 9. soruları cevaplayınız.

7) Tabloda 1 ve 2 numaralı bölgelere hangi başlıklar yazılmalıdır?

1	2
---	---

- A) Sütun grafiği Sınıf mevcudu
B) Sevilen meyveler Öğrenci sayısı
C) Sıklık durumu Çetele tablosu
D) Meyveler Sıklık tablosu

8) Verilen çetele tablosuna göre çizilen sütun grafiği hangisidir?



9) Çetele tablosu için hangi bilgi yanlıştır?

- A) Sınıf mevcudunun $\frac{1}{3}$ 'i muzu sevmektedir.
B) Çilek sevenlerin sayısının $\frac{3}{7}$ 'ü 6 eder.
C) Sınıf mevcudunun birim kesri $\frac{1}{5}$ 'dir.
D) Sınıfın $\frac{1}{7}$ 'i şeftali sevmektedir.

Diş Fırçalama Durumu	Öğrenci sayısı
Ara sıra	
1 kere	
2 kere	
3 kere	

Yukarıdaki şekil tablosunda bir sınıftaki öğrencilerin bir günde kaç kere dişlerini fırçaladığı gösterilmiştir. Tabloya göre 10. Ve 11. soruları cevaplayınız.

10) Her şekil 3 kişi gösterdiğine göre kaç öğrenci dişlerini günde 2 kere fırçalamaktadır?

- A) 7 B) 18 C) 21 D) 24

11) Her şekil 2 öğrenciyi gösterirse aşağıdaki bilgilerden hangisi doğrudur?

- A) Dişlerini günde 2 kere fırçalayan öğrenci sayısı 1 kere fırçalayanlardan 6 fazladır.
B) Sınıf mevcudunun $\frac{1}{10}$ 'i dişlerini ara sıra fırçalamaktadır.
C) Dişlerini 3 kere fırçalayan erkek sayısı kızlardan 6 fazladır.
D) Dişlerini sürekli fırçalayan kızların sayısı erkeklerin sayısından fazladır.

Adı :

Soyadı:

4. Sınıf
Matematik

Veri İşleme
Yaprak Test-1

Doğru :

Yanlış:.....

- 1 A B C D
2 A B C D
3 A B C D
4 A B C D
5 A B C D

- 6 A B C D
7 A B C D
8 A B C D
9 A B C D
10 A B C D

- 11 A B C D
12 A B C D
13 A B C D
14 A B C D
15 A B C D

- 16 A B C D
17 A B C D
18 A B C D
19 A B C D
20 A B C D