

Adı :
Soyadı:

4. Sınıf
Matematik

Veri İşleme
Yaprak Test-4

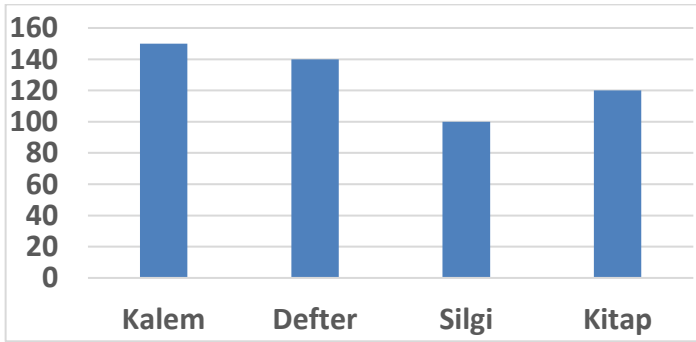
Spor Dalı	Öğrenci sayısı
Voleybol	
Futbol	
Basketbol	

Not: Her şekil 3 öğrencidir.

Beden Eğitimi dersinde öğrencilerin oynadığı sporlara ait şekil grafiği yukarıda verilmiştir.

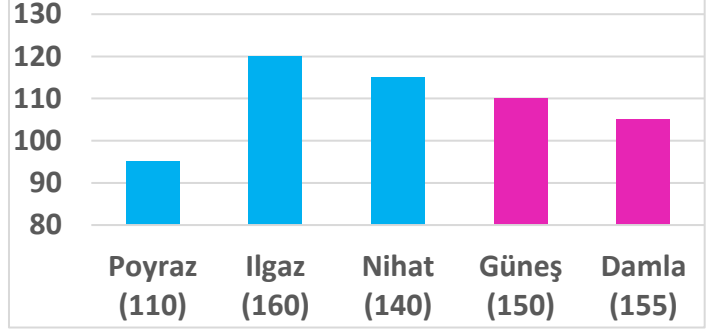
1) Her şekil 3 öğrenciyi gösterdiğine göre aşağıdakilerden hangisi doğru verilmiştir?

- A) Futbol oynayan erkeklerin sayısı basketbol oynayan kızlardan 1 fazladır.
B) Voleybol oynayan kızların sayısı futbol oynayan erkeklerin sayısından 6 azdır.
C) Basketbol oynayan kızların sayısı voleybol oynayan erkeklerin sayısından 5 fazladır.
D) Beden eğitiminde spor yapan kızların sayısı erkeklerin sayısından 1 azdır.



2) Bir kırtasiyede pazartesi günü kaç tane ürün satıldığını gösteren grafik yukarıda verilmiştir. Salı günü tüm ürünlerden 5'er tane fazla satılmıştır. Bu durumda 2 günde toplam kaç ürün satılmıştır?

- A) 1040
B) 1020
C) 530
D) 1025



Öğrencilerin hafta sonunda okuması gereken kitapların toplam sayfası isimlerinin altında yazmaktadır. Grafikte ise okuduğu sayfa sayıları verilmiştir.3.4. ve 5. soruları grafiğe göre cevaplayınız.

3) En çok hangi öğrencilerin okuması gereken sayfa kalmıştır?

- A) Ilgaz
B) Poyraz ve Güneş
C) Damla
D) Damla ve Güneş

4) Aşağıdaki verilenlerden hangisi grafiğe göre doğrudur?

- A) Güneş, Damla'dan 10 sayfa az okumuştur.
B) Nihat, Ilgaz'dan 20 sayfa fazla okumuştur.
C) Ilgaz en çok kitap okuyan, Damla en az kitap okuyan öğrencidir.
D) Poyraz'ın kitabını bitirmesi için 15 sayfa daha okuması gerekir.

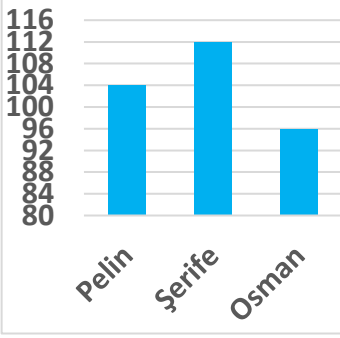
5) Grafiğe göre kızların ve erkeklerin okudukları toplam sayfa sayıları hangisinde verilmiştir?

- | Erkekler | Kızlar |
|--------------|-----------|
| A) 330 sayfa | 215 sayfa |
| B) 325 sayfa | 220 sayfa |
| C) 330 sayfa | 220 sayfa |
| D) 335 sayfa | 210 sayfa |

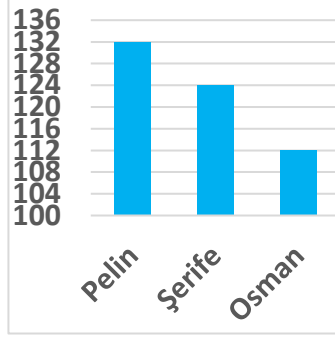
Adı :
Soyadı:

4. Sınıf
Matematik

Veri İşleme
Yaprak Test-4



1. Sınıf



4. Sınıf

Yukarıdaki grafiklerde öğrencilerin 1.sınıfa başladıklarında boylarının uzunlukları verilmiştir. 2. Grafikte ise 4.sınıftaki boylarının uzunlukları verilmiştir. 6.7. 8.ve 9. soruları grafiklere göre cevaplayınız.

6) 4 yıl içinde Pelin'in boyu ne kadar uzamıştır?

- A) 26 cm B) 28 cm C) 30 cm D) 32 cm

7) 4. sınıfta Osman ile Şerife'nin arasında kaç cm fark vardır?

- A) 14 cm B) 13 cm C) 12 cm D) 10 cm

8) Aşağıdaki bilgilerden hangisi grafiklere göre doğrudur?

- A) En fazla boyu uzayan öğrenci Şerife'dir.
B) Şerife, Osman'dan daha fazla uzamıştır.
C) Osman her yıl 5 cm uzamıştır.
D) Pelin, Osman'dan 12 cm fazla uzamıştır.

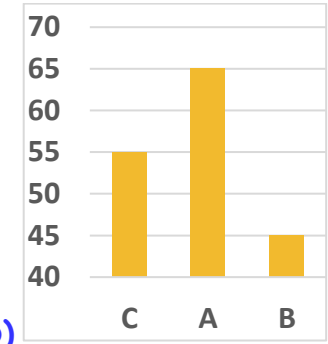
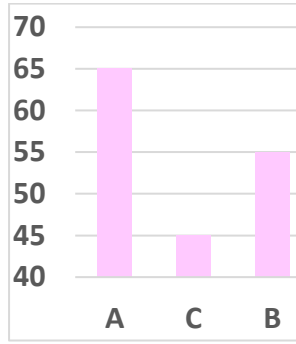
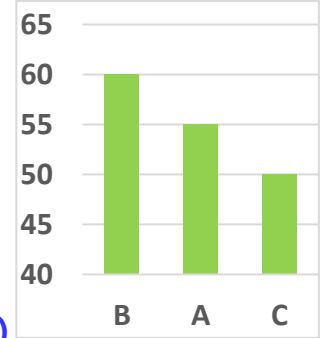
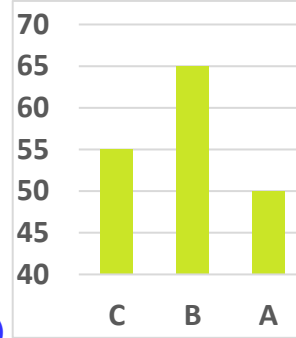
9) Üç öğrenci toplam kaç cm uzamıştır?

- A) 54 cm B) 56 cm C) 58 cm D) 60 cm

Apartman Adı	Yaşayan Kişi Sayısı
A	65
B	45
C	55

Yukarıdaki tabloda apartmanlarda yaşayan kişi sayıları verilmiştir. 10. ve 11. soruları tabloya göre cevaplayınız.

10) Verilen tabloya göre oluşturulan sütun grafiği hangisidir?



11) A apartmanından 5 kişilik bir aile, B apartmanından 4 kişilik 2 aile, C apartmanından 6 kişilik bir aile taşındılar. Üç apartmanda kaç kişi kalmıştır?

- A) 146 B) 148 C) 152 D) 154

Adı :

Soyadı:

4. Sınıf
Matematik

Veri İşleme
Yaprak Test-4

Doğru :.....

Yanlış:.....

- 1 A B C D
2 A B C D
3 A B C D
4 A B C D
5 A B C D

- 6 A B C D
7 A B C D
8 A B C D
9 A B C D
10 A B C D

- 11 A B C D
12 A B C D
13 A B C D
14 A B C D
15 A B C D

- 16 A B C D
17 A B C D
18 A B C D
19 A B C D
20 A B C D