

Adı :
Soyadı:

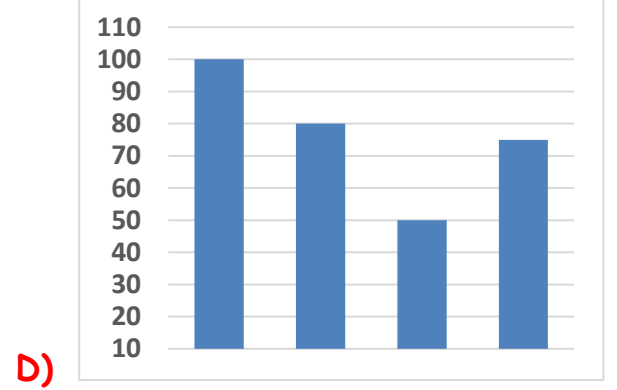
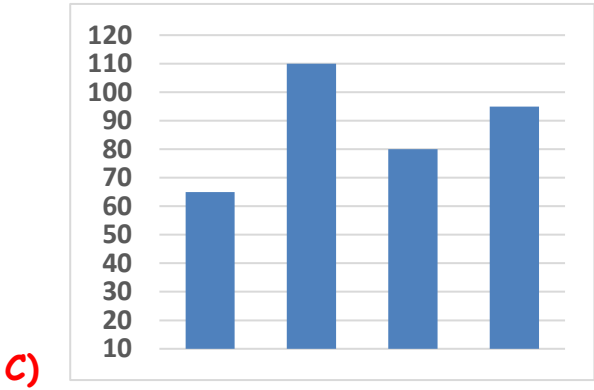
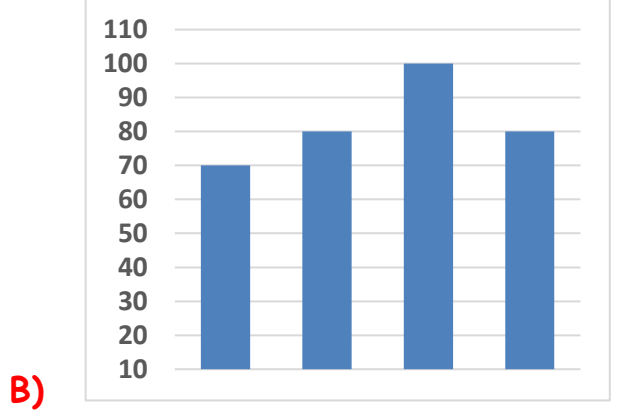
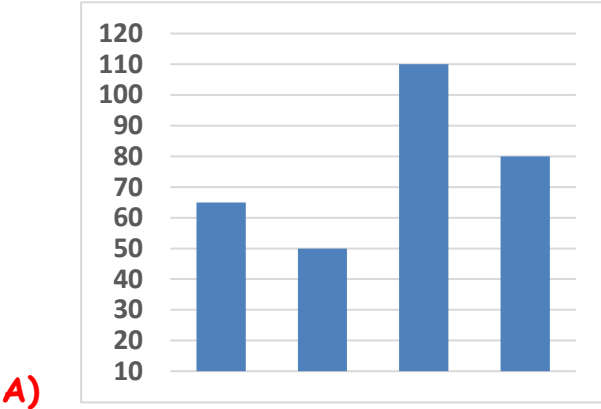
4. Sınıf
Matematik

Veri İşleme
Yaprak Test-1

Bir otoparktaki araçların rengi ile ilgili aşağıdaki bilgiler verilmiştir.

- Kırmızı arabaların sayısı yeşil arabaların sayısından 15 fazladır.
- Yeşil arabaların sayısı mavi arabaların sayısından 30 azdır.
- Gri arabaların sayısı yeşil ve kırmızı arabaların toplamı kadardır.
- Parkta 50 tane yeşil araba bulunmaktadır.

Verilen bilgilere göre oluşturulan sütun grafiği aşağıdakilerden hangisidir?



Verilen bilgilere göre otoparkta kaç tane araba vardır?

- A) 295 B) 285 C) 305 D) 315

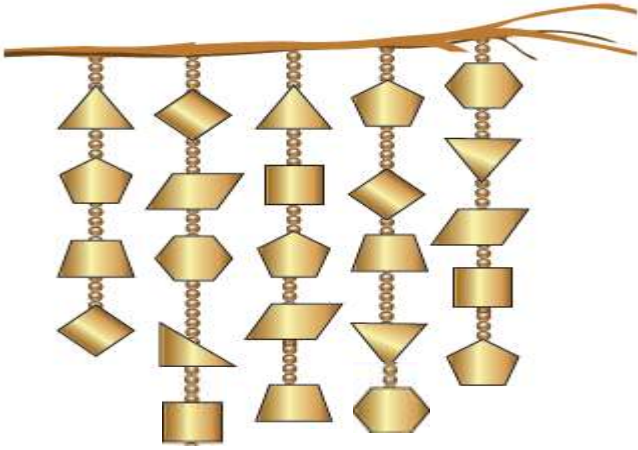
Mavi arabaların $\frac{3}{8}$ 'ü ile kırmızı arabaların $\frac{2}{5}$ 'si otoparktan ayrıldı. Geriye kaç araba kaldı?

- A) 245 B) 249 C) 251 D) 254

Adı :
Soyadı:

4. Sınıf
Matematik

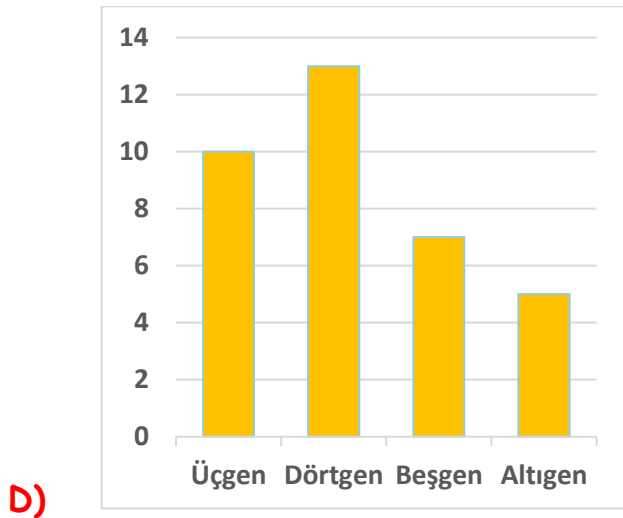
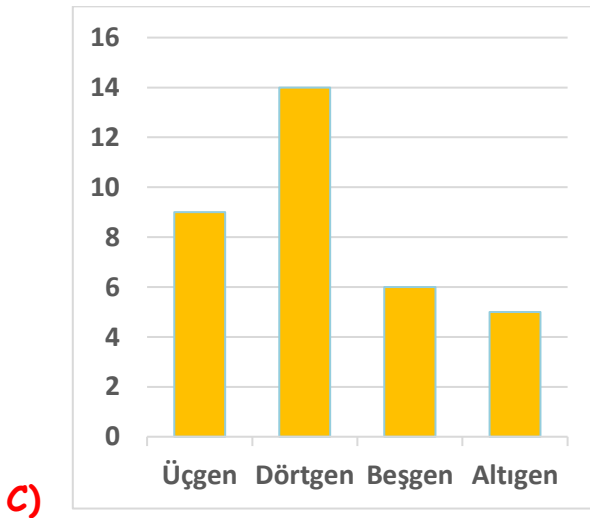
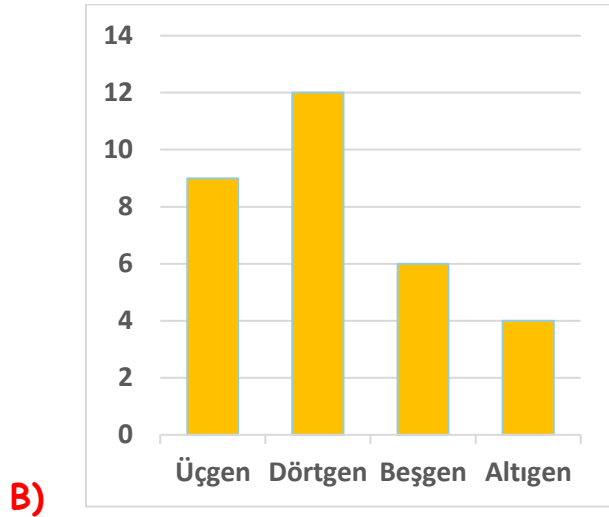
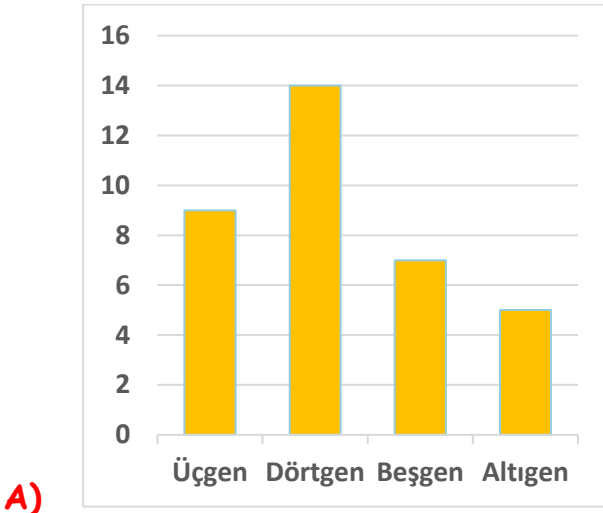
Veri İşleme
Yaprak Test-1



Mert çokgenlerden oluşan yanda verilen rüzgâr gülü tasarlamıştır. Ancak rüzgâr gülü yeterince ses çıkarmadığı için çokgenlerin sayını aşağıdaki miktarlarda arttırmıştır.

Üçgen	Dörtgen	Beşgen	Altıgen
$\frac{4}{5}$	$\frac{1}{6}$	$\frac{3}{4}$	$\frac{2}{3}$

Verilen bilgilere göre oluşturulan sütun grafiği aşağıdakilerden hangisidir?



Adı :
Soyadı:

4. Sınıf
Matematik

Veri İşleme
Yaprak Test-1

ÖN SAYFA CEVAPLAR

Araba sayıları

Beyaz 50 Kırmızı 65 Mavi 80 Gri 110 olduğundan
Sütün grafiği A) seçeneği doğrudur.

Toplam araç sayısı C) 305'dir.

Mavi arabaların $\frac{3}{8}$ 'i 30 araba

Kırmızı arabaların $\frac{2}{5}$ 'si 26 araba eder.

Parktan ayrılan araba sayısı 56

Kalan araba B) 249

ARKA SAYFA CEVAPLAR

Üçgen	Dörtgen	Beşgen	Altıgen
5 tane	12 tane	4 tane	3 tane
$\frac{4}{5}$	$\frac{1}{6}$	$\frac{3}{4}$	$\frac{2}{3}$
9 tane	14 tane	7 tane	5 tane

Doğru cevap A)