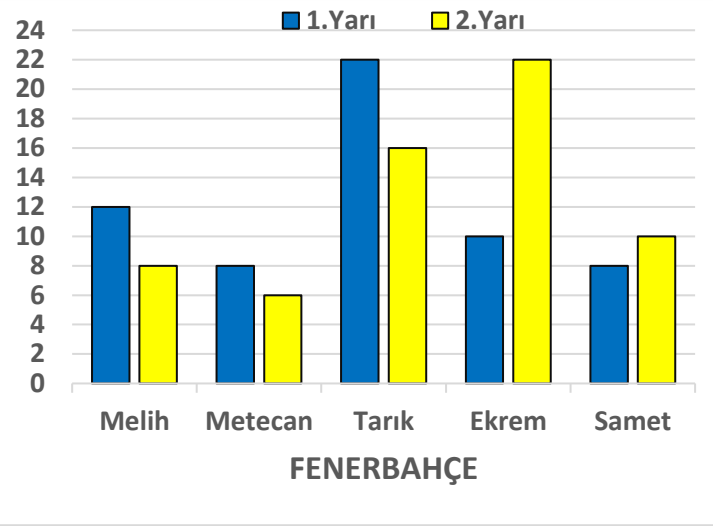
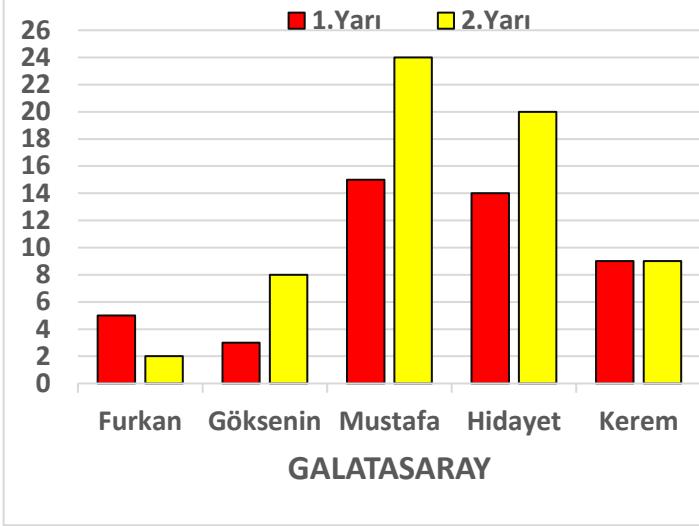


Adı :
Soyadı:

4. Sınıf
Matematik

Veri İşleme
Yaprak Test-2



Yukarıdaki sütun grafiklerinde Galatasaray-Fenerbahçe maçında takımların oyuncularının 1. ve 2. yarıda takıma kazandırdıkları sayıları göstermektedir.

Örneğin Galatasaray takımından Furkan 1.yarıda 5 sayı, 2. yarıda 2 sayı, toplamda 7 sayı kazandırmıştır.

Sütun grafiğine göre aşağıdaki soruları cevaplayınız.

1- Maç boyunca sporcuların kazandırdığı sayı hangisinde yanlış eşleştirilmiştir?

- A) Mustafa = 39 sayı B) Ekrem = 32 sayı C) Tarık = 38 sayı D) Hidayet = 32 sayı

2- Maç nasıl sonuçlanmıştır?

- A) Fenerbahçe 112-109 maçı kazanmıştır. B) Maç 110-110 berabere bitmiştir.
C) Galatasaray 110-108 maçı kazanmıştır. D) Fenerbahçe 114-110 maçı kazanmıştır.

3- Galatasaray-Fenerbahçe maçı için hangi bilgi yanlıştır?

- A) Mustafa maç boyunca 39 sayı ile en çok sayı kazandıran sporcudur.
B) Galatasaray ilk yarıda Fenerbahçe'den daha fazla sayı kazanmıştır.
C) Fenerbahçe'nin en çok sayı kazandıran oyuncusu 40 sayı ile Tarık olmuştur.
D) Galatasaraylı Kerem ile Fenerbahçeli Samet maç boyunca eşit sayı kazandırmışlardır.

4- Basketbolda en az sayı atan futbolculara savunmacı (defans) denir. En çok basket atan oyuncularına ise forvet denir. Her takımda 2 forvet ve 2 savunmacı olduğuna göre hangi bilgi doğru verilmiştir?

- A) Galatasaray'ın savunmacıları Kerem ve Furkan'dır.
B) Fenerbahçe'nin forvetleri Tarık ve Samet'tir.
C) Galatasaray'ın forvetleri Hidayet ve Mustafa'dır.
D) Fenerbahçe'nin savunmacıları Melih ve Metecan'dır.

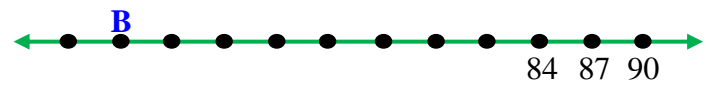
Adı :
Soyadı:

4. Sınıf
Matematik

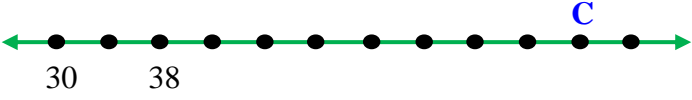
Veri İşleme
Yaprak Test-2



Çay satışı (kg)



Şeker satışı (kg)



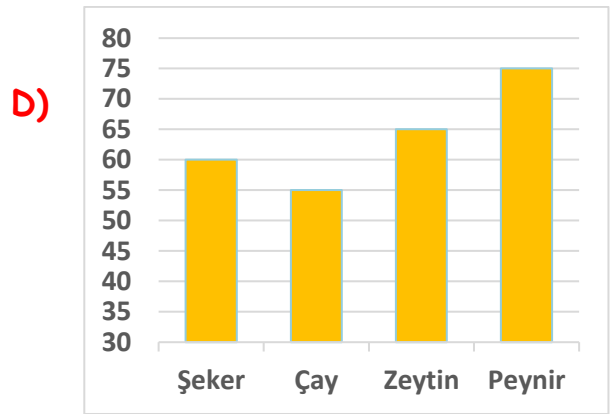
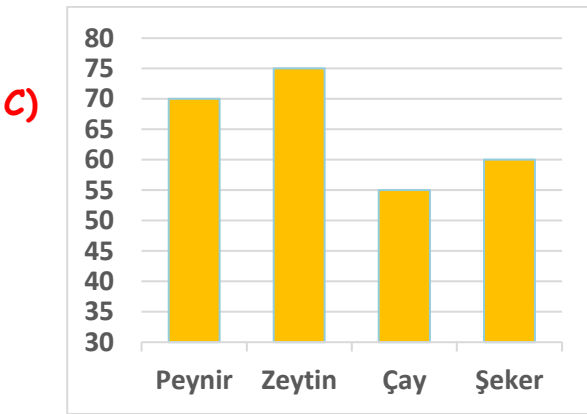
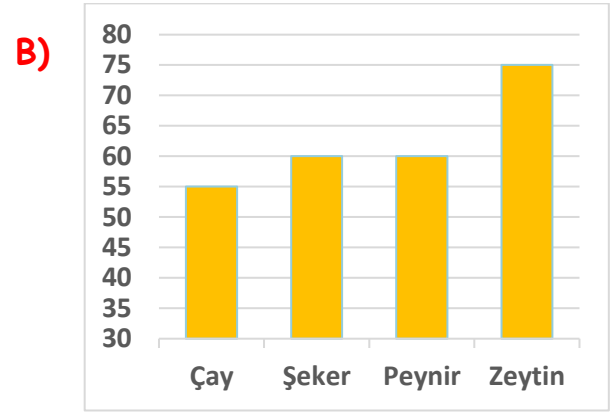
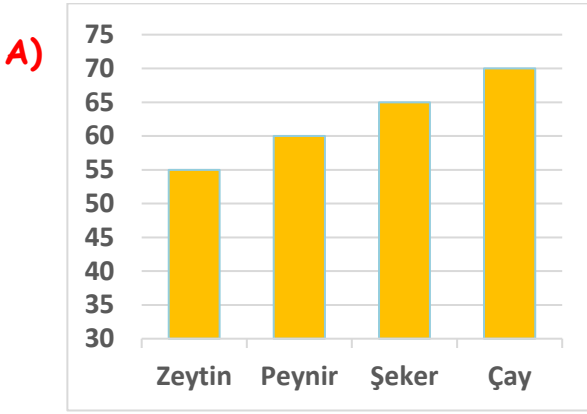
Peynir satışı (kg)



Zeytin satışı (kg)

Yukarıda verilen sayı doğrularında bir dükkânda satılan gıda ürünlerinin miktarları verilmiştir. Sayı doğrularında verilen birimler birbirine eşit ve ardışık olarak sıralanmıştır. Ürünlerin satış miktarları harflerle gösterilmiştir.

Sayı doğrularına göre oluşturulan sütun grafiği hangisidir?



Ürünlerin satış miktarlarına göre aşağıdaki karşılaştırmalardan hangisi doğru verilmiştir?

- A) Peynir > Zeytin = Çay < Şeker
B) Zeytin > Çay < Şeker < Peynir
C) Peynir > Çay > Zeytin = Şeker
D) Zeytin > Peynir > Şeker < Çay

Adı :

Soyadı:

4. Sınıf
Matematik

Veri İşleme
Yaprak Test-2

ÖN SAYFA CEVAPLAR

- 1.Soru D) Hidayet 34 sayı kazandırmıştır.
- 2.Soru A) Fenerbahçe 112-109 kazanmıştır.
- 3.Soru B) Fenerbahçe ilk yarıda 60, Galatasaray ilk yarıda 46 sayı kazanmıştır.
- 4.Soru C) Galatasaray'ın forvetleri Hidayet ve Mustafa'dır.

ARKA SAYFA CEVAPLAR

- Çay sayı doğrusunda 5'er artmış $A= 55$
Şeker sayı doğrusunda 3'er azalmış $B= 60$
Peynir sayı doğrusunda 4'er artmış $C= 70$
Zeytin sayı doğrusunda 5'er artmış $D= 75$

1. soru. Sütun grafiği doğru cevap B)
2. soru. Zeytin $>$ Çay $<$ Şeker $<$ Peynir Cevap B)