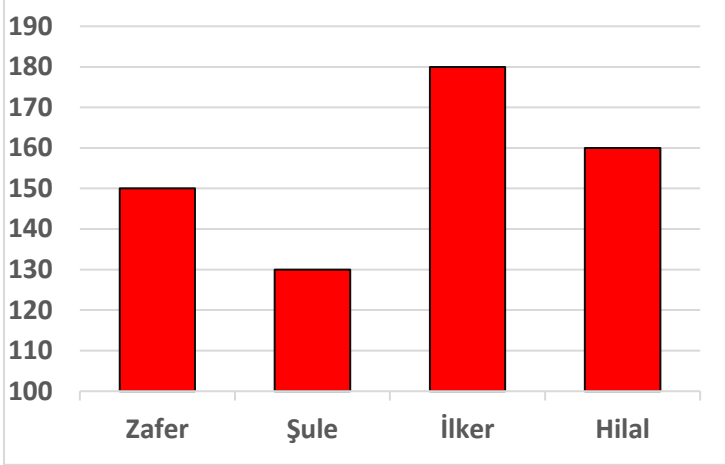


Adı :
Soyadı:

4. Sınıf
Matematik

Veri İşleme
Yaprak Test-3

Kitabın Sayfa
Sayısı



Şekil-1

Öğrenci Adı	Okuduğu Sayfa Sayısı
Zafer	Altıda dört
Şule	Beşte dört
İlker	Dokuzda beş
Hilal	Onda altı

Şekil-2

Yukarıdaki sütun grafiğinde (Şekil-1) hafta sonunda öğrencilerin okuması gereken kitapların sayfa sayıları verilmiştir. Ancak öğrenciler kitapların hepsini okuyup bitirememiştir. Öğrencilerin okuduğu sayfa sayıları ise Şekil-2'de gösterilmiştir. Verilen bilgilere göre aşağıdaki soruları cevaplayınız.

1- En çok kitap okuyan öğrenci kimdir?

- A) Zafer B) Şule C) İlker D) Hilal

2- Hangi öğrenciler eşit sayfada kitap okumuştur?

- A) Zafer ve Şule B) Şule ve İlker C) İlker ve Hilal D) Zafer ve İlker

3- En çok hangi öğrencinin okuması gereken sayfası kalmıştır?

- A) Zafer B) Şule C) İlker D) Hilal

4- Öğrencilerin okuduğu sayfa sayılarına göre hangi karşılaştırma doğrudur?

- A) Şule > Hilal < İlker = Zafer
B) Zafer > Hilal = Şule > İlker
C) Hilal < Zafer > İlker = Şule
D) Zafer > Hilal > Şule > İlker

Adı :
Soyadı:

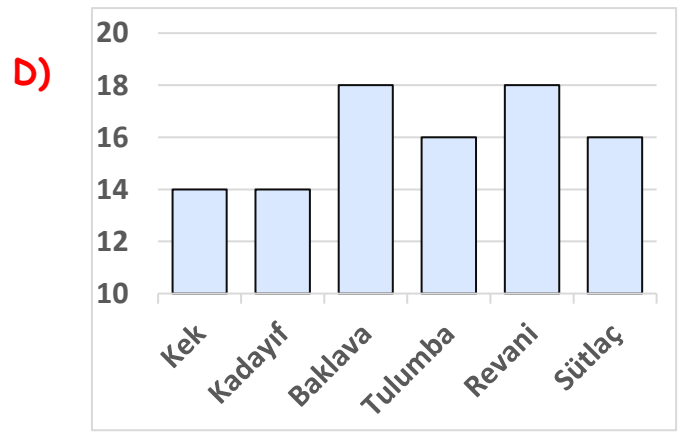
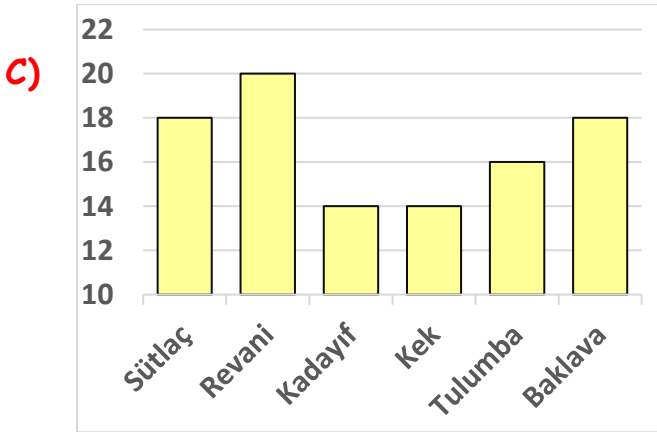
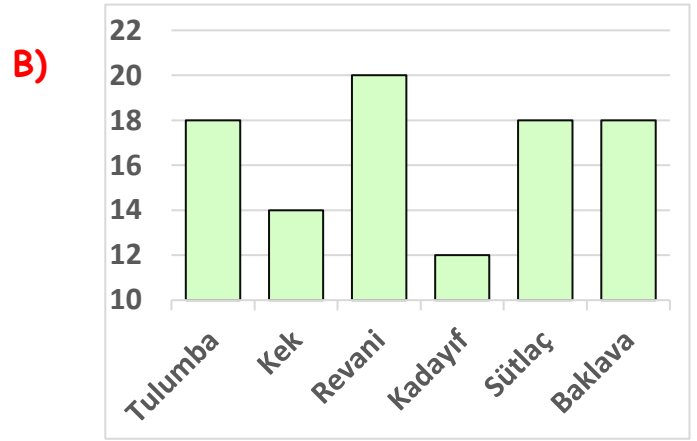
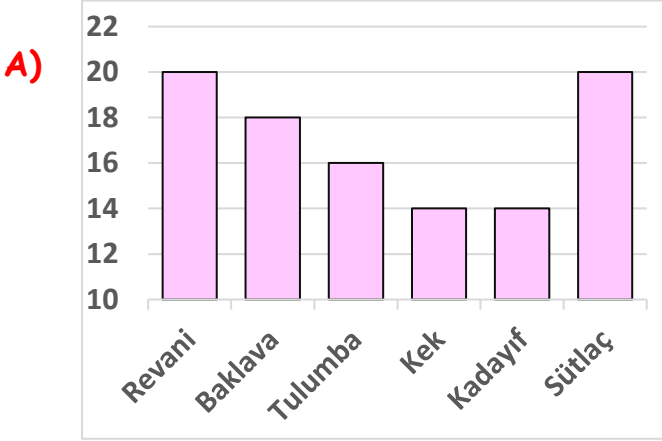
4. Sınıf
Matematik

Veri İşleme
Yaprak Test-3

Baklava	18	Sütlaç	18
Revani	20	Kadayıf	14
Kek	14	?
TOPLAM 100 PUAN			

“Aileler Yarışıyor” yarışma programında 100 kişiye “Tatlı deyince ilk önce aklınıza hangisi gelir?” sorusu sorulmuştur. 6 farklı cevap alınmıştır. Yarışmayı kazanabilmek için 100 tam puana ulaşmak gerekir.

Yarışmacıların verdiği cevaplara göre oluşturulacak sütun grafiği aşağıdakilerden hangisidir?



Yarışmacıların 100 tam puan aldığı cevaplara göre hangi bilgi doğrudur?

A) 100 kişinin $\frac{5}{25}$ ' si tulumba demiştir.

B) 100 kişinin $\frac{10}{50}$ ' revani demiştir.

C) 100 kişinin $\frac{4}{20}$ ' ü kek demiştir.

D) 100 kişinin $\frac{2}{10}$ ' si sütlaç demiştir.

Adı :
Soyadı:

4. Sınıf
Matematik

Veri İşleme
Yaprak Test-3

ÖN SAYFA CEVAPLAR

Öğrenci Adı	Okuduğu Sayfa Sayısı	Okuması Gereken Kitap	Okuduğu Sayfa Sayısı	Kalan Sayfa Sayısı
Zafer	Altıda dört	150	100	40
Şule	Beşte dört	130	104	26
İlker	Dokuzda beş	180	100	80
Hilal	Onda altı	160	96	64

- 1.Soru B) Şule 104 sayfa
- 2.Soru D) Zafer ve İlker 100'er sayfa
- 3.Soru C) İlker 80 sayfa
- 4.Soru A) Şule > Hilal < İlker = Zafer (104 > 96 < 100 = 100)

ARKA SAYFA CEVAPLAR

Baklava	18	Sütlac	18
Revani	20	Kadayıf	14
Kek	14	Tulumba	16
TOPLAM 100 PUAN			

1. soru Doğru cevap C)
2. soru Doğru cevap B) Revani

1. soru. Sütun grafiği doğru cevap B)
2. soru. Zeytin > Çay < Şeker < Peynir Cevap B)