

MATEMATİK KESİRLER DEĞERLENERİME TESTİ

Adı Soyadı :

PUAN:.....

1) Aşağıdakilerden hangisi kesir ile gösterilemez? (2p)

A)



B)



C)



2) Aşağıdaki kesirlerin okunuşlarını yazınız.(8p)



• $\frac{2}{8}$ =

• $\frac{5}{6}$ =

• $\frac{1}{7}$ =

• $\frac{9}{12}$ =

3) Modelle gösterilen taralı alanları kesirle yazalım. (6p)



.....

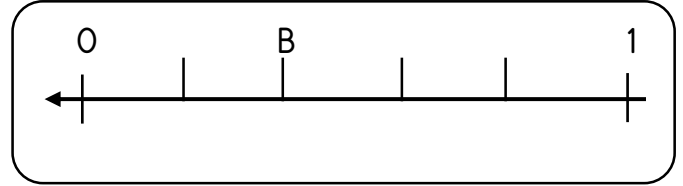

.....

4) Aşağıdaki kesirleri şekil çizerek gösteriniz. (8p)





$\frac{3}{8}$ ->

$\frac{2}{9}$ ->

5) Aşağıda sayı doğrusunda harflerle gösterilmiş noktalara ait kesirleri altlarına yazınız. (9p)



6) Aşağıda verilen kesirleri sayı doğrusu üzerinde gösterelim. (15p)



7) 54 fındığın $\frac{1}{6}$ i kaç fındık eder? (4p)

8) Tarık 42 sayfalık kitabın $\frac{2}{6}$ sini okudu. Tarık'ın okumadığı kaç sayfa kaldı?(5p)

9) 35 kişilik sınıfın $\frac{2}{5}$ si kızdır. Bu sınıfta kaç erkek öğrenci vardır?(5p)

10) 6 düzine çiçeğin $\frac{3}{9}$ ü satıldı. Buna göre kaç tane çiçek kaldı?(5p)

11) Benim yaşı annemin yaşının $\frac{1}{7}$ ine eşittir. Annem 49 yaşında olduğuna göre ikimizin yaşları toplamı kaçtır?(5p)

12) Bir çiftlikteki 72 hayvanın $\frac{4}{9}$ si inek, $\frac{2}{9}$ ü tavuk ve geri kalanlar ise koyundur. Buna göre koyunların sayısı kaçtır?(7p)

13) 104 kavunun $\frac{1}{8}$ i çürük çıktı. Kalan kavunlar tanesi 4 liradan satıldığına göre kavunların satışından kaç lira kazanıldı? (7p)

14) Ceren'in 56 tane tokası vardır. Tokalarının yarısını kardeşine verdi. Kalan tokalarının $\frac{1}{4}$ ini de arkadaşına verdi. Buna göre Ceren'in kaç tokası kaldı? (7p)

15) Mert'in biriktirdiği 106 lirası vardır. Parasıyla 25 liraya çanta aldıktan sonra kalan parasının $\frac{4}{9}$ ünü annesine verdi. Mert'in kaç lira parası kaldı? (7p)

