

Ad, soyad:

.....  
.....  
.....

# Haftalık Değerlendirme - 3



Funda Menekşe



Kadir'in doğum gününde dedesi ona bir gitar almıştı. Çünkü Kadir gitar çalabilmeyi çok istiyordu. Gitarı olunca babası onu kursa gönderdi. Müzik öğretmeni, Kadir'in çok yetenekli olduğunu söyledi. Kadir kısa sürede gitar çalmayı öğrendi.

*İlk dört soruyu metne göre cevaplayalım.*

1- Kadir'e gitarı kim aldı?

- A) babası
- B) dedesi
- C) halası




2- Gitarı olunca babası Kadir'i nereye gönderdi?

- A) kursa
- B) okula
- C) kütüphaneye

3- Kadir'in yetenekli olduğunu kim söyledi?

- A) matematik öğretmeni
- B) kurs müdürü
- C) müzik öğretmeni




4- Hangisi Kadir'in çaldığı çalgı aletidir?

- A) 
- B) 
- C) 

5- Aşağıdaki kelimelerden hangisi hecelerine doğru ayrılmıştır?

- A) git-ar
- B) mü-zik
- C) ded-e-si

6- Aşağıdaki varlıklardan hangisinin adı daha fazla harften oluşmuştur?

- A) 
- B) 
- C) 

7- "Bence bu sorular çok kolay." cümlesinde altı çizili sözcüğün zıt anlamlısı hangisidir?

- A) basit
- B) karışık
- C) zor



8- Aşağıdakilerden hangisi diğerlerinden daha büyük bir paradır?

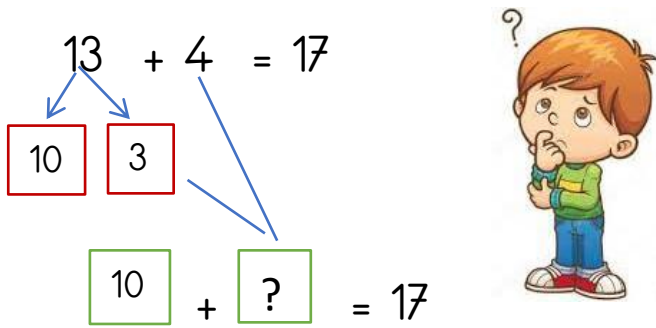
- A)  B) 
- C) 

9-  $6 + \bigcirc = 11$  Yandaki işlemde verilmeyen toplanan kaçtır?

- A) 6 B) 5 C) 7

10- "Ayşe'nin 5 kalemi vardı. Babası 7 kalem daha verdi. Ayşe'nin kaç kalemi oldu?" Yukarıdaki problemi çözmek için hangi işlemi yaparız?

- A)  $5 + 7 = 12$   
B)  $7 - 5 = 2$   
C)  $5 + 5 = 10$



11- Emre yukarıdaki toplama işlemi zihinden yaptı. Emre'nin yaptığı işlemde soru işareti (?) olan yere hangi sayı gelmelidir?

- A) 3 B) 4 C) 7

12- Aşağıdakilerden hangisi kendimize yemek hazırlarken yapmamız gereken ilk iştir?

- A) Dişlerimizi fırçalamak  
B) Ellerimizi yıkamak  
C) Malzemeleri kesmek

13- Hangi çocuk yemek yerken görgü kurallarına uygun davranmamaktadır?



A)



B)

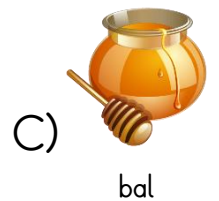
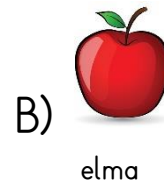



C)

14- Yemeği hazırlayan kişiye aşağıdakilerden hangisi söylenmelidir?

- A) Afiyet olsun.  
B) Ellerine sağlık.  
C) Geçmiş olsun.

15- Hangisi bitkisel besindir?



Ad, soyad:

.....  
.....  
.....

# Hafta Sonu Etkinlikleri - 3



Funda Menekşe

- Metni okuyalım, soruları cevaplayalım.

## DENİZİN HATASI



Deniz yemek yemeyi çok seven, iştahlı bir çocuktur. Gece yatarken sabah ne yiyeceğini planlar, kahvaltı ederken ise akşama ne yiyeceğini düşünürdü. Günde üç öğün yemekle kalmaz, yemeklerden sonra abur cubur tüketmeye bayılırdı. Markete gitse çikolataların, cipslerin olduğu reyona koşardı. Patates kızartması olmadan kahvaltı etmez, bolca hamur işi tüketirdi. Yumurta ve peyniri ise hiç yemezdi.

Sonuçta ne oldu dersiniz? Kilo aldı. Nefes almakta, hareket etmekte zorlanır oldu. Sık sık hastalanmaya başladı. Ailesi bu duruma çok üzülüyordu. Onu doktora götürdüler. Doktor ona sıkı bir rejim listesi verdi. Deniz hatasını geç de olsa anladı.

## SORULAR

1- Metin kiminle ilgilidir?

2- Deniz nasıl bir çocukmuş?

3- Deniz yemeklerden sonra ne tüketirmiş?

4- Deniz markete gittiğinde hangi reyona koşarmış?

5- Deniz sağlıksız beslendiği için neler yaşamış?



$$\begin{array}{r} 3 \\ + 4 \\ \hline 7 \end{array}$$

$$\begin{array}{r} \square \\ + 5 \\ \hline 9 \end{array}$$

$$\begin{array}{r} \square \\ + 3 \\ \hline 10 \end{array}$$

$$\begin{array}{r} \square \\ + 4 \\ \hline 13 \end{array}$$

$$\begin{array}{r} \square \\ + 6 \\ \hline 14 \end{array}$$

$$\begin{array}{r} \square \\ + 4 \\ \hline 11 \end{array}$$

$$\begin{array}{r} \square \\ + 5 \\ \hline 14 \end{array}$$

$$\begin{array}{r} \square \\ + 8 \\ \hline 11 \end{array}$$

$$\begin{array}{r} \square \\ + 9 \\ \hline 13 \end{array}$$

$$\begin{array}{r} \square \\ + 9 \\ \hline 17 \end{array}$$

$$\begin{array}{r} \square \\ + 9 \\ \hline 10 \end{array}$$

$$\begin{array}{r} \square \\ + 8 \\ \hline 15 \end{array}$$

$$\begin{array}{r} \square \\ + 5 \\ \hline 13 \end{array}$$

$$\begin{array}{r} \square \\ + 9 \\ \hline 11 \end{array}$$

$$\begin{array}{r} \square \\ + 7 \\ \hline 14 \end{array}$$

$$\begin{array}{r} 12 \\ + \square \\ \hline 16 \end{array}$$

$$\begin{array}{r} 13 \\ + \square \\ \hline 18 \end{array}$$

$$\begin{array}{r} 17 \\ + \square \\ \hline 20 \end{array}$$

$$\begin{array}{r} 14 \\ + \square \\ \hline 19 \end{array}$$

$$\begin{array}{r} 11 \\ + \square \\ \hline 19 \end{array}$$

$$\begin{array}{r} 14 \\ + \square \\ \hline 20 \end{array}$$

$$\begin{array}{r} 12 \\ + \square \\ \hline 19 \end{array}$$

$$\begin{array}{r} 15 \\ + \square \\ \hline 20 \end{array}$$

$$\begin{array}{r} 12 \\ + \square \\ \hline 18 \end{array}$$

$$\begin{array}{r} 10 \\ + \square \\ \hline 19 \end{array}$$



## DİL BİLGİSİ ETKİNLİKLERİ

- Altı çizili sözcüğün zıt anlamlısını kullanarak cümleyi yeniden yazalım.

1- Melisa çok uzun boyludur.

Melisa çok kısa boyludur.

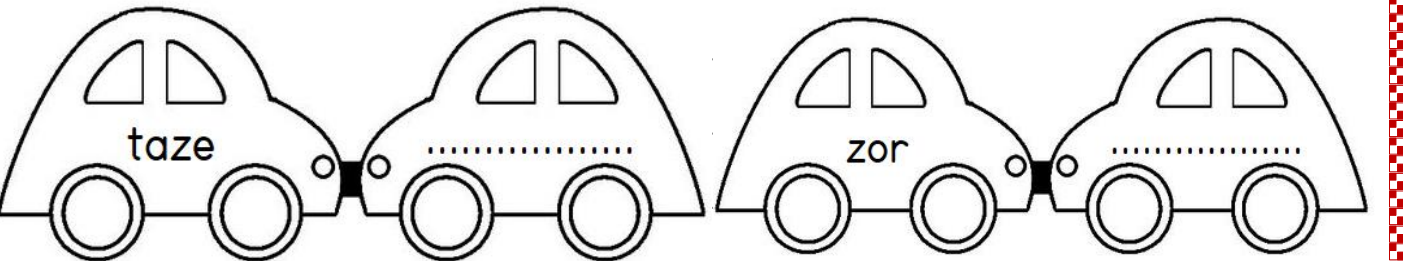
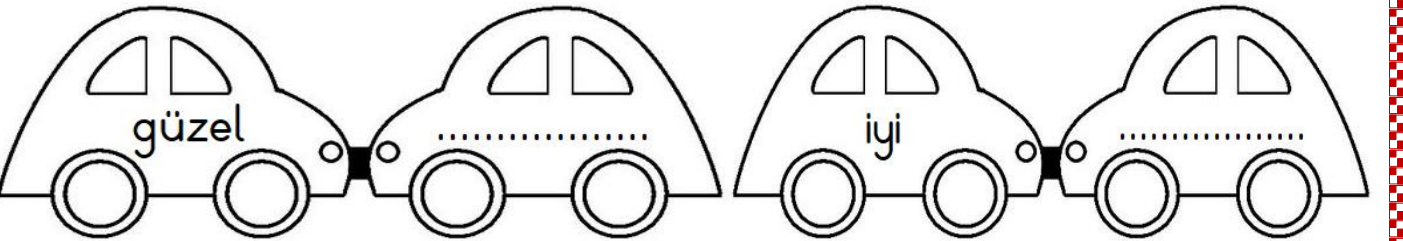

2- Dedemin evi bize çok uzaktır.

3- Funda'nın kedisi çok sismanmış.

4- Acık kapıya kafamı çarptım.

5- Ayşe'nin elbisesi temiz mi?

- Kelimelerin zıt anlamlılarını yazalım.



- Yukarıdaki kelimelerden biri ile cümle kuralım.



1- Yemek yerken uymamız gereken görgü kurallarına üç örnek yazalım.

•

•

•

2- Annemizden yardım alarak salata hazırlayalım. Salatayı hazırlarken neler yaptık sırasıyla yazalım.

3- Sağlıklı besinleri x ile işaretleyelim.

