

3. SINIF

22. HAFTA KAZANIM DEĞERLENDİRME

ÇİZGİ FİLM

Bayılırım çizgi filme. Çizgi film seyretmek beni çok mutlu eder. Televizyonun karşısına geçerim. En güzel çizgi filmi seçerim. Çikolatalı gofretimi alır, çitir çitir hem yer hem de seyredirim.

En çok Pinokyo'yu, sonra Temel Reis'i seyredirim. Haaa! Unutmadan söyleyeyim; ıspanağı ben de çok severim. Afiyetle yerim. Kendimi Temel Reis'e benzetirim.

İlk 3 soru metne göre cevaplandırılacaktır.


1. Okuduğunuz metindeki çocuğu çok mutlu eden şey nedir?

- A) gofret yemek
B) çizgi film seyretmek
C) ıspanak yemek

2. Metindeki çocuk çizgi film izlerken ne yapmaktadır?

- A) Çekirdek yemektedir.
B) Ispanak yemektedir.
C) Çikolatalı gofret yemektedir.

3. Aşağıdaki görsellerden hangisi çocuğun en sevdiği çizgi film karakterlerinden biri değildir?



4. Aşağıdaki sözcüklerden hangisi eş sesli değildir?


- A) çay B) iç C) on

5. "Sibel odasını baştan savma bir şekilde temizledi." cümlesinde altı çizili sözcüklerle anlatılmak istenen hangisidir?

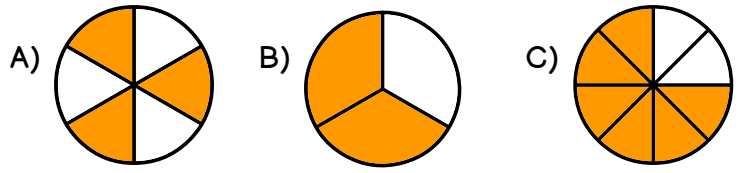
- A) gelişigüzel
B) özenerek
C) dikkatlice

6. Yandaki görselin kesir olarak ifade edilişi aşağıdakilerden hangisidir?

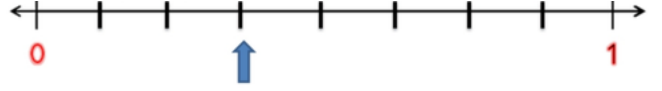
- A) $\frac{1}{10}$ B) $\frac{3}{10}$ C) $\frac{7}{10}$



7. Annem yaptığı bir tepsi böreğin yarısını komşuya verdi. Verdiği böreklerin kesir olarak gösterilişi aşağıdakilerden hangisi gibi olur?



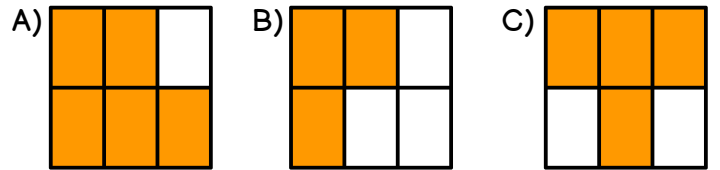
8.



Yukarıdaki sayı doğrusunda ok ile gösterilen yerin kesir olarak ifade edilişi hangi seçenekte doğru olarak verilmiştir?

- A) $\frac{3}{9}$ B) $\frac{4}{8}$ C) $\frac{3}{8}$

9. Bir pastanede üretilen baklava 6 eş parçaya bölünmüş, 5 parçası satılmıştır. Satılan parçaların kesrinin şekil olarak ifade edilişi hangisidir?



DİKKAT SORUSU

10. $\frac{1}{4}$ 'i 8 tane olan narların yarısı kaç tanedir?

- A) 2 B) 16 C) 32



11. Aşağıdaki ifadelerden yanlış olan hangisidir?

A) Okula giderken veya okuldan dönerken güvenliğimizi tehdit edebilecek kişilerle karşılaşabiliriz.

B) Okuldan eve güvenli şekilde gitmek için en kestirme yolu kullanmalıyız.

C) Tanımadığımız kişilerle konuşmamalıyız.

12. Güvenliğimizi tehdit eden bir durumda aşağıdaki kişilerden hangisinden yardım istemeliyiz?



13. "Güvenliğimizi tehdit eden bir durumla karşılaştığımızda yüksek sesle veya yardım istemeliyiz." cümlesinde boş bırakılan yere hangisi getirilmelidir?

A) alçak sesle B) yavaşça C) bağıarak

14. Ebru'ya tanımadığı bir kişi çikolata almayı teklif edip yanına çağırıştır. Ebru bu durumda hangisini söylerse doğru davranış sergilemiş olur?

A) Çok severim tamam gidelim.
B) Arkadaşlarımı da çağırayım beraber gidelim.
C) Hayır, teşekkür ederim.

15. Yandaki görselde ne olduğunu bilmeden içen Mehmet, hangi durumla karşılaşabilir?

A) Zehirlenebilir.
B) Baş ağrıyabilir.
C) Saçları dökülebilir.



16. Erdem aşağıdaki canlıların hangisinin sesini duyamaz?



17. Aşağıdaki varlıkların hangisi en şiddetli sese sahiptir?



18. Aşağıdaki ortamlardan hangisi diğerlerine göre daha gürültülü bir ortamdır?

A) okul bahçesi
B) konser alanı
C) kütüphane

19. Yan tarafta görseli verilen yer için hangisini söylemek doğrudur?

A) İnsanlar birbirini duyamaz.
B) Konuşulanlar anlaşılmaz.
C) Sessiz bir ortamdır.



20. Aşağıdaki ifadelerden hangisi yanlıştır?

A) Yarasa, köpek, yunus, balina, baykuş gibi hayvanlar bizim duyamayacağımız sesleri duyarlar.
B) Fısıltı ile konuşulan ortamlarda sesleri çok rahat duyarız.
C) Ses kaynağından çıkan ses ne kadar kuvvetli çıkarsa o kadar şiddetli olur.

CEVAPLAR

1 A B C
2 A B C
3 A B C
4 A B C
5 A B C
6 A B C
7 A B C
8 A B C
9 A B C
10 A B C

11 A B C
12 A B C
13 A B C
14 A B C
15 A B C
16 A B C
17 A B C
18 A B C
19 A B C
20 A B C



22. HAFTA KAZANIM DEĞERLENDİRME CEVAP ANAHTARI

1	B
2	C
3	A
4	C
5	A
6	B
7	A
8	C
9	A
10	B

11	B
12	B
13	C
14	C
15	A
16	A
17	C
18	B
19	C
20	B