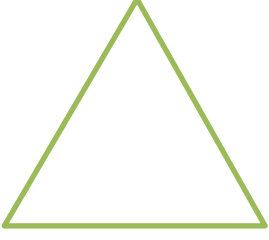


Adı :
Soyadı:

4. Sınıf
Matematik


Geometrik Şekiller-3
Üçgen Çeşitleri

Aşağıdaki üçgenlerin kenarlarının uzunluklarını cetvel ile ölçüp uzunlukları yazınız.



Eşkenar üçgen

Bütün kenarlarının
uzunlukları eşit mi?



İkizkenar üçgen


İki kenar uzunluğu eşit, bir
kenar uzunluğu farklı mı?



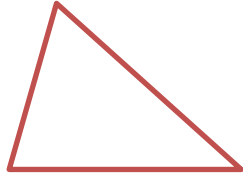
Çeşitkenar üçgen

Üç kenar uzunluğu
birbirinden farklı mı?


Üçgenlerin kenarlarının uzunluklarını cetvel ile ölçüp hangi üçgen olduğunu yazınız.



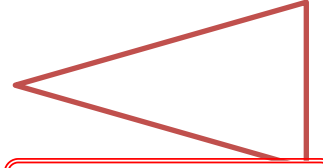
..... üçgen



..... üçgen

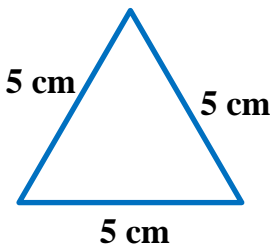


..... üçgen



..... üçgen

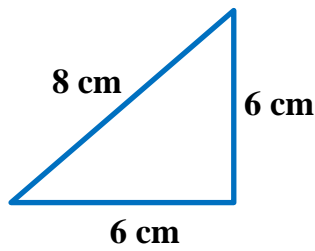
Üçgenlerin kenarlarının uzunluklarına göre türlerini yazınız.



5 cm 5 cm

5 cm

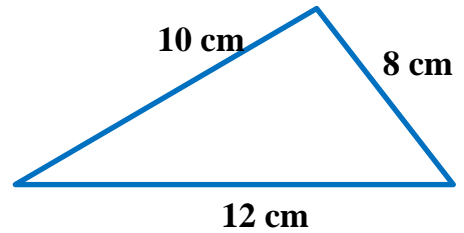
.....



8 cm 6 cm

6 cm

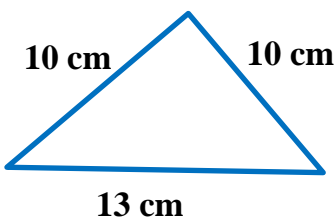
.....



10 cm 8 cm

12 cm

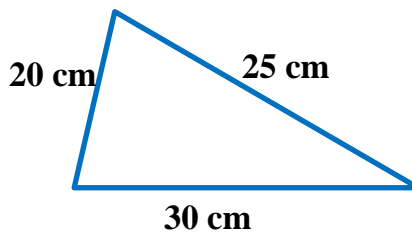
.....



10 cm 10 cm

13 cm

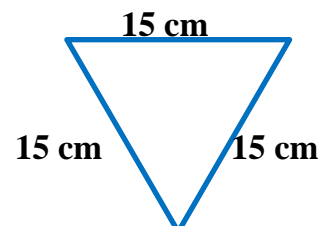
.....



20 cm 25 cm

30 cm

.....



15 cm

15 cm 15 cm

.....

Adı :
Soyadı:

4. Sınıf
Matematik

Geometrik Şekiller-3
Üçgen Çeşitleri

Kenar uzunlukları verilen üçgenlerin türlerini yazınız.

1.kenar	2.kenar	3.kenar
5 cm	5 cm	5 cm
.....		

1.kenar	2.kenar	3.kenar
10 cm	8 cm	10 cm
.....		

1.kenar	2.kenar	3.kenar
12 cm	15 cm	25 cm
.....		

1.kenar	2.kenar	3.kenar
15 cm	20 cm	20 cm
.....		

1.kenar	2.kenar	3.kenar
15 cm	12 cm	10 cm
.....		

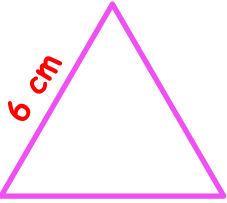
1.kenar	2.kenar	3.kenar
7 cm	7 cm	7 cm
.....		

1.kenar	2.kenar	3.kenar
7 cm	8 cm	9 cm
.....		

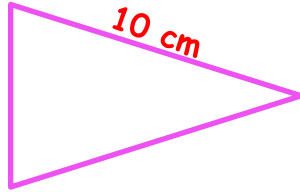
1.kenar	2.kenar	3.kenar
12 cm	12 cm	12 cm
.....		

1.kenar	2.kenar	3.kenar
8 cm	8 cm	6 cm
.....		

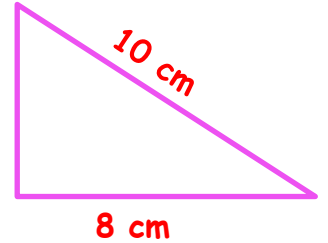
Aşağıdaki verilen üçgenlerin uzunluklarını cetvel kullanmadan yazalım.



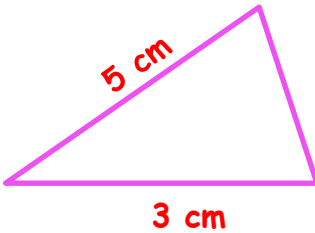
Eşkenar üçgen



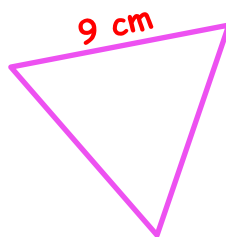
İkizkenar üçgen



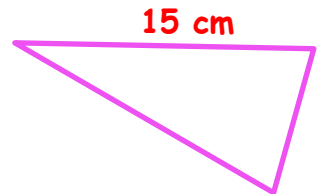
Çeşitkenar üçgen



Çeşitkenar üçgen



Eşkenar üçgen



İkizkenar üçgen