



TOPLAMA İŞLEMİ PROBLEMLER


1. Ceren 9 yaşındadır. Ceren 4 sene sonra kaç yaşında olur?




2. Kenan tanesi 9 liradan iki tane kitap almış. Kenan kitaplara kaç lira ödemiştir ?




3. Sinem kutudan 5 tane boncuk alınca kutuda 12 tane boncuk kalmış. Sinem boncukları almadan önce Kutuda kaç tane boncuk vardı ?




4. Meral'in 6 tane cevizi var. Bülent'in cevizleri ise Meral'in cevizlerinden 4 fazladır. Bülent'in kaç tane cevizi vardı ?




5. Gizem 8 yaşındadır. Ablası ise Gizem'den 6 yaş büyüktür. Gizem'in ablası kaç yaşındadır ?




6. Kayra her gün kumbarasına 4 lira atıyor. Kayra iki günde kumbarasına kaç lira atmış olur ?



7. Yağız defterine önce 5 satır , sonra 6 satır yazı yazmış. Yağız defterine toplam kaç satır yazı yazmıştır ?

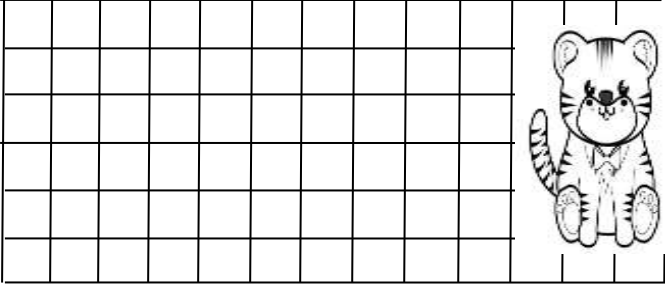


8. Ercan'ın 13 tane hikaye kitabı vardı. Babası Ercan'a 7 tane daha hikaye kitabı almış. Ercan'ın kaç tane kitabı olmuştur ?




TOPLAMA İŞLEMİ PROBLEMLER

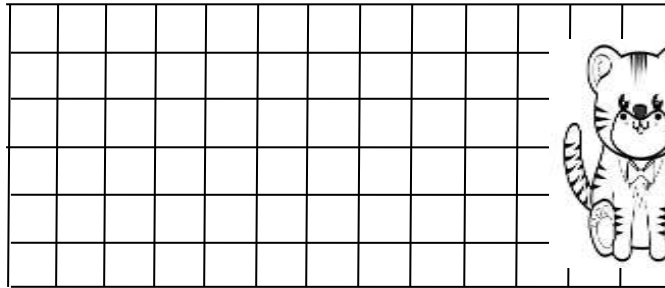
1. Hale kümesten geçen hafta 9 bu hafta 5 yumurta toplamış. Hale iki haftada toplam kaç tane yumurta toplamıştır?




2. Koray dün 10 sayfa, bugün 7 sayfa kitap okumuş. Koray iki günde toplam kaç sayfa kitap okumuştur?




3. Kutuda 14 tane yeşil, 6 tane mavi top var. Kutuda toplam kaç tane top vardır?



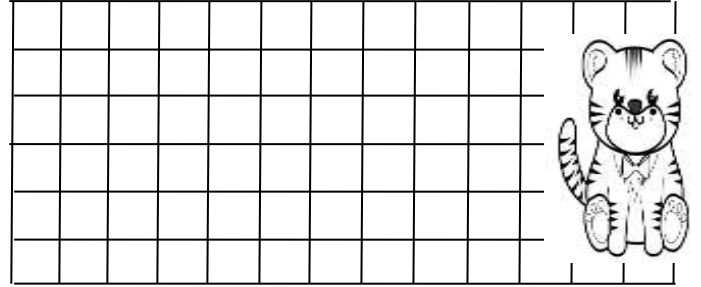
4. Ozan aldığı kitabın birine 10 lira , diğerine 5 lira ödedi. Ozan iki kitaba toplam kaç lira ödedi?



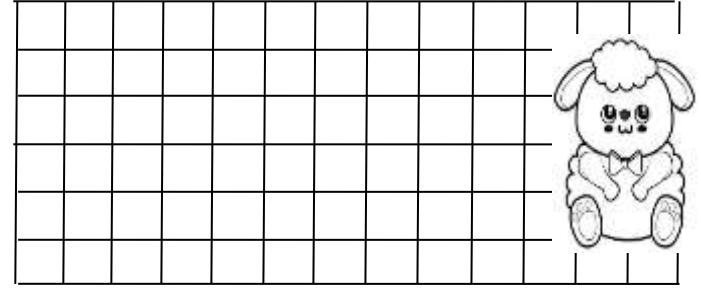
5. Kemal bahçeden önce 12 elma, sonra 4 elma toplamış. Kemal toplam kaç tane elma toplamış?




6. Ela'nın 6 tane sarı, 4 tane kırmızı boncuğu var. Ela'nın toplam kaç tane boncuğu var ?



7. Bağımızda 12 tane ağaç vardı. Babam 7 tane daha dikti. Bağımızda toplam kaç tane ağaç oldu ?



8. Ali 7 liraya defter , 4 liraya kalem almış. Ali toplam kaç lira harcamıştır?



Doğru

cevap

bulunan

yıldızları

boyayalım.

9

19

16

13

15

18

17

10

12

11

14

21

20

