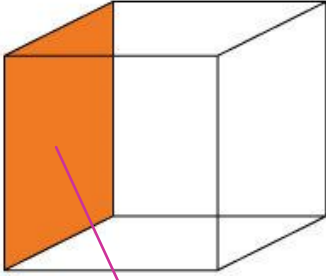
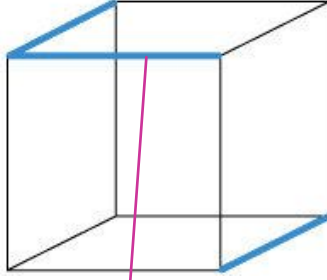
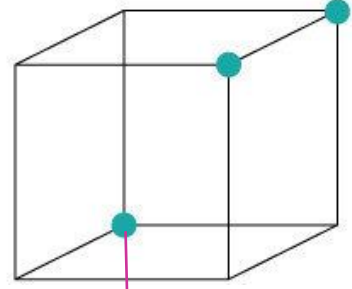




Küp ile ilgili istenen **bilgileri** yazınız. (köşe-yüz-ayrıt)







- Küpün **köşesi** vardır.
- Bir küpte uzunlukları birbirine eşit olan **ayrıt** bulunur.



Verilen şekillerden **küpün açınımları** olanları **işaretleyiniz**.

