



## ORMAN

Sen insansın, o ağaçtır,  
Suya, ışığa, sevgiye  
Bir insan kadar muhtaçtır;  
Ağaçların şehri orman.

Onu ne yak, ne sök, ne kır.  
Bir dal kopardığın zaman.  
Gizli bir sesle hıçkır.  
Her orman yurda bir ordu  
Ormanı iyi koru...

Hüseyin KALABA

Not: İlk 3 soruyu şiire göre cevaplayınız.

1) Şaire göre ağaçlar neye muhtaç **değildir**?

- A) Isıya      B) Suya      C) Sevgiye

2) Şair bir dal koparıldığı zaman **ne yapmamızı** istiyor?

- A) Yeni bir fidan dikmemizi  
B) Koparılan dalları yakmamızı  
C) Gizli bir sesle hıçkırmamızı

3) Aşağıda şiirle ilgili verilen bilgilerden hangisi **yanlıştır**?

- A) Şiirin şairi Hüseyin KALABA'dır.  
B) Şiir 8 mısradan oluşmaktadır.  
C) Şiirin konusu orman sevgisidir.

4)



aslan



akvaryum



ayakkabı

Yukarıda verilen görseller sözlük sırası göre **sondan başa** doğru nasıl sıralanmalıdır?

- A) akvaryum - aslan - ayakkabı  
B) ayakkabı - aslan - akvaryum  
C) aslan - ayakkabı - akvaryum

5)

Soğuk geçen kıştan sonra baharın gelmesi bizi memnun etti.

Cümledeki altı çizili sözcüğün anlamını aşağıdaki **hangi yüz ifadesi** yansıtmaktadır?



A)



B)



C)

6) Hangi seçenekteki sözcükler arasında **farklı bir anlam ilişkisi** vardır?

- A) uzak - ırak      B) üretim - tüketim  
C) doruk - zirve

7)



Bugün saçımı kuaförde  
..... kestirdim.

Yukarıdaki noktalı yere "Nasıl?" sorusunun cevaplanması için hangi kelime gelmelidir?

- A) evde B) akşam C) kısa

8)

1	başarılı	2	oldum
3	için	4	çalıştığım

Yukarıdaki sözcüklerle anlamli ve kurallı bir cümle oluşturulursa **sıralama** nasıl olur?

- A) 4-3-1-2 B) 2-3-4-1  
C) 1-3-4-2

9)



Kral Şakir 3 deste kalemi  
5 arkadaşına eşit şekilde  
paylaşıyor. Kral Şakir her bir  
arkadaşına kaç tane kalem  
vermiştir?

- A) 30 B) 6 C) 5

10)



Koca Ayı ve Maşa balık  
tutmak için göl kenarına  
gidiyorlar. Koca Ayı 11, Maşa  
ise 7 tane balık tutuyor.

Balıkların hepsini eşit şekilde paylaşıyorlar.  
Her biri kaç balık almıştır?

- A) 9 B) 8 C) 7

11)



Şirin Baba'nın 4 onluk 5 birliğin  
oluşturduğu sayı kadar fıncığı  
vardır. Bu fıncıkların 24 tanesini  
yemiştir. Kalan fıncıkları 3 tabağa  
eşit şekilde dağıtmıştır. Her bir  
tabakta kaç fıncık vardır?

- A) 7 B) 6 C) 5

12)



Arı Maya 24 petek bal  
yapmıştır. Bu petek balları 4  
kovana eşit şekilde  
paylaşıyor. Her bir kovanda  
kaç tane petek bal vardır?

- A) 8 B) 7 C) 6

13)



Bob usta 27 tane pencereyi  
3 daireye eşit olacak şekilde  
takmıştır. 1 daireye takılan  
pencere sayısı, 1 düzineden  
kaç eksiktir?

- A) 3 B) 6 C) 9

14)

$$15 \begin{array}{r} | 3 \\ \hline \end{array} \begin{array}{c} \star \end{array}$$

$$16 \begin{array}{r} | 4 \\ \hline \end{array} \begin{array}{c} \text{😊} \end{array}$$

Yukarıdaki bölme işlemlerine göre  
😊 x ⭐ işleminin sonucunu kaç bulmuştur?

- A) 9 B) 20 C) 25

15)



Keloğlan'ın yaptığı bir bölme işleminde **bölünen sayı 35, bölen sayı 5'tir**. Keloğlan bu bölme işlemi yaptıktan sonra bölen ile bölümü **topluyor**. Sonucu kaç bulmuştur?

- A) 7                      B) 12                      C) 14

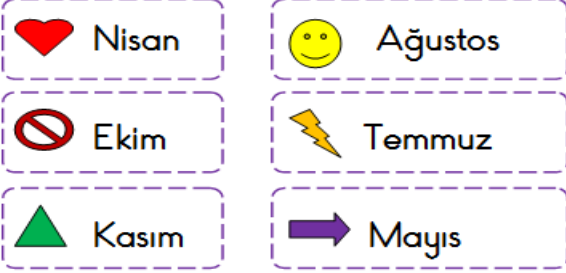
16)

Milli gün ve bayramlar, toplumun birlik ve beraberliğini artıran özel günlerdir.




Milli bayramlarda aşağıda verilenlerden hangisi **söz edilemez**?

- A) Vatan sevgisi  
B) Bağımsızlık  
C) Doğa sevgisi

17)



Yukarıda verilen ayların hangisinde milli gün ve bayram **kutlanmaz**?

- A)   
B)   
C) 

18) Öğrencilerin milli bayramlarda sınıflarını süslemeleri hangi duygu ve düşüncenin gelişmesini sağlar?

- A) Milli birlik duygusu  
B) Paylaşma duygusu  
C) Küçüklerini koruma duygusu

19)



Ayşe

Bugün, Atatürk önderliğinde Türkiye Cumhuriyeti Devleti kuruldu.

Ayşe bu konuşmayı aşağıdaki milli bayramlardan hangisinin kutlandığı gün yapmıştır?

- A) Zafer Bayramı  
B) Ulusal Egemenlik ve Çocuk Bayramı  
C) Cumhuriyet Bayramı

20) Milli Mücadele'nin başlangıcı olarak kabul edilen, Atatürk'ün Samsun'a çıkması sonucunda kutladığımız **milli bayram** aşağıdakilerden hangisidir?

- A) Zafer Bayramı  
B) Atatürk'ü Anma Gençlik ve Spor Bayramı  
C) Cumhuriyet Bayramı

## Cevap Anahtarı

1)A 2)C 3)B 4)B 5)C  
6)B 7)C 8)A 9)B 10)A  
11)A 12)C 13)A 14)B 15)B  
16)C 17)A 18)A 19)C 20)B