



MİLLİ GÜNLERİMİZ - BAYRAMLARIMIZ



Milletimiz için önemli olayların yıl dönümlerini **millî gün** veya **millî bayram** olarak kutlarız. Millî gün ve bayramlar, milletimizin birlik ve beraberliğini güçlendirir. Ortak duyguları paylaşmamızı sağlar. Ulusça kutladığımız bayramlara **Milli Bayramlar** denir.

Bizim **4 tane Milli Bayramımız** vardır. Milli Bayramlarda, sınıflar, okullar, caddeler ve sokaklar bayraklarla donatılır. Törenlerde Atatürk büstüne çelenk konur. Saygı duruşu yapılır. İstiklal Marşı söylenir. Şiirler okunur. Milli oyunlar oynanır. Milli bayramlarımız 4 tanedir. Aşağıda verilen kavram haritasını inceleyerek Milli Bayramlarımızı öğrenebiliriz.

19 MAYIS ATATÜRK'Ü ANMA, GENÇLİK VE SPOR BAYRAMI



19 Mayıs'da Atatürk, Samsun'a giderek **KURTULUŞ SAVAŞI**'ni başlattı. Yurdumuzu düşmanlardan kurtarmanın ilk adımı olduğu için her yıl 19 Mayıs tarihinde bu olayı bayram olarak kutluyoruz.

23 NİSAN ULUSAL EGEMENLİK VE ÇOCUK BAYRAMI



23 Nisan 1920'de **Büyük Millet Meclisi** açıldı. Atatürk, devletin yönetiminin padişahta değil halkın temsilcilerinde olmasını istiyordu. Mecliste Atatürk, oy birliği ile meclis başkanı seçildi. Ülkemizin geleceğini çocuklar oluşturduğu için Atatürk bu günü çocuklara armağan etti.

MİLLİ BAYRAMLARIMIZ

30 AĞUSTOS ZAFER BAYRAMI

Bazı ZAFERLER Sayfalara Sığmaz



30 Ağustos 1922'de **BAŞKUMANDANLIK MEYDAN SAVAŞI**'nin kazanılmasıyla Kurtuluş Savaşı sona erdi. Düşman ağır bir yenilgiye uğratıldı. Yurdumuzdan düşmanlar uzaklaştırıldı. Bu zafer gününü bayram olarak kutluyoruz.

İskender07 (İlkokul etkinlikleri)

29 EKİM CUMHURİYET BAYRAMI



29 Ekim 1923'te devletin **yönetim şekli cumhuriyet** olarak belirlendi. Atatürk, meclis tarafından cumhurbaşkanı seçildi. Cumhuriyetin ilanından sonra Atatürk'ün önderliğinde birçok yenilik yapıldı. Birçok hak ve özellikler kazanıldı.

www.mebders.com

- Aşağıda verilen resimlerin altına hangi bayram olduğunu yazınız.



..... Bayramı



..... Bayramı

23 Nisan Kutlu Olsun!



..... Bayramı



..... Bayramı

- Aşağıda verilen milli gün ve bayramlarımızla uygun tarihleri eşleştiriniz.

Zafer Bayramı

19 MAYIS

Ulusal Egemenlik ve Çocuk Bayramı

15 TEMMUZ

Demokrasi ve Milli Birlik Günü

29 EKİM

Atatürk'ü Anma Gençlik ve Spor Bayramı

30 AĞUSTOS

Cumhuriyet Bayramı

23 NİSAN

- Aşağıda verilen cümlelerdeki boşlukları uygun kelimelerle doldurunuz.

Çocuk Haftası

zafer

cumhuriyetle

Meclisi

19 Mayıs

- günü, Kurtuluş Savaşı'mızın başlangıcı kabul edilir.
- 23 Nisan günü Büyük Millet açıldı.
- 23 Nisan haftasını ülkemizde olarak kutlarız.
- 30 Ağustos günü ordumuz, Atatürk'ün başkomutanlığında büyük bir kazandı.
- 29 Ekim günü, ülkemizin yönetilmeye başlandığı gündür.



CAN ARI İLE SARI ÇİÇEK



Can arı her gün yüzlerce çiçeğe konup bal yapmak için çalışıyormuş. Ancak sadece Sarı çiçeğe konmuyormuş. Çünkü çiçeğin çirkin olduğunu balının da bu nedenle güzel olmayacağını düşünüyormuş. Sarı çiçek bu duruma çok içerliyor, her gece üzüntüsünden ağlıyormuş. "Can arı neden beni beğenmiyor? Beni gerçekten tanısa benden güzel bal olacağını bilir." diye düşünüp duruyormuş.

Can arı günlerce Sarı çiçeğe konmamış. Aradan zaman geçmiş. Can arı hastalanmış. Artık çiçeklere konup bal yapamaz haldeymiş. Çaresi ise Sarı çiçekteymiş. Çünkü Can arının iyileşmesi için gerekli vitaminler sadece Sarı çiçekte varmış.

Can arı, günlerce üzdüğü Sarı çiçekten yardım istemeye utanmış. Ama çaresiz kaldığı için diğer arılarla haber göndermiş. Sarı çiçek Can arının hastalanmasına çok üzülmüş. Hemen yardıma koşmuş. Bütün vitaminlerini Can arıya vermiş. Can arı kısa sürede iyileşmiş.

İyileşince fark etmiş ki aslında çirkinlik görüntüde değil kalpte oluyormuş. Yaptıklarından pişman olmuş ve defalarca Sarı çiçekten özür dilemiş. Sarı çiçek de can arıyı affetmiş. O günden sonra birbirlerini üzmeden yaşamaya devam etmişler.



A-) Aşağıda verilen soruları metne göre cevaplayınız.

- 1-) Can arı her gün ne için çalışıyormuş?
- 2-) Can arı, Sarı çiçeğe neden hiç konmuyormuş?
- 3-) Can arının iyileşmesi için gerekli vitaminler sadece kimde varmış?
- 4-) Can arı, iyileşince neyi fark etmiş?

www.mebders.com

B-) Doğru olanı işaretleyelim.

1) Aşağıdakilerden hangisi sarı çiçeğin özelliklerinden değildir?


- A) Sarı olması
- B) Yardım sever olması
- C) Kıskanç olması

2) Can arı hastalanınca kimden yardım istemiş?


- A) Kraliçe arıdan
- B) Sarı çiçekten
- C) Diğer arılardan

3) Can arı yaptıklarından pişman olup ne yapmış?

- A) Küsmü.
- B) Sarı çiçekten özür dilemiş
- C) Sarı çiçeğe çok çirkin olduğunu söylemiş.



KARŞILAŞTIRMA CÜMLELERİ



Bir varlığın başka varlıklarla benzer ya da farklı yönlerini açısından değerlendirildiği cümlelere **karşılaştırma cümleleri** denir.

Karşılaştırma, birbiriyle ilgili iki varlık, iki kavram ya da herhangi iki şeyi ortak olan veya olmayan yönleriyle anlatmaktır. Karşılaştırma cümlelerinde "**gibi, kadar, daha, göre, en, daha iyi, daha kötü**" gibi ifadeler kullanılır.

ÖRNEK: Bu ağaç **daha** uzunmuş.



Ali, Hasan'a **göre** uzundur.



Aşağıdaki cümlelerde karşılaştırma yapılarının başındaki kutucuğu işaretleyiniz.

- Efe, erik ve muz daha çok sever.
- Kemal, Ozan'dan daha çalışkandır.
- Bir yılda 4 mevsim vardır.
- Onun gibi hızlı koşamam.
- Okulumuzun bahçesinde top oynadık.
- Dedem ailemizin en büyüğüdür.
- Yarın okula erken gideceğim.
- Benim kitabım seninkinden daha ağır.
- Bu sınıfın en çalışkan öğrencisi benim.
- İyilik yapmayı çok severim.
- Çınar, annesinden daha uzundur.
- Uçakları, helikopterlere göre daha seviyorum.



KARŞILAŞTIRMA CÜMLELERİ



Aşağıdaki cümlelerde verilen deyimleri bularak yan taraftaki kutucuklara yazınız.

benzer

farklı olarak

daha

farklı

kadar

gibi

göre

en

Furkan, kardeşi şişman değil.

Oturduğumuz site birbirinden binalardan oluşmuş.

Osman benden uzundur.

Babam, annem güzel salata yapar.

Benim saatim, senin saatinden arama yapıyor.

Fil, fareye daha büyüktür.

Uçak ulaşım araçları içerisinde hızlı olanıdır.

Arkadaşım ayakkabılar almışız.

Aşağıda verilen karşılaştırma cümlelerini tamamlayınız.

Bugün hava günden daha

Otomobil, kamyonu göre

Kışın diğer mevsimlerden farklı olarak

Kangurular, kurbağalara benzer

Kuşların, kedilerden farkı

Limon, erikten daha

Televizyon da bilgisayar gibi.....

SÖZLÜK (ALFABETİK) SIRALAMA 4

- Aşağıdaki kelimeleri alfabe sırasına göre sıralayınız.

A B C Ç D E F G Ğ H I İ J K L M N O Ö P R S Ş T U Ü V Y Z



Muz - Masa - Meşe

- 1-) _____
- 2-) _____
- 3-) _____



Dergi - Düzine - Deste

- 1-) _____
- 2-) _____
- 3-) _____



Atkı - Armut - Anne

- 1-) _____
- 2-) _____
- 3-) _____



Kasa - Kara - Kapak

- 1-) _____
- 2-) _____
- 3-) _____



Pilot - Pazar - Pırasa

- 1-) _____
- 2-) _____
- 3-) _____



Salça - Saray - Sarma

- 1-) _____
- 2-) _____
- 3-) _____



Zebra - Zil - Zar

- 1-) _____
- 2-) _____
- 3-) _____



Vakit - Vana - Vadi

- 1-) _____
- 2-) _____
- 3-) _____



Taksi - Tren - Tır

- 1-) _____
- 2-) _____
- 3-) _____



Mangal - Mandal- Manti

- 1-) _____
- 2-) _____
- 3-) _____


EŞ ANLAMLI KELİMELEER

Aşağıda hayvanların tuttukları tabelalardaki kelimelerin eş anlamlısını karşısına yazınız.

kirli



deprem




güçlü




yaş




sözcük




kalp



harf



kafa




öğrenci



hızlı



sonbahar



sihhat



BÖLME İŞLEMİ PROBLEMLERİ 1

1-) Maysa 12 tane elmayı, 2 tabağa eşit olarak paylaşıyor. Her bir tabağa kaç elma düşmüştür?



Cevap:

2-) Kukuli'nin 2 onluk 4 birliğin oluşturduğu sayı kadar muz vardı. Bu muzları sabah, öğlen ve akşam yani 3 öğün eşit olarak yemektir. Her bir öğünde kaç muz yemektir?



Cevap:

3-) Arı Maya 20 petek bal yapmıştır. Bu petek balları 4 kovana eşit şekilde paylaşıyor. Her bir kovanda kaç tane petek bal vardır?



Cevap:

4-) Kral Şakir 3 deste kalem 5 arkadaşına eşit şekilde paylaşıyor. Kral Şakir her bir arkadaşına kaç tane kalem vermiştir?



Cevap:

5-) Fil Necati akşam arkadaşları ile yemek için 21 dürüm almıştır. Bu dürümleri 3 poşete eşit olarak yerleştirmiştir. Her bir poşette kaç dürüm vardır?



Cevap:

6-) Nasrettin Hoca pazardan 3 düzine düdük almıştır. Bu düdüklere 4 torununa eşit şekilde paylaştırmıştır. Her bir torunu kaç düdük almıştır?



Cevap:

7-) Elif'in sınıfında 18 öğrenci vardır. Elif'in sınıfına 2 yeni öğrenci daha geldi. Bu sınıfta öğrenciler her sıraya ikişer olarak eşit şekilde oturdular. Elif'in sınıfında kaç sıra vardır?



Cevap:

8-) Maşa'nın yaptığı bir bölme işleminde bölünen sayı 45, bölen sayı 5'tir. Maşa bu bölme işlemi yaptıktan sonra bölen ile bölümü topluyor. Sonucu kaç bulmuştur.



Cevap:

BÖLME İŞLEMİ PROBLEMLERİ 2

1-) Koca Ayı ve Maşa balık tutmak için göl kenarına gidiyorlar. Koca Ayı 11, Maşa ise 7 tane balık tutuyor. Balıkların hepsini eşit şekilde paylaşıyorlar. Her biri kaç balık almıştır?



Cevap:

2-) Remzi'ye akşam arkadaşları ziyarete gelmiştir. Remzi buzdolabından çıkardığı 27 tane portakalı 3 tabağa eşit şekilde paylaşmıştır. Her bir tabakta kaç portakal vardır?



Cevap:

3-) Tanju marketten aldığı 48 gofretin 16 tanesi yedi. Geriye kalan gofretleri 4 kutuya eşit şekilde yerleştirdi. Her bir kutuda kaç gofret vardır?



Cevap:

4-) Mandalina'nın yaptığı bir bölme işleminde bölünen sayı 35, bölen sayı 5'tir. Bu bölme işleminde bölüm kaçtır?



Cevap:

5-) Garfield 27 tane balığı sabah kahvaltısı öğlen ve akşam yemeğinde eşit olarak yemek istiyor. Her öğünde kaç balık yemelidir?



Cevap:

6-) Akıllı Tavşan Momo tarlasından 4 deste havuç toplamıştır. Topladığı havuçları 5 poşete eşit şekilde doldurmuştur. Her bir poşette kaç havuç vardır?



Cevap:

7-) Doru ve arkadaşları çiftlikte yaşamaktadır. Doru ve arkadaşlarının ayak sayısı 40'tır. Bu çiftlikte kaç tane at vardır?



Cevap:

8-)

$$\begin{array}{r} 18 \quad 3 \\ \hline \star \end{array}$$

$$\begin{array}{r} 20 \quad 4 \\ \hline \text{😊} \end{array}$$

Yukarıdaki bölme işlemlerine göre Keloğlan $\star \times \text{😊}$ işleminin sonucunu kaç bulmuştur?



Cevap:

BÖLME İŞLEMİ PROBLEMLERİ 3

1-) Müge ve Mine ağaçtan beraber topladıkları 38 tane eriğin 20 tanesini yediler. Daha sonra geri kalan erikleri eşit şekilde paylaştılar. Her biri kaç erik almıştır?




2-) Bob usta 27 tane pencereyi 3 daireye eşit olacak şekilde takmıştır. 1 daireye takılan pencere sayısı, 1 düzineden kaç eksiktir?




3-) Keloğlan'ın çiftliğindeki keçilerin ayak sayısı 36, tavukların ayak sayısı 20 tanedir. Keloğlan'ın çiftliğindeki keçi ve tavuk sayılarının çarpımı kaçtır?



4-) Pırıl'ın kitaplığında 4 deste hikaye kitabı vardır. Pırıl bu hikaye kitaplarını hafta içi günleri eşit sayıda okuyup bitirmek istiyor. Her gün kaç kitap okumalıdır?



5-) Şirin Baba'nın 4 onluk 8 birliğin oluşturduğu sayı kadar fıncığı vardır. Bu fıncıkların 24 tanesini yemiştir. Kalan fıncıkları 3 tabağa eşit şekilde dağıtmıştır. Her bir tabakta kaç fıncık vardır?




6-) Koca Ayı'nın 2 deste, Maşa'nın 1 düzine boya kalemi vardır. İki boya kalemlerinin hepsini eşit şekilde paylaşmak istiyor. Her biri kaç kalem alır?



7-) Kadriye'nin yaptığı bir tepside 35 börek vardır. Kadriye bu börekleri misafirleri ile yemek için 5 tabağa eşit şekilde dağıtıyor. Her tabakta kaç börek vardır?



8-) Erdem'in yaptığı bir bölme işleminde bölünen sayı 30, bölen sayı 3'tür. Bu bölme işleminde bölüm kaçtır?



BÖLME İŞLEMİ PROBLEMLERİ 4

1-) Can, Mert ve Aslı 5 deste muzun 23 tanesi yemişlerdir. Geriye kalan muzları eşit olarak paylaşmışlardır. Her birine kaç muz almış olabilir?



Cevap:

2-) Bob Usta 3 onluk 6 birliğin oluşturduğu sayı kadar pencereyi 4 katlı bir binanın her katına eşit sayıya takmak istiyor. Bob Usta her kata eşit sayıda pencere taktığına göre her katta kaç pencere vardır?



Cevap:

3-) Heidi'nin çiftliğindeki kuzuların ayak sayısı 24, ördeklerin ayak sayısı 18 tanedir. Heidi'nin çiftliğindeki kuzu ve ördek sayılarının çarpımı kaçtır?



Cevap:

4-) Ozi 23 tane kurabiyeyi 3 tabağa eşit olarak paylaşmak istiyor. Her tabağa eşit şekilde paylaştırdıktan sonra elinde kaç kurabiye kalmıştır?



Cevap:

5-) Aslan 38 sayısını en yakın onluğa yuvarlıyor. Yuvarladıktan sonra bulduğu sayıyı 5'bölüyor. Yaptığı bu işlemde bölüm kaçtır?



Cevap:

6-) Ege'nin 2 deste, Gaga'nın 2 düzine boya kalemi vardır. İki boya kalemlerinin hepsini 4 kalemlige eşit şekilde paylaşmak istiyor. Her bir kalemlikte kaç boya kalemi vardır?



Cevap:

7-) Doru ve Karatay'ın 29 balya samanı vardır. İki beraber 13 balya samanı yemişlerdir. Daha sonra kalan saman balyalarını ikisi eşit şekilde paylaşmışlardır. Her biri kaç balya saman düşmüştür?



Cevap:

8-) Erdem 35 tane hikaye kitabını 4 rafa, her rafta eşit sayıda kitap olacak şekilde paylaşıyor. Paylaştırdıktan sonra elinde kaç hikaye kitabı kalmıştır?



Cevap:



ORMAN

Sen insansın, o ağaçtır,
Suya, ışığa, sevgiye
Bir insan kadar muhtaçtır;
Ağaçların şehri orman.

Onu ne yak, ne sök, ne kır.
Bir dal kopardığın zaman.
Gizli bir sesle hıçır.
Her orman yurda bir ordu
Ormanı iyi korusun...

Hüseyin KALABA

Not: İlk 3 soruyu şiire göre cevaplayınız.

1) Şaire göre ağaçlar neye muhtaç **değildir**?

- A) Isıya B) Suya C) Sevgiye

2) Şair bir dal koparıldığı zaman **ne yapmamızı** istiyor?

- A) Yeni bir fidan dikmemizi
B) Koparılan dalları yakmamızı
C) Gizli bir sesle hıçkırılmamızı

3) Aşağıda şiirle ilgili verilen bilgilerden hangisi **yanlıştır**?

- A) Şiirin şairi Hüseyin KALABA'dır.
B) Şiir 8 mısradan oluşmaktadır.
C) Şiirin konusu orman sevgisidir.

4)



aslan



akvaryum



ayakkabı

Yukarıda verilen görseller sözlük sırası göre **sondan başa** doğru nasıl sıralanmalıdır?

- A) akvaryum - aslan - ayakkabı
B) ayakkabı - aslan - akvaryum
C) aslan - ayakkabı - akvaryum

5)

Soğuk geçen kıştan sonra baharın gelmesi bizi memnun etti.

Cümledeki altı çizili sözcüğün anlamını aşağıdaki **hangi yüz ifadesi** yansıtmaktadır?



6) Hangi seçenekteki sözcükler arasında **farklı bir anlam ilişkisi** vardır?

- A) uzak - ırak B) üretim - tüketim
C) doruk - zirve

7)



Bugün saçımı kuaförde
..... kestirdim.

Yukarıdaki noktalı yere "Nasıl?" sorusunun cevaplanması için hangi kelime gelmelidir?

- A) evde B) akşam C) kısa

8)

1	başarılı	2	oldum
3	için	4	çalıştığım

Yukarıdaki sözcüklerle anlamli ve kurallı bir cümle oluşturulursa **sıralama** nasıl olur?

- A) 4-3-1-2 B) 2-3-4-1
C) 1-3-4-2

9)



Kral Şakir 3 deste kalemi
5 arkadaşına eşit şekilde
paylaşıyor. Kral Şakir her bir
arkadaşına kaç tane kalem
vermiştir?

- A) 30 B) 6 C) 5

10)



Koca Ayı ve Maşa balık
tutmak için göl kenarına
gidiyorlar. Koca Ayı 11, Maşa
ise 7 tane balık tutuyor.

Balıkların hepsini eşit şekilde paylaşıyorlar.
Her biri kaç balık almıştır?

- A) 9 B) 8 C) 7

11)



Şirin Baba'nın 4 onluk 5 birliğin
oluşturduğu sayı kadar fıncığı
vardır. Bu fıncıkların 24 tanesini
yemiştir. Kalan fıncıkları 3 tabağa
eşit şekilde dağıtmıştır. Her bir
tabakta kaç fıncık vardır?

- A) 7 B) 6 C) 5

12)



Arı Maya 24 petek bal
yapmıştır. Bu petek balları 4
kovana eşit şekilde
paylaşıyor. Her bir kovanda
kaç tane petek bal vardır?

- A) 8 B) 7 C) 6

13)



Bob usta 27 tane pencereyi
3 daireeye eşit olacak şekilde
takmıştır. 1 daireeye takılan
pencere sayısı, 1 düzineden
kaç eksiktir?

- A) 3 B) 6 C) 9

14)

$$15 \begin{array}{r} | \\ \hline 3 \\ \hline \end{array} \begin{array}{c} \\ \\ \end{array}$$

$$16 \begin{array}{r} | \\ \hline 4 \\ \hline \end{array} \begin{array}{c} \\ \\ \end{array}$$

Yukarıdaki bölme işlemlerine göre
😊 x ★ işleminin sonucunu kaç bulmuştur?

- A) 9 B) 20 C) 25

15)



Keloğlan'ın yaptığı bir bölme işleminde **bölünen sayı 35, bölen sayı 5'tir**. Keloğlan bu bölme işlemi yaptıktan sonra bölen ile bölümü **topluyor**. Sonucu kaç bulmuştur?

- A) 7 B) 12 C) 14

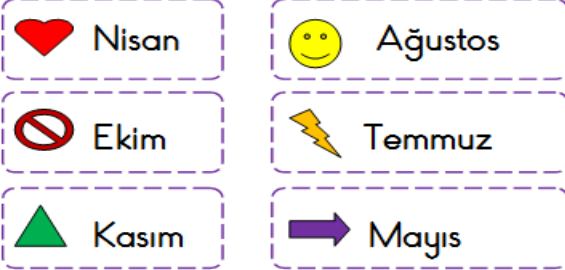
16)

Milli gün ve bayramlar, toplumun birlik ve beraberliğini artıran özel günlerdir.




Milli bayramlarda aşağıda verilenlerden hangisi **söz edilemez**?

- A) Vatan sevgisi
B) Bağımsızlık
C) Doğa sevgisi

17)



Yukarıda verilen ayların hangisinde milli gün ve bayram **kutlanmaz**?

- A) 
B) 
C) 

18) Öğrencilerin milli bayramlarda sınıflarını süslemeleri hangi duygu ve düşüncenin gelişmesini sağlar?

- A) Milli birlik duygusu
B) Paylaşma duygusu
C) Küçüklerini koruma duygusu

19)



Ayşe

Bugün, Atatürk önderliğinde Türkiye Cumhuriyeti Devleti kuruldu.

Ayşe bu konuşmayı aşağıdaki milli bayramlardan hangisinin kutlandığı gün yapmıştır?

- A) Zafer Bayramı
B) Ulusal Egemenlik ve Çocuk Bayramı
C) Cumhuriyet Bayramı

20) Milli Mücadele'nin başlangıcı olarak kabul edilen, Atatürk'ün Samsun'a çıkması sonucunda kutladığımız **milli bayram** aşağıdakilerden hangisidir?

- A) Zafer Bayramı
B) Atatürk'ü Anma Gençlik ve Spor Bayramı
C) Cumhuriyet Bayramı

Cevap Anahtarı

1)A 2)C 3)B 4)B 5)C
6)B 7)C 8)A 9)B 10)A
11)A 12)C 13)A 14)B 15)B
16)C 17)A 18)A 19)C 20)B