

Ad, soyad:

.....
.....
.....

Haftalık Değerlendirme - 4

Funda Menekşe!



Doğru:.....
Yanlış:.....

Çanakkale

Hem karadan hem denizden,
Dünyanın dört köşesinden,
Akin etti düşman askeri,
Kuşattı Çanakkale'yi.



Elleri kınalı Mehmetçik,
Boyun eğer mi düşmana?
Siper etti gövdesini,
Geçit vermedi onlara.

Unutma ey Türk çocuğu!
Çanakkale bir destandır.
Anaların gözyaşı,
Şehitlerin al kanıdır.

Funda Menekşe

İlk üç soruyu metne göre cevaplayalım.

- 1- Düşman nereyi kuşattı?
A) dünyayı
B) Çanakkale'yi
C) Ankara'yı
- 2- Şair Çanakkale için hangisini söylememiştir?
A) Destan olduğunu
B) Şehitlerin al kanı olduğunu
C) Kolay bir savaş olduğunu
- 3- Bu şiirde kaç kıta vardır?
A) 3
B) 4
C) 12

4- Hangisi yazılırken her zaman büyük harfle başlar?

- A) Düşman
- B) Çanakkale
- C) Gövde




5- "pırasa" sözcüğü hangi şıkta hecelerine doğru ayrılmıştır?

- A) pır-a-sa
- B) pı-ras-a
- C) pı-ra-sa

6- "Çanakkale geçilmez!" cümlesinde kaç harf vardır?

- A) 17
- B) 16
- C) 2

7- "t,m,s,i,h,a" harfleriyle aşağıdaki varlıklardan hangisinin adını yazabiliriz?

- A) 
- B) 
- C) 



Kitaplarım çok ağır.

8- Elifin cümlesindeki altı çizili sözcüğün zıt(karşıt) anlamlısı hangisidir ?

- A) ince
- B) hafif
- C) kirlî

9- Melisa'nın 12 kalemi vardı. Kalemlerin 7 tanesini kaybetti. Melisa'nın kaç kalemi kaldı?

- A) 5 B) 15 C) 19



10- Yukarıda verilen bilgilerle yazılabilecek problem hangisidir?

- A) Ormanda 2 ayı vardı. 4 ayı daha geldi. Ormanda kaç ayı oldu?
B) Ormanda dokuz kuş vardı. Kuşlardan 3 tanesi okula gitti. Ormanda kaç kuş kaldı?
C) 5 kuş, 3 kuş daha kaç kuş eder?

11- 1 onluk 5 birlikten oluşan sayıdan 4 çıkarırsak kaç kalır?

- A) 10 B) 19 C) 11

12- Beşer ritmik sayarken söylediğimiz üçüncü sayının 2 fazlası kaçtır?

- A) 12 B) 17 C) 7



2 4 8 10 14 16

13- Kurbağalar yapraklara ikiye bölünmüşler. Onları sayarken unutulmuş sayıların toplamı kaçtır?

- A) 6 B) 18 C) 20

14- Aşağıdaki ifadelerden hangisi doğrudur?

- A) Araca biner binmez şarkı söylemeye başlamalıyız.
B) Üstü açık araçlarda yolculuk etmek güvenlidir.
C) Araca binince mutlaka emniyet kemerimizi takmalıyız.



15- Yukarıdaki levha neyi ifade etmektedir?

- A) Okul geçidi
B) Yaya geçidi
C) Dikkat



16- Azra bisikletiyle eve giderken bir levha gördü ve bu yolda çok dikkatli olması gerektiğini anladı. Azra'nın gördüğü levha hangisidir?

- A)  B) 

