



SESTEŞ KELİMELER

⚙️ Aşağıda verilen kelimeleri iki farklı anlamda olacak şekilde cümlede kullanalım.



diz

.....
.....

aç

.....
.....

bin

.....
.....

yaz

.....
.....

yüz

.....
.....

kaz

.....
.....

kara

.....
.....

yaş

.....
.....



ZIT VE EŞ ANLAMLI KELİMELER



Aşağıda verilen kelimelerin önce eş anlamlısı , sonra zıt anlamlısı olan kelimelerle cümle kuralım.



siyah



kolay



yanıt



fayda



hızlı



ıslak



yoksul



KIYMETLİ TUZ

Günlerden bir gün oldukça zengin ve heybetli bir padişah varmış. Bu padişah öyle zengin öyle güçlüymüş ki çevresindeki herkes ondan korkarmış. Ancak kızlarını çok severmiş ve onların da kendisini sevmesini çok istermiş. Padişah bu durumun da etkisiyle bir gün çocuklarını akşam yemeğine davet etmiş ve onlara bazı sorular sormaya başlamış. Padişah kendisi için en önemli olan soruyu en sona saklamış ve en son kızlarına kendisini ne kadar sevdiklerini sormuş. Bu lafı duyan en büyük kız ayağa fırlamış ve babasını dünyalar kadar çok sevdiğini haykırarak söylemiş. Ortanca kız ayağa kalkmış ve babasını kucak kadar sevdiğini söylemiş. Daha sonra en küçük kız ayağa kalkmış ve babasını tuz kadar sevdiğini söylemiş. Bunu duyan Padişah babası, bir anlık hiddetle kızını zindana attirmiş. Ancak saraydaki muhafızlardan biri kıza acıyarak zindandan kaçmasına yardım etmiş. Küçük kız kaçıp bir köye sığınmış, sığındığı köyde çok zengin bir adam bu kıızı köle olarak almış. Bir süre sonra kız büyümüş ve çok güzel olmuş. O kadar güzel olmuş ki dünyanın birçok yerinden onu görmeye gelenler oluyormuş. Günün birinde başka bir padişahla evlenmiş ve artık bir prenses olmuş.

Prensese olduktan sonra babası olan Padişah'ı saraya davet etmeye ve bir ziyafet hazırlatmaya karar vermiş. Ziyafet hazırlanmış hazırlanmasına ama hiçbir yemeğe tuz atılmamış. Padişah tüm ahalisiyle birlikte yemeğe gelmiş ancak hiçbir yemekten yiyememişler. Bu durum onları rahatsız etmiş ve bir anda prenses ayağa kalkıp konuşmaya başlamış. Padişaha onun kıızı olduğunu ve Kıymetli Tuzun ne kadar önemli olduğunu söylemiş. Daha sonra padişah ve kıızı sarılıp barışmışlar ve mutlu mesut sonsuza kadar yaşamışlar.



Aşağıdaki soruları metne uygun bir şekilde cevaplayınız.

1 . Herkes padişahı niçin korkarmış?

.....

2. Padişah kimleri akşam yemeğine davet etmiş?

.....

3. Padişah , kızlarına ne sormuş?

.....

4. Küçük kız babasının sorusuna ne cevap vermiş?

.....

5. Küçük kız zindandan kaçtıktan sonra ne yapmış?

.....

6. Prensese yemekleri nasıl hazırlatmış?

.....



OYUN ARAÇLARINI GÜVENLİ KULLANIRIM

☀️ Aşağıdaki görsellerdeki oyun alanlarını inceleyelim. Güvenli olanlara "güvenli", güvenli olmayanlara "tehlikeli" yazalım. .

















☀️ Aşağıda verilen görsellerdeki tehlikeli durumları ve oluşabilecek sonuçları yazalım.



.....
.....
.....



.....
.....
.....





CANLI VE CANSIZ VARLIKLAR

☀ Aşağıdaki görsellerin altına "canlı" ve "cansız" kelimelerinden uygun olanını yazalım.



.....



.....



.....



.....



.....



.....



.....



.....



.....



.....



.....



.....



.....



.....



.....



.....



.....



.....





ZAMANI OKUYALIM VE YAZALIM

Aşağıda okunuşları verilen saatlerin harflerini dijital saatle eşleştirelim. Şifreyi bulalım.

- | | | | |
|--|---|--|---|
| <input type="checkbox"/> E On iki buçuk | <input type="checkbox"/> İ Dokuz | <input type="checkbox"/> Ğ Dördü çeyrek geçiyor | |
| <input type="checkbox"/> A Altıya yirmi var | <input type="checkbox"/> O Onu yirmi geçiyor | <input type="checkbox"/> İ On ikiye çeyrek var | |
| <input type="checkbox"/> Ö Dokuzu çeyrek geçiyor | <input type="checkbox"/> S Beşe çeyrek var | <input type="checkbox"/> M Üçü yirmi beş geçiyor | |
| <input type="checkbox"/> U Yediyi on geçiyor | <input type="checkbox"/> R İkiyi çeyrek geçiyor | <input type="checkbox"/> R Dörde beş var | |
| <input type="checkbox"/> A Beş buçuk | <input type="checkbox"/> N On bir | <input type="checkbox"/> T Sekize on var | <input type="checkbox"/> Y Biri beş geçiyor |



04:45

....

17:30

....

05:40

....

19:50

....

09:00

....



21:15

....

04:15

....

15:55

....

12:30

....

11:00

....

23:45

....

01:05

....

10:20

....

14:15

....

07:10

....

03:20

....



- | | | |
|---|--|---------------------------------------|
| <input type="checkbox"/> S Sekiz buçuk | <input type="checkbox"/> E Dokuz beş var | |
| <input type="checkbox"/> V Dört | <input type="checkbox"/> L İkiyi yirmi beş geçiyor | |
| <input type="checkbox"/> İ Ona çeyrek var | <input type="checkbox"/> M Üçü on geçiyor | |
| <input type="checkbox"/> R On biri çeyrek geçiyor | <input type="checkbox"/> E Beşe on var | <input type="checkbox"/> M Dört buçuk |

03:10

....

20:55

....

16:00

....

08:30

....

21:45

....

04:30

....

02:25

....

16:50

....

11:15

....



ZAMANI OKUYALIM VE YAZALIM



Aşağıdaki saatlere göre soruları cevaplayalım.



A. Saat kaç?

.....

B. 15 dakika sonra saat kaç olur?

.....

C. Yarım saat sonra saat kaç olur?

.....

Ç. 10 dakika önce saat kaçtı ?

.....

D. Yarım saat önce saat kaçtı ?

.....

E. 3 saat sonra saat kaç olur?

.....

F. 1 saat önce saat kaçtı ?

.....



A. Saat kaç?

.....

B. 10 dakika önce saat kaçtı?

.....

C. Yarım saat önce saat kaçtı ?

.....

Ç. 15 dakika sonra saat kaç olur?

.....

D. 1 saat sonra saat kaç olur?

.....

E. 2 saat önce saat kaçtı ?

.....

F. Yarım saat sonra saat kaç olur?

.....



A. Saat kaç?

.....

B. 5 dakika sonra saat kaç olur?

.....

C. 10 dakika önce saat kaçtı ?

.....

Ç. Yarım saat önce saat kaçtı ?

.....

D. 2 saat sonra saat kaç olur?

.....

E. 3 saat önce saat kaçtı ?

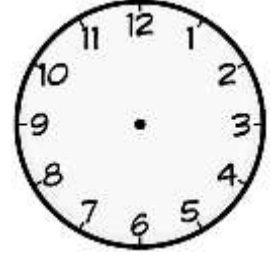
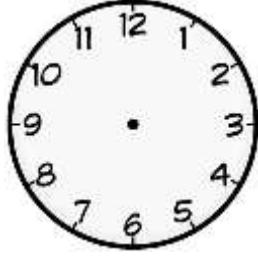
.....

F. 35 dakika sonra saat kaç olur?

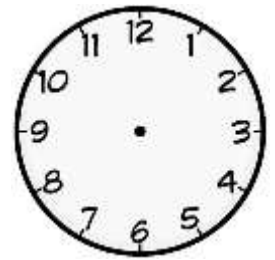
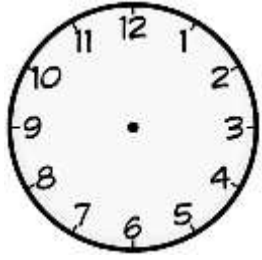
.....

ZAMANI OKUYALIM VE YAZALIM

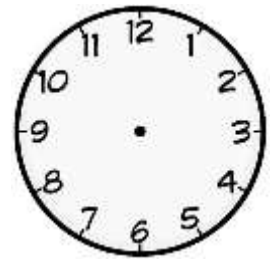
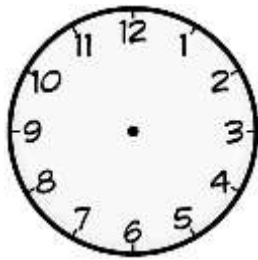
1.Etkinlik : Aşağıdaki saatleri okuyup altına yazalım. Yanındaki saate 1 saat 10 dakika sonrasını gösterelim ve okuyup yazalım.




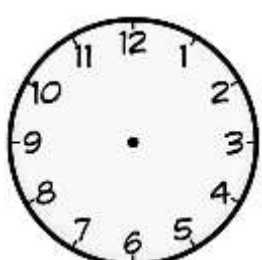
2.Etkinlik : Aşağıdaki saatleri okuyup altına yazalım. Yanındaki saate 3 saat sonrasını gösterelim ve okuyup yazalım.



3.Etkinlik : Aşağıdaki saatleri okuyup altına yazalım. Yanındaki saate 2 saat öncesini gösterelim ve okuyup yazalım.



4.Etkinlik : Aşağıdaki saatleri okuyup altına yazalım. Yanındaki saate 1 saat 15 dakika sonrasını gösterelim ve okuyup yazalım.





ZAMAN ÖLÇÜ BİRİMLERİ ARASINDAKİ İLİŞKİLER



Aşağıdaki noktalı yerleri işlem yaparak bulup noktalı yerleri tamamlayalım.



Bir gün 24 saat,
1 saat 60 dakika,
1 dakika 60 saniyedir.

2 dakika = saniye

.... x =

5 dakika = saniye

.... x =

10 dakika = saniye

.... x =

2 saat = dakika

.... x =

4 saat = dakika

.... x =

7 saat = dakika

.... x =

2 gün = saat

.... x =

5 gün = saat

.... x =

10 gün = saat

.... x =

3 gün = saat

.... x =

8 gün = saat

.... x =

45 dakika 1 saatten dakika eksiktir.

.... - =

34 saniye 1 dakikadan saniye eksiktir.

.... - =

16 saat 1 günden saat eksiktir.

.... - =

74 dakika 1 saatten dakika fazladır.

.... - =

82 saniye 1 dakikadan saniye fazladır.

.... - =

42 saat 1 günden saat fazladır.

.... - =



SAAT VE DAKİKA



Saatler arasındaki zaman farkını işlem yaparak bulalım . Farkı saat ve dakika olarak yazalım.

08:30

.....

08:55

-

.....

..... dakika

14:15

.....

14:50

-

.....

..... dakika



09:45

.....

10:15

-

.....

..... dakika

21:40

.....

22:30

-

.....

..... dakika



04:10

.....

05:35

-

.....

..... saat dakika

12:05

.....

16:30

-

.....

..... saat dakika



07:40

.....

09:25

-

.....

..... saat dakika

13:30

.....

18:10

-

.....

..... saat dakika

GÜN, HAFTA, AY

1.Etkinlik : Aşağıda verilen takvimi inceleyelim. Soruları cevaplayalım.

MAYIS						
Pt	Sa	Ça	Pe	Cu	Ct	Pz
				1	2	3
4	5	6	7	8	9	10
11	12	13	14	15	16	17
18	19	20	21	22	23	24
25	26	27	28	29	30	31

Yandaki takvim sayfası hangi aya aittir ?

Ayın ilk günü hangi gündür ?

Ayın son günü hangi gündür ?

Bu ay toplam kaç gündür ?

Bu ayda kaç tane çarşamba günü vardır ?

Bu ayda kaç tane tam hafta vardır ?

Bu ayda toplam kaç tane tatil günü vardır ?

Ayın 16. günü hangi gündür ?

Ayın 24. günü hangi gündür ?

Ayın 22'si cuma ise 3 gün sonrası hangi gündür ?

Ayın 12'si salı ise 4 gün öncesi hangi gündür ?

1.Etkinlik : Noktalı yerleri uygun şekilde dolduralım.

Dün	Bugün	Yarın
.....	Cuma



Dün	Bugün	Yarın
.....	Salı

Dün	Bugün	Yarın
Çarşamba



Dün	Bugün	Yarın
.....	Pazar

Dün	Bugün	Yarın
.....	Perşembe

Dün	Bugün	Yarın
Pazartesi

GÜN , HAFTA , AY , YIL

1.Etkinlik : Aşağıda verilen etkinlikleri yapalım.

Haftanın günlerini örnek-
teki gibi yazalım.



- | | |
|---------|----------|
| 1 . gün | |
| 2. gün | |
| 3. gün | çarşamba |
| 4. gün | |
| 5. gün | |
| 6. gün | |
| 7. gün | |

Ayları ve gün sayılarını
örnekteki gibi yazalım.

ocak	31
.....
.....
.....
.....
.....
.....
.....
.....
.....
.....

Noktalı yerleri uygun şekilde dolduralım.

- | | |
|-------------------------|------------------------|
| 1 saat dakikadır. | 1 gün saattir. |
| 1 hafta gündür. | 1 ay gündür. |
| 1 yıl aydır. | 1 yıl mevsimdir. |

Aşağıda mevsimler ve aylar ile ilgili noktalı yerleri uygun şekilde dolduralım.

İlkbahar
Mart
.....
.....

.....
.....
Temmuz
.....

.....
.....
.....
Kasım

.....
Aralık
.....
.....





ZAMANI ÖLÇÜ BİRİMLERİ ARASINDAKİ İLİŞKİLER



Aşağıda verilen soruları işlem yaparak cevaplayalım.

3 dakika kaç saniye
eder?

5 saat kaç dakika eder?

2 dakika 25 saniye kaç
saniye eder?4 dakika 36 saniye kaç
saniye eder?7 saat 14 dakika kaç
dakika eder?10 saat 48 dakika kaç
dakika eder?5 dakika 54 saniye kaç
saniye eder?

2 gün kaç saat eder?

9 gün kaç saat eder?

3 gün 12 saat kaç saat
eder?6 gün 7 saat kaç saat
eder?5 gün 17 saat kaç saat
eder?



ZAMANI ÖLÇÜ BİRİMLERİ ARASINDAKİ İLİŞKİLER



Aşağıda verilen soruları işlem yaparak cevaplayalım.

4 hafta kaç gün eder?

6 hafta 4 gün kaç gün eder?

10 hafta 6 gün kaç gün eder?

3 ay kaç gün eder?

6 ay 26 gün kaç gün eder?

Yaz mevsimi kaç gündür ?

2 yıl kaç gündür ?

3 yıl kaç hafta eder?

6 yıl 28 hafta kaç hafta eder?

4 yıl kaç ay eder?

7 yıl 8 ay kaç ay eder?

10 yıl 3 ay kaç ay eder?