

Adı :
Soyadı:

4. Sınıf
Matematik

Geometride Temel
Kavramlar-1

Düzlem: Yüzeyi düz olan sınırsız uzayabilen şekil. (cam, sıra, yazı tahtası, duvar)
Düzlem Parçası (Düzlemsel Şekil) : Düzlem üzerinde bulunan sınırlı şekillerdir.
Duvar düzlemdir. Duvarın üzerinde bulunan pano düzlem parçasıdır.

Düzlem ve eğri olan (düzlem olmayan) görselleri yazalım.



.....

.....

.....

.....



.....

.....

.....

.....



.....

.....

.....

.....

Görsellerdeki düzlem ve düzlem parçalarını söyleyelim.

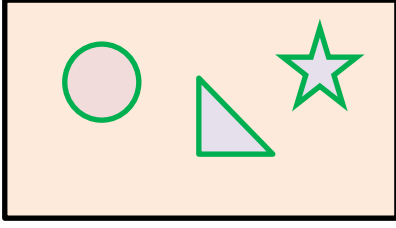


Adı :
Soyadı :

4. Sınıf
Matematik

Geometride Temel
Kavramlar-1

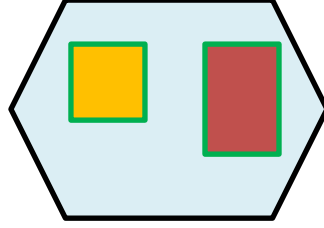
Görsellerdeki düzlem ve düzlem parçalarını yazalım.



Düzlem:.....

Düzlem Parçaları:

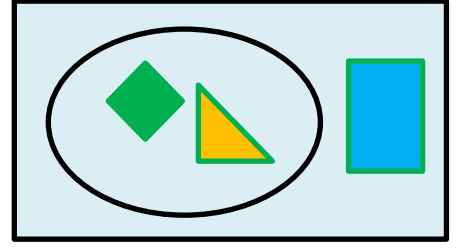
.....
.....



Düzlem:.....

Düzlem Parçaları:

.....
.....



Düzlem:.....

Düzlem Parçaları:

.....
.....

Tabloyu doldurunuz.

Duvardaki ayna	Düzlem	Düzlem Parçası
Duvardaki ayna		
Halıdaki motif		
Buzdolabının üst kapağı		
Öğretmen masasının üstü		

Duvardaki ayna	Düzlem	Düzlem Parçası
Fotoğraf çerçevesi		
Sınıfta bulunan yazı tahtası		
Bayrağımızdaki ay		
Sınıftaki camın yüzeyi		

Görseldeki düzlem ve düzlem parçalarını yazınız.



Düzlemler

.....
.....
.....

Düzlem Parçaları

.....
.....
.....