



"Çalışmadan, öğrenmeden, yorulmadan rahat yaşamının yollarını alışkanlık haline getirmiş milletler; evvela **haysiyetlerini**, sonra **hürriyetlerini** ve daha sonra da **istikballerini** kaybetmeye mahkumdurlar."

1. Soruyu üstteki söze göre yanıtlayınız.

1) Aşağıdaki **atasözlerinden** hangisi **Atatürk'ün** üstteki sözüyle ilgilidir?

- A) Dost, kara günde belli olur.
- B) Bedava sirke baldan tatlıdır.
- C) İşleyen demir pas tutmaz.
- D) Ummadığın taş, baş yarar.

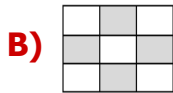
2) "Yüz" kelimesi aşağıdaki cümlelerden hangisinde farklı bir anlamda kullanılmıştır?

- A) Yüzüme güneş kremi sürdüm.
- B) Ali'nin yüzünde sivilce çıkmış.
- C) Bu işin olmayacağını yüz kere söyledim.
- D) Öğretmen yüzüme bir kalp çizdi.

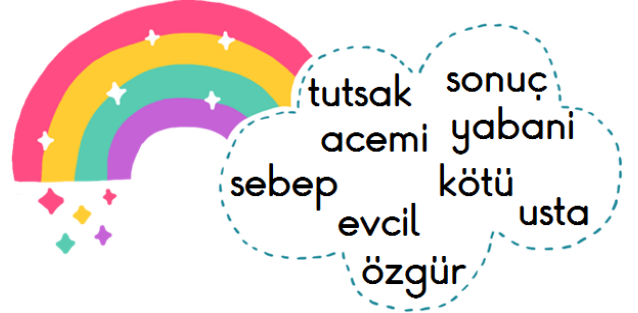
3)

eczane	ahtopot	dinozor
beyenmek	yalnız	eşşek
şoför	gaste	prences

Üstteki kelimelerden, yazılışları **doğru** olanları boyarsak nasıl bir görüntü çıkar?



4)



Yukarıdaki kelimeler **zıt anlamlılarıyla** eşleştirilirse, hangi kelime açıkta kalır?

- A) tutsak
- B) kötü
- C) evcil
- D) usta

5) Aşağıdaki cümlelerin hangisinde **-de** ekinin **kullanımı** ile ilgili hata yoktur?

- A) Şarkıda geçen sözler güzeldi.
- B) Ablam düğün de halay çekmiş.
- C) Banada hediye aldın mı?
- D) Onun kalbin de sorun varmış.

6)



Kardeşim bana kötü davranıyor  
..... ben ona iyi davranıyorum.

Yukarıdaki cümlelerin **anamlı** olması için noktalı alana hangisi gelmelidir?

- A) bundan dolayı
- B) bu yüzden
- C) bunun gibi
- D) buna rağmen

7) Aşağıdaki **eklerden** hangisi ismin **durumunu** belirtir?

- A) -lik
- B) -ler
- C) -siz
- D) -de

8) Aşağıdaki sayılardan hangisi **beş** basamaklı bir sayıdır?

- A) Yüz bin yüz
- B) Elli bin elli
- C) Dört bin üç
- D) Bin dokuz yüz

9)

A	=	365
B	=	A + 147
C	=	B - 169
D	=	1002 - C

Üstteki **ipuçlarına** göre, **D** aşağıdakilerden hangisidir?

- A) 576                      B) 659  
C) 715                      D) 806

10)



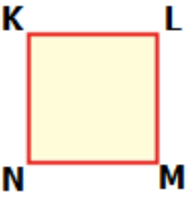
Topladığım **351** kg armudun  $\frac{5}{9}$ 'ini sattım. Geriye kaç kg armut kaldı?

- A) 156 kg                      B) 195 kg  
C) 234 kg                      D) 273 kg

11) **255** dakika, kaç **saat** kaç **dakika**dır?

- A) 2 saat 55 dakika      B) 3 saat 25 dakika  
C) 4 saat 15 dakika      D) 5 saat 5 dakika

12)

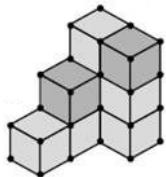


I	KM kenarı
II	MNKL karesi
III	KLM karesi
IV	K köşesi

Üstte **kareyle** ilgili isimlendirmelerden hangileri **doğrudur**?

- A) Yalnız **III**                      B) **I** ve **II**  
C) **I** ve **IV**                      D) **II** ve **IV**

13)



Yandaki **yapı** oluşturulurken kaç eş **küp** kullanılmıştır?

- A) 10 küp                      B) 9 küp  
C) 8 küp                      D) 7 küp

14) Aşağıdaki resimlerden hangisi **ışık kirliliği** ile ilgili **değildir**?15) Aşağıdaki cümlelerden hangisi **ışık kirliliği** ile ilgili **yanlış** bir bilgidir?

- A) Işık kirliliğini önlemenin bir yolu, ışığın gökyüzüne yönelmesini engellemektir.  
B) Gereksiz kullanılan ışık, kaynakların boşa harcanması demektir.  
C) Fazla ışığa maruz kalan bitkilerin mevsimleri karıştırdığı bilinmektedir.  
D) Işık kirliliği sayesinde deniz kaplumbağaları yollarını bulabilirler.

16)



Aile bütçemize katkıda bulunmak istiyorum.

**Ayşe**, aşağıdakilerden hangisini yaparak **aile bütçesine** katkıda bulunabilir?

- A) Okul eşyalarını özenli kullanarak  
B) Her teneffüs kantinden bir şey alarak  
C) Kaynakları gereksiz yere kullanarak  
D) İsteklerine daha çok değer vererek

17) Aşağıdaki cümlelerden hangisi kısaca **finansal okur yazarlığın** tanımıdır?

- A) Eğlence giderlerine öncelik vermektir.  
B) Gelirlerin akıllıca değerlendirilmesidir.  
C) Giderleri sürekli artırmaya çalışmaktır.  
D) Gelir gider dengesine uymamaktır.

# CEVAP ANAHTARI

- |      |       |
|------|-------|
| 1) C | 10) A |
| 2) C | 11) C |
| 3) A | 12) D |
| 4) B | 13) B |
| 5) A | 14) C |
| 6) D | 15) D |
| 7) D | 16) A |
| 8) B | 17) B |
| 9) B |       |