



ÖMER USLU ETKİNLİKLERİ

2. SINIF

KAZANIM

DEęERLENDİRME 2

Türkçe 13 soru

Hayat Bilgisi 15 soru


Matematik 13 soru

Toplam 41 soru

Palyaço

Bu tür palyaçolar abartılı hareketleri ile halk arasında en sevilen palyaçolardır. Makyajları da beyaz yüzlü palyaçolardan farklıdır. Onlar, yüzlerine beyaz boya sürmek yerine ten rengi boyalar sürerler. Makyajlarında gösterişli renkler tercih ederler. Makyajla ağızlarını kocaman, gözlerini büyük gösterirler. Burunlarını ise kırmızıya boyarlar.

Yukarıdaki metinde sözü edilen palyaço görseli aşağıdakilerden hangisidir?



2) Makas değmez, terzi biçmez.

Yukarıdaki bilmecede **toplam** kaç hece vardır?

- A) 10 B) 9 C) 8

3) Aşağıdakilerden hangisi cümle değildir?

- A) Sen de gelecek misin
B) Havalarda çok soğudu
C) Ödevlerinizi yarına kadar

4) "Sinema'ya ahmet, zeynep ve Elifle gittik." cümlesinde hatalı yazılan kelime sayısı kaç tanedir?

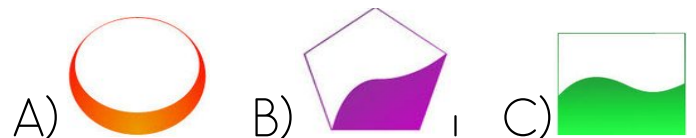
- A) 4 B) 3 C) 2

5) Hangi cümlede "konut" sözcüğünün eş anlamlısı kullanılmıştır?




- A) Akşam misafirlerimiz gelecek.
B) Yeni bir ev aldık.
C) Öğrenciler okulu çok özledi.



Cümlesinde hangi görselde verilen kelime "Nerede?" sorusunun cevabını vermektedir?



7) Aşağıdaki sözcüklerden hangisi sözlükte **en son**da yer alır?

- A)  penguen B)  timsah
C)  sincap

8) "Domates brokoli ve ıspanakta bol miktarda vitamin vardır."




Yukarıdaki cümlede hangi kelimedenden sonra virgül (,) kullanılmalıdır?

- A) Domates B) brokoli C) ıspanakta

9) Aşağıdaki cümlelerin hangisinde kesme işareti (') **yanlış** kullanılmıştır?

- A) Atatürk Selanik'te doğdu.
B) Sinemadan 14.45'te çıktık.
C) Kardeşim okul'a gitmedi.

10) Aşağıdaki kelimelerden hangisi satır sonuna **doğru** bir şekilde bölünmüştür?

- A)  B) 
C) 

Küçük ahtapot serin deniz suyunun içinde yüzüyordu()
Birden ne görmüş() Eyvah()
Kocaman bir dalga üzerine doğru geliyor()

11) Yukarıdaki cümlede () içine sırasıyla hangi noktalama işaretleri gelmelidir?

- A) (.) (?) (.) (.)
B) (.) (?) (!) (.)
C) (.) (.) (!) (?)



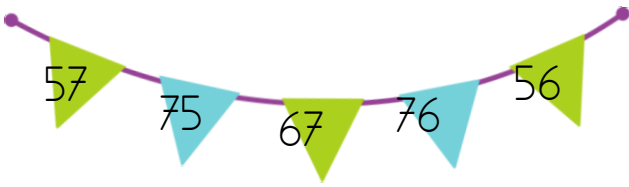
12) Yukarıdaki çarktaki kelimelerle kurallı bir cümle yapmak istersek sıralama nasıl olur?

- A) 2-3-4-1 B) 4-1-2-3
C) 2-4-1-3

Adlar	Tekil	Çoğul
kitaplar	<input checked="" type="checkbox"/>	<input type="checkbox"/>
saksı	<input checked="" type="checkbox"/>	<input type="checkbox"/>
ağaç	<input type="checkbox"/>	<input checked="" type="checkbox"/>

13) Tabloda yanlışlığın giderilmesi için hangi sözcüklerin **yer** **değiştirmesi** gerekir?

- A) kitaplar-saksı B) saksı-ağaç
C) kitaplar-ağaç



14)

Yukarıdaki sayılar, hangi seçenekte **büyükten küçüğe** doğru sıralanmıştır?

- A) 76 - 75 - 57 - 56 - 67
 B) 75 - 67 - 57 - 56 - 76
 C) 76 - 75 - 67 - 57 - 56

15) Aşağıda, bazı sayılar ile en yakın oldukları onluklar eşleştirilmiştir. Eşleştirmelerden hangisi **yanlıştır**?

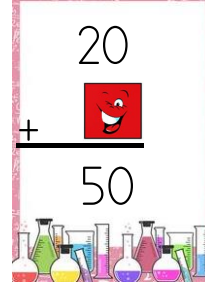
Sayı	→	En yakın onluk
A) 66	→	70
B) 45	→	40
C) 54	→	50



16)

Ece ve Ahmet'in tabelada gösterdikleri sayıların **farkı** kaçtır?

- A) 37
 B) 26
 C) 36



Yandaki toplama işleminde **verilmeyen toplananı** hangi işlemle buluruz?

17)

- A) 20 ile 50'yi toplarız.
 B) 50'den 20'yi çıkarırız.
 C) 50'den 50'yi çıkarırız.

18)

48

26

Yukarıdaki 4 ve 6 rakamlarının **basamak değerleri toplamı** kaç eder?

- A) 64 B) 46 C) 10

Bir fırın gün boyunca sabah 28 ekmek, öğlen 19 ekmek, akşam ise 25 ekmek satmıştır.

19)


Buna göre, fırında gün boyunca **toplam** kaç tane ekmek satılmıştır?

- A) 72 B) 53 C) 62

20) Aşağıdaki işlemlerin hangisinde "=" işaretinin kullanılması doğru **değildir**?

- A) $28 - 10 = 48 - 30$
 B) $17 + 6 = 20 + 3$
 C) $55 - 10 = 65 - 10$

21)



Yukarıdaki görseldeki verilene göre hangisi **yanlıştır**?

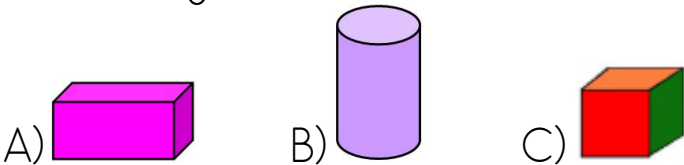
- A) Toplam üçgen sayısı 5'tir.
B) Toplam çember sayısı 9'dur.
C) Toplam kare sayısı 6'dır.




22) Şekildeki çocuk havuzunu Canan 26 defada, Kerem 35 defada, Zeynep 23 defada dolduruyor. Buna göre kabı **en büyük** olan çocuk hangisidir?

- A) Canan B) Kerem C) Zeynep

23) 1 dikdörtgen ve 2 dairenin birleşmesinden oluşan geometrik cisim hangisidir?



24)



Yukarıdaki geometrik şekillerin kenar sayılarının **toplamı** kaçtır?

- A) 8 B) 11 C) 12



25)

Yukarıdaki elmaların sayısı 2 düzineden 7 fazladır. Buna göre, **toplam** elma sayısı kaçtır?

- A) 27 B) 30 C) 31



Sinan, varili su ile doldurmak istiyor.

26)

Aşağıdakilerden hangisini kullanırsa varili daha **çabuk** doldurur?

- A) sürahi B) damacana
C) bardak

Kurallar hayatımızı düzenler.

Okul kuralları neden vardır?

27)

- A) Arkadaş bulmak için vardır.
- B) Dengeli beslenmek için vardır.
- C) Düzeni sağlamak için vardır.

Adres: Dolunay Mahallesi
Fikir Sokak No: 75

28)


Elif, evinin adresini yazarken hangi bilgiyi **eksik** yazmıştır?

- A) İl ve ilçe adını
- B) Kapı numarası
- C) Mahalle adı

29) Aşağıdakilerden hangisinin tamamı baba tarafından akrabamızdır?

- A) amca ↔ hala
- B) dayı ↔ teyze
- C) amca ↔ dayı

30) Aşağıdaki görsellerden hangisi sağlık çalışanı **değildir**?



Tuğçe'nin boyu uzamıştır.

31)

Tuğçenin aşağıdaki özelliklerinden hangisi değişmiştir?

- A) Kişisel özellikleri
- B) Fiziksel özellikleri
- C) Duygusal özellikleri

Ailemizle birlikte kurallar oluştururken kurallar nasıl belirlenmelidir?



32)

- A) Ailece hep birlikte belirlenmelidir.
- B) Ailenin en büyüğü belirlemelidir.
- C) Annemiz ve babamız tarafından belirlenmelidir.



Düzenli spor yapmalıyız.



Uykumuza dikkat etmeliyiz.



Meyveleri yıkamadan yemeliyiz.


33) Sağlıklı olabilmek için yukarıdakilerden hangisini **yapmamalıyız**?



34) Aşağıdaki ifadelerden hangisi **doğrudur**?

- A) Bir ayakkabımız varken bir ayakkabı daha almak ihtiyaçtır.
- B) Öncelikli olarak isteklerimizi almalıyız.
- C) Öncelikli olarak, ihtiyaçlarımızı almalıyız.

35) Aşağıdakilerden hangisi sağlık kuruluşu **değildir**?

- A)  B) 
- C) 

36) Hangi seçenekte temel bir ihtiyaçtan **bahsedilmemiştir**?

- A) Üşüyünce montumu giydim.
- B) Acıktığım için yemeğimi yedim.
- C) Hediye alınca çok mutlu oldum.

37) Hangi seçenekte taşıt türü diğerlerinden farklıdır?

- A) Uçak
- B) Vapur
- C) Helikopter

38) Aşağıdakilerden hangisi **doğrudur**?

- A) Okul servislerinde emniyet kemeri takmaya gerek yoktur.
- B) Toplu taşıma araçlarında şoförü rahatsız etmemeliyiz.
- C) Taşıtların önünden hızlıca geçmeliyiz.

39) Yolunu kaybeden Saruhan, adresini kimlerle **paylaşmamalıdır**?

- A) Polisle
- B) Güvenlik görevlisiyle
- C) Yoldan geçen tanımadığı birisiyle

40) Aşağıdaki bilgilerden hangisi **yanlıştır**?

- A) Mevsim şartlarına göre giyinmemeliyiz.
- B) Kışın kalın, yünlü ve koyu renkli giyinmeliyiz.
- C) Yazın ince ve açık renkli giyinmeliyiz.

41) Aşağıdakilerden hangisi sınıf içi etkinlikler yapılırken öğrencilerde bulunması **gerekten** değerlerden biridir?

- A) kıskanma
- B) sabırsız olma
- C) dayanışma