

ADI SOYADI:.....



DOĞRU
YANLIŞ

2. SINIF 24. HAFTA KAZANIM DEĞERLENDİRME ETKİNLİĞİ

1. "Dün akşam babam erkenden uyudu." cümlesinde hangi sorunun cevabı yoktur?

- A) Kim? B) Ne zaman? C) Nerede?

2. Aşağıdaki cümlelerin hangisinde "neşe" kelimesinin eş anlamlısı kullanılmıştır?

- A) Seni üzdüğüm için özür dilerim.
B) Karnelerini alan çocuklar sevinçle eve koştular.
C) Efe çok meraklı bir öğrenciydi.

3. Aşağıdaki kelimelerden hangisi çoğul bir kelimedir?

- A) çiçekler
B) soba
C) vazoz



4. "Teknolojik aletler işlerimizi" cümlesinde boş bırakılan yere hangisi getirilmelidir?

- A) kolaylaştırır B) zorlaştırır C) bitirmez

uzak

hayat




yaşlı

ihtiyar

yaşam


ırak

5. Yukarıdaki kelimeler eş anlamları ile eşleşince ortaya çıkan şekil hangisidir?

- A)  B)  C) 

6. Yandaki kalemleri dörderli gruplarsak kaç grup elde ederiz?

- A) 2
B) 4
C) 6



7. Eda ağaçtan 15 elma topladı, elmaları poşetlere beşerli paylaştırdı. Eda kaç poşet kullanmıştır?

- A) 3 B) 4 C) 5

8. $12-4=8$

$8-4=4$

$4-4=0$ işlemi hangi bölme işlemi gösterir?

- A) $12 \div 3$ B) $12 \div 8$ C) $12 \div 4$

9. 20 gofret 5 öğrenciye eşit olarak paylaştırıldı. Her öğrenciye kaç gofret düşer?

- A) 4 B) 5 C) 10



DİKKAT SORUSU

10. Efe elindeki küp şekerleri yandaki bardaklara ikişer tane atınca tüm şekerleri bitti. Efe'nin başta kaç şekeri vardı?

- A) 2 B) 4 C) 6



11. Milli bayramlarla ilgili verilen hangi ifade yanlıştır?

- A) Birlik ve beraberliğimizi sağlar.
B) Okulda törenlerle kutlanır.
C) Ailece bir araya geldiğimiz bayramlardır.

12. Hangisi milli bayramlarımızdan biri değildir?

- A) Ramazan Bayramı
B) Zafer Bayramı
C) Cumhuriyet Bayramı

13. Aşağıdaki bayramlardan hangisinde yeni güzel giysilerimizi giyip büyüklerimizin elini öperiz?

- A) Zafer Bayramı
B) Kurban Bayramı
C) Ulusal Egemenlik ve Çocuk Bayramı

14. Cumhuriyet Bayramı'nı hangi tarihte kutlarız?

- A) 29 Ekim B) 19 Mayıs C) 30 Ağustos

15. "Ramazan Bayramı gün, Kurban Bayramı ise gündür." cümlesinde boşluklara sırasıyla hangileri gelmelidir?

- A) 2 - 3
B) 3 - 4
C) 4 - 5



2. SINIF 24. HAFTA KAZANIM DEĞERLENDİRME ETKİNLİĞİ

CEVAP ANAHTARI

1. "Dün akşam babam erkenden uyudu." cümlesinde hangi sorunun cevabı yoktur?

- A) Kim? B) Ne zaman? Nerede?

2. Aşağıdaki cümlelerin hangisinde "neşe" kelimesinin zıt anlamlısı kullanılmıştır?

- A) Seni üzdüğüm için özür dilerim.

Karnelerini alan çocuklar sevinçle eve koştular.

- C) Efe çok meraklı bir öğrenciydi.

3. Aşağıdaki kelimelerden hangisi çoğul bir kelimedir?

çiçekler

B) soba

C) vazod

4. "Teknolojik aletler işlerimizi " cümlesinde boş bırakılan yere hangisi getirilmelidir?

- kolaylaştırır B) zorlaştırır C) bitirmez

uzak

hayat

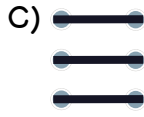
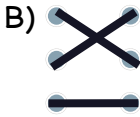
yaşlı

ihtiyar

yaşam

ırad

5. Yukarıdaki kelimeler eş anlamları ile eşleşince ortaya çıkan şekil hangisidir?




6. Yandaki kalemleri dörderli gruplarsak kaç grupte ederiz?

A) 2

4

C) 6



7. Eda ağaçtan 15 elma topladı, elmaları poşetlere beşerli paylaştırdı. Eda kaç poşet kullanmıştır?

3

B) 4

C) 5

8. $12-4=8$

$$8-4=4$$

$4-4=0$ işlemi hangi bölme işlemi gösterir?

A) $12 \div 3$

B) $12 \div 8$

$12 \div 4$

9. 20 gofret 5 öğrenciye eşit olarak paylaştırıldı. Her öğrenciye kaç gofret düşer?

4

B) 5

C) 10



DİKKAT SORUSU

10. Efe elindeki küp şekerleri yandaki bardaklara ikişer tane atınca tüm şekerleri bitti. Efe'nin başta kaç şekeri vardı?

A) 2

B) 4

6



11. Milli bayramlarla ilgili verilen hangi ifade yanlıştır?

A) Birlik ve beraberliğimizi sağlar.

B) Okulda törenlerle kutlanır.

Ailece bir araya geldiğimiz bayramlardır.

12. Hangisi milli bayramlarımızdan biri değildir?

Ramazan Bayramı

B) Zafer Bayramı

C) Cumhuriyet Bayramı

13. Aşağıdaki bayramlardan hangisinde yeni güzel giysilerimizi giyip büyüklerimizin elini öperiz?

A) Zafer Bayramı

Kurban Bayramı

C) Ulusal Egemenlik ve Çocuk Bayramı

14. Cumhuriyet Bayramı'nı hangi tarihte kutlarız?

29 Ekim

B) 19 Mayıs

C) 30 Ağustos

15. "Ramazan Bayramı gün, Kurban Bayramı ise gündür." cümlesinde boşluklara sırasıyla hangileri gelmelidir?

A) 2 - 3

3 - 4

C) 4 - 5

