



BÜTÜN - YARIM - ÇEYREK



Aşağıdaki resimleri uygun sözcüklerle eşleştiriniz.



BÜTÜN

YARIM

ÇEYREK



Aşağıda verilen cümlelerdeki noktalı yerleri kutulardaki ifadelerden uygun olanlarıyla doldurunuz.

bütün

4

2

yarım

1 bütün, tane çeyrekten oluşur.

8 yarım karpuz, 4 karpuz eder.

2 bütün elma, 4 elma eder.

8 çeyrek ekmek, bütün ekmek eder.

Aşağıdaki noktalı yerlere uygun sayıları yazınız.

3 bütün elma çeyrek elma eder.

2 bütün karpuz yarım karpuz eder.

4 çeyrek ekmek bütün ekmek eder.

4 yarım armut bütün armut eder.

8 yarım domates bütün domates eder.

12 çeyrek pizza bütün pizza eder.

4 çeyrek ekmek yarım ekmek eder.

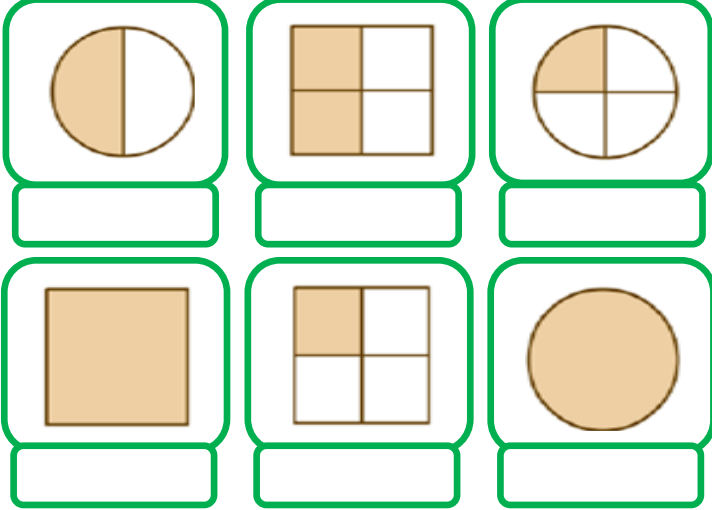
6 yarım pizza çeyrek pizza eder.



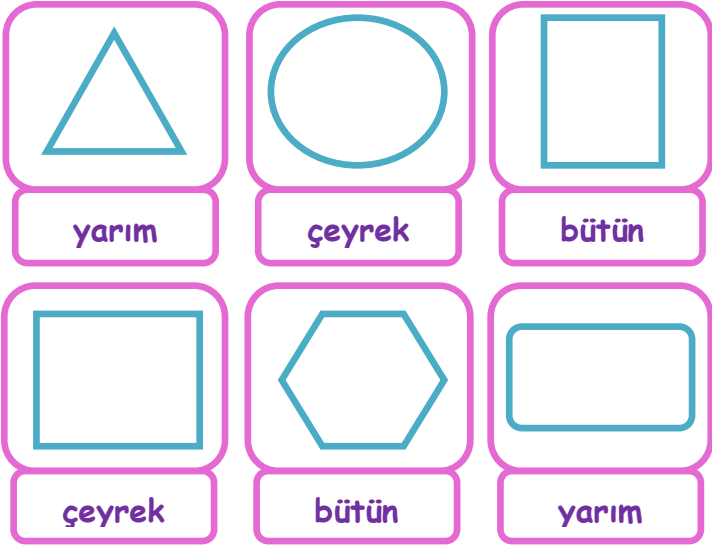
BÜTÜN -YARIM -ÇEYREK



- Aşağıda şekillerin boyalı bölümlerini "bütün, yarım, çeyrek" olarak altlarına yazınız.




- Aşağıda verilen şekillerin altlarında yazılan kısım çizdikten sonra boyayınız.



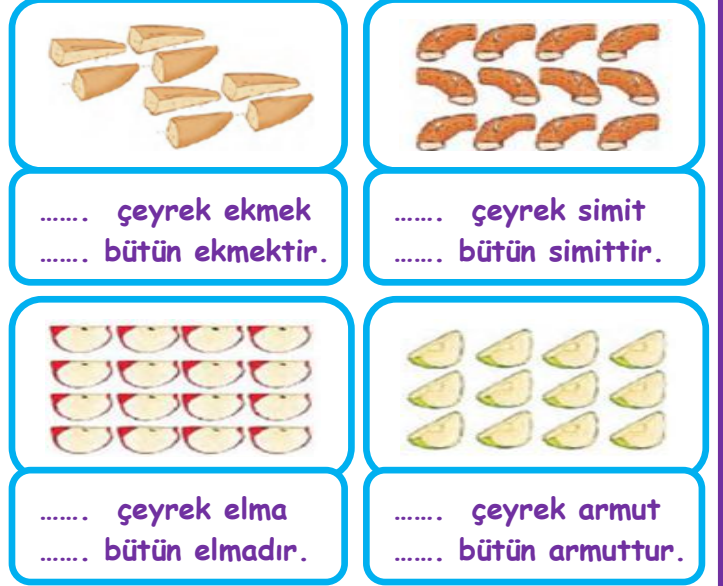
- Aşağıdaki verilen şekillerin çeyreğini ayırınız.



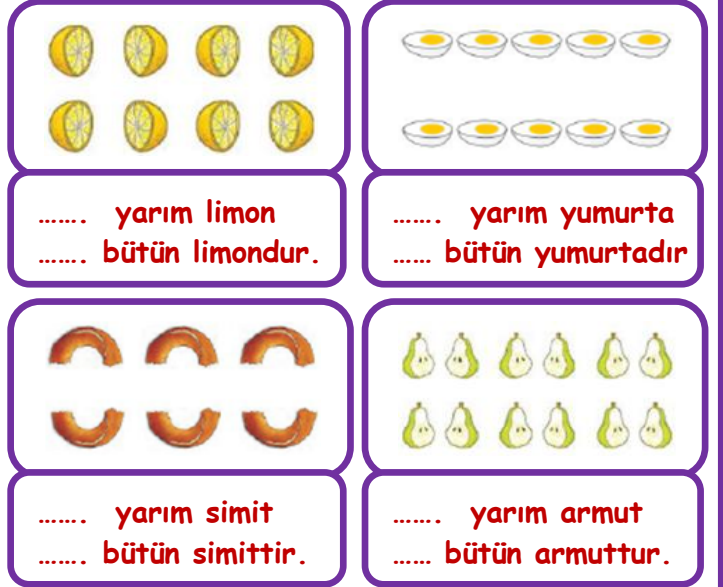
- Aşağıdaki verilen şekillerin yarısını ayırınız.



- Bir bütününde 4 çeyrek vardır. Buna göre aşağıda verilen çeyrekleri gruplayarak kaç bütün oluşturduğunu şekillerin altına yazınız.



- Bir bütününde 2 yarım vardır. Buna göre aşağıda verilen yarımaları gruplayarak kaç bütün oluşturduğunu şekillerin altına yazınız.



- Aşağıdaki şekillerde bütünlerin kaç yarım oluşturduklarını şekillerin altına yazınız.

