



BÜTÜN - YARIM - ÇEYREK

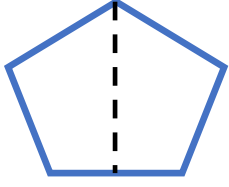


Bütün: Bir varlığın kendisine **bütün** denir.

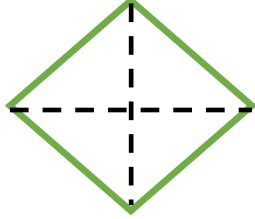
Yarım: Bütünün iki eş parçasından her birine **yarım** denir.

Çeyrek: Bütünün dört eş parçasından her birine **çeyrek** denir.


1-) Aşağıda verilen şekillerin istenen parçalarını boyayalım.



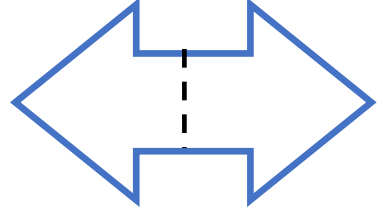
yarım



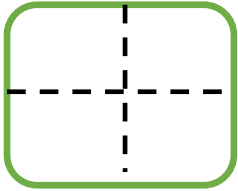
çeyrek



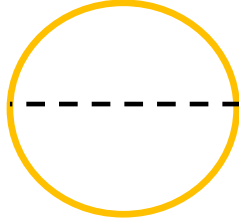
bütün



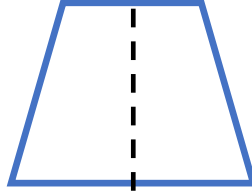
yarım



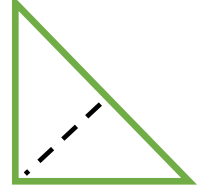
çeyrek



bütün





yarım



bütün

2-) Aşağıda verilmiş olan nesnelere bakarak **bütün** , **yarım** , **çeyrek** şeklinde eşleştirin.


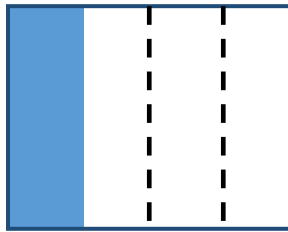



yarım

çeyrek

bütün

3-) Aşağıdaki şekillerin boyanan kadarını bütün, yarım, çeyrek şeklinde ismini altına yazınız.



.....

.....

.....


.....



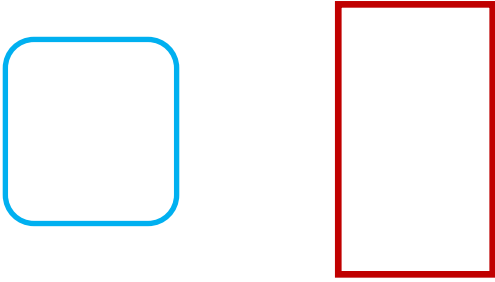
BÜTÜN- YARIM- ÇEYREK 2




1-) Aşağıdaki şekillerin **yarısını** boyayalım.




2-) Aşağıda verilen nesnelere **çeyreğini çizip** boyayalım.




3-) Aşağıdakilerden hangisi **ÇEYREKTİR ?**



4-) Aşağıdakilerden hangisi **yarımı** gösterir?



6-) Yarım olan varlıkların altlarındaki kutucuğu **yeşile**, bütün olan varlıkların altlarındaki kutucuğu **kırmızıya** boyayalım.





BÜTÜN - YARIM - ÇEYREK



Aşağıdaki resimleri uygun sözcüklerle eşleştiriniz.



BÜTÜN

YARIM

ÇEYREK



Aşağıda verilen cümlelerdeki noktalı yerleri kutulardaki ifadelerden uygun olanlarıyla doldurunuz.

bütün

4

2

yarım

1 bütün, tane çeyrekten oluşur.

8 yarım karpuz, 4 karpuz eder.

2 bütün elma, 4 elma eder.

8 çeyrek ekmek, bütün ekmek eder.

Aşağıdaki noktalı yerlere uygun sayıları yazınız.

3 bütün elma çeyrek elma eder.

2 bütün karpuz yarım karpuz eder.

4 çeyrek ekmek bütün ekmek eder.

4 yarım armut bütün armut eder.

8 yarım domates bütün domates eder.

12 çeyrek pizza bütün pizza eder.

4 çeyrek ekmek yarım ekmek eder.

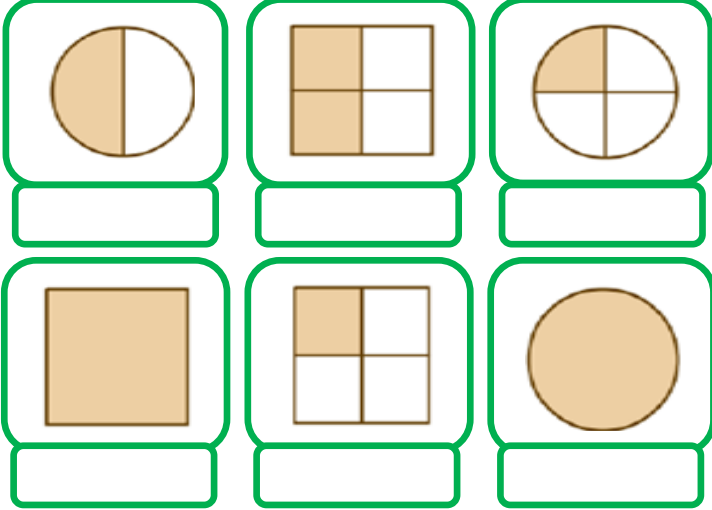
6 yarım pizza çeyrek pizza eder.



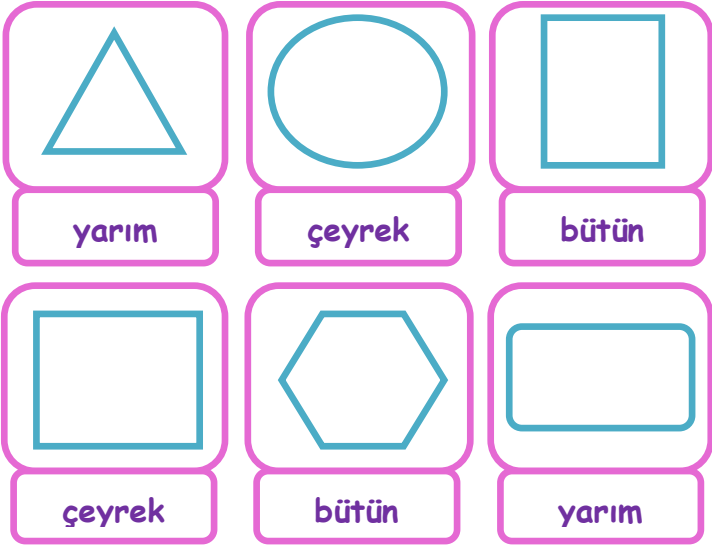
BÜTÜN -YARIM -ÇEYREK




- Aşağıda şekillerin boyalı bölümlerini "bütün, yarım, çeyrek" olarak altlarına yazınız.




- Aşağıda verilen şekillerin altlarında yazılan kısım çizdikten sonra boyayınız.



- Aşağıdaki verilen şekillerin çeyreğini ayırınız.



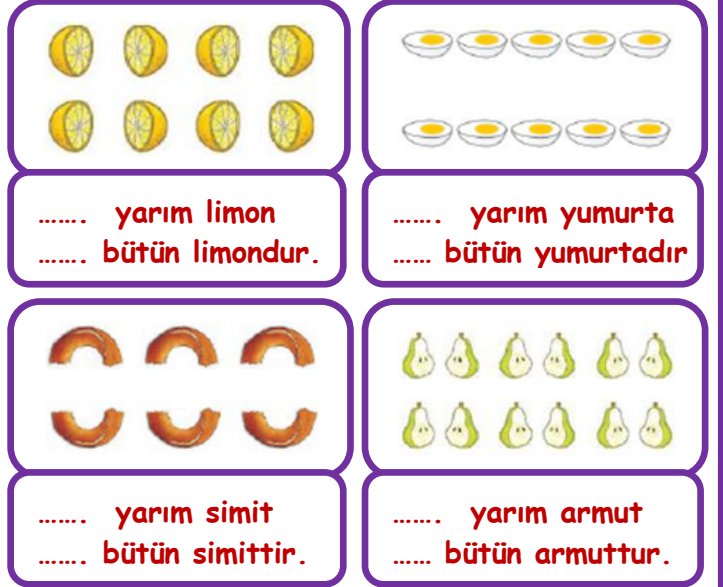
- Aşağıdaki verilen şekillerin yarısını ayırınız.



- Bir bütününde 4 çeyrek vardır. Buna göre aşağıda verilen çeyrekleri gruplayarak kaç bütün oluşturduğunu şekillerin altına yazınız.



- Bir bütününde 2 yarım vardır. Buna göre aşağıda verilen yarımları gruplayarak kaç bütün oluşturduğunu şekillerin altına yazınız.



- Aşağıdaki şekillerde bütünlerin kaç yarım oluşturduklarını şekillerin altına yazınız.

