



KARTALLAR

Kartal yavruları doğduktan sekiz, dokuz gün sonra dört kilogram, ağırlığa ulaşır. Kartal yavrularının doğduklarında rengi gridir. Dört yaşına kadar gri tüylere sahip olan kartal yavruları daha sonra ebeveynlerinin rengini almaya başlar. Afrika, Asya ve Avrupa kıtalarında 60'ın üzerinde kartal türleri bulunmaktadır.

Kartallar, eski yıllarda polislere ve ordulara yardım için kullanılmıştır. Kuş türleri içinde en uzun yaşayan canlılardır. Kartal türlerinin çoğunda dişi olan kartallar erkek olan kartallardan daha güçlü ve daha büyüktürler. Gökyüzünde en yüksekten uçan kuş türü kartallardır.

Not: İlk 3 soruyu metne göre cevaplayınız.

1) Kartallar ile ilgili hangi bilgi **yanlıştır**?

- A) Erkek olan kartallar dişi olan kartallardan daha güçlü ve daha büyüktürler.
 B) 60'dan fazla kartal türü bulunmaktadır.
 C) Kuş türleri içinde en uzun yaşayan canlılardır.


2) Gökyüzünde en yüksekten uçan kuş türü **hangisidir**?

- A) Karga B) Şahin C) Kartal

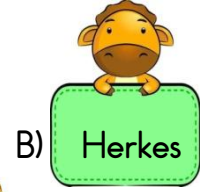
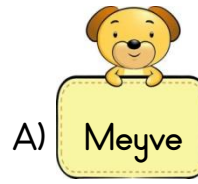
3) Kartallar, eski yıllarda kimlere yardım etmek için **kullanılmamıştır**?

- A) Polislere B) Çiftçilere
 C) Ordulara

4) Aşağıdaki hayvanların hangisinin adındaki harf sayısı "**pencere**" kelimesindeki harf sayısına eşittir?



5) Aşağıdaki tabelalarda yazılı olan kelimelerden hangisinin **yazımı yanlıştır**?



6) Aşağıda verilen deyimlerin hangisinde "**Davranış ve yetenekleriyle ilgi ve önem kazanmak**" anlamı vardır?





Otobüsteki yolcular balık istifi gibi dizilmişlerdi.

Yukarıdaki cümlede kullanılan "balık istifi" deyiminin anlamı aşağıdakilerden hangisidir?

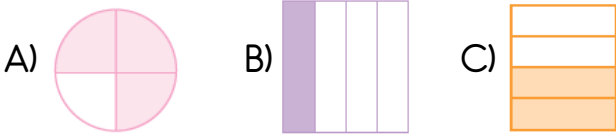
- A) Şaşırarak, telaşlanmak
- B) Çok sıkışık bir durumda olmak
- C) Önemsiz bir olayı büyütmek

8) Satranç() dama ve mangala oyununu Hakan()dan daha iyi oynarım.

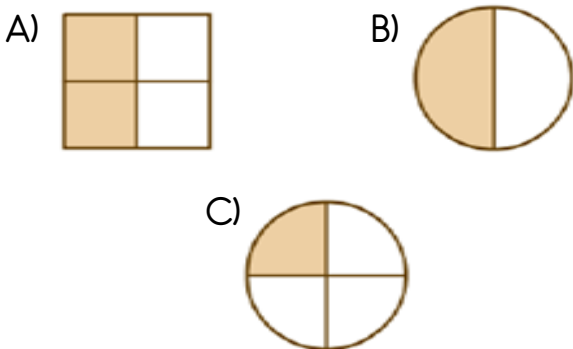
Yukarıdaki cümlede parantez ile belirtilen yerlere hangi noktalama işareti gelemez?

- A) Kesme işareti
- B) Virgül
- C) Ünlem


9) Aşağıda verilen şekillerden hangisinin çeyreği boyanmıştır?



10) Aşağıda verilen şekillerden hangisi yarımı ifade etmez?




11)



Yukarıda verilen yarım narlar kaç bütün nar oluşturmaktadır?

- A) 5
- B) 4
- C) 3

12)



Yukarıdaki verilen karpuzlardan kaç yarım karpuz elde ederiz?

- A) 4
- B) 8
- C) 16


13)



Yukarıda verilen simitlerden kaç bütün simit elde edebiliriz?

- A) 6
- B) 8
- C) 9

14)



Kadriye yukarıda verilen yarım pizzalardan kaç çeyrek pizza oluşturabilir?

- A) 16
- B) 24
- C) 32



15) Mert'in sınıfında 28 öğrenci vardır. Sınıftaki kız öğrencilerin sayısı, sınıfın çeyreğinden 6 fazladır. Bu sınıfta kaç kız öğrenci vardır?

- A) 13 B) 20 C) 36

16) Aşağıdaki görsellerden hangisinde dini bayramlarımız anlatmaktadır?

A)



B)



C)



17) Otuz gün oruç tuttuktan sonra kutlanılan bayram aşağıdakilerden hangisidir?

- A) Zafer Bayramı
B) Ramazan Bayramı
C) Kurban Bayramı

18) Dini gün ve bayramlarımızla ilgili olarak aşağıdakilerden hangisi doğrudur?

- A) Bayramlar tatil yapmak için kutlanılır.
B) Dini günler hediye olmak için kutlanılır.
C) Dini gün ve bayramlar sevgi, paylaşım ve dayanışma günleridir.

19)



Bu yıl halam ve amcamlarla birlikte bir kurban alıp bayramda kestik. Yakın akraba ve komşulara dağıttık.

Yukarıda anlatılan olay aşağıda verilen hangi bayramda gerçekleşmiştir?

- A) Nevruz Bayramı
B) Kurban Bayramı
C) Ramazan (Şeker) Bayramı

20) Aşağıdakilerden hangisini dini bayramlarda yaparız?

- A) Büyüklerimizi ziyaret ederiz.
B) Günün anlam ve önemini belirten konuşmalar yapılır.
C) Cadde ve sokaklar bayraklarla süslenir.

Cevap Anahtarı

1)A 2)C 3)B 4)A 5)C
6)A 7)B 8)C 9)B 10)C
11)A 12)B 13)A 14)C 15)A
16)C 17)B 18)C 19)B 20)A