



DİNİ BAYRAMLARIMIZ



Ramazan (Şeker) Bayramı ve Kurban Bayramı, kutladığımız **dinî bayramlardır**. Her aile, dinî bayramları kendi koşullarına göre kutlar. Ancak nasıl kutlanırsa kutlansın bazı şeyler hiç değişmez.

Dinî bayramlar; insanların yardımlaşma, dayanışma, yakınlaşma içinde oldukları günlerdir. Aile büyüklerine, akrabalara, hastalara, komşulara yapılan ziyaretler çok önemlidir. Bu ziyaretlerde misafirlere çeşitli yiyecekler, içecekler ikram edilir. Çocuklara harçlık, hediye verilir. Bunlar, bayram gelenekleridir ve çok güzel alışkanlıklardır.



Bayramınız
kutlu olsun



DİNİ BAYRAMLARIMIZ

RAMAZAN (ŞEKER) BAYRAMI

Ramazan Bayramınız
Kutlu Olsun..

Şeker gibi bir bayram geçirmeniz dileğiyle..



Ramazan ayı, oruç ayıdır ve bu ayda oruç tutulur. Ramazan ayının sonunda Ramazan (Şeker) Bayramı kutlanır. Ramazan ayında ihtiyacı olanlara, yoksullara yardım edilir. Böylelikle onların da güzel bir bayram geçirmeleri sağlanır.

Ramazan bayramlarının yanında Regaip Kandili, Miraç Kandili, Berat Kandili, Kadir Gecesi, Mevlit Kandili, Aşure Günü gibi dinî günlerimiz vardır. Bu günlerde dualar okunur; kandil simidi, lokma, helva, aşure dağıtılır. İnsanlar bu günlerde birbirlerini arar, birbirlerine iyi dileklerini ve dualarını iletirler.

www.mebders.com

KURBAN BAYRAMI

Kurban Bayramınız
Kutlu Olsun



Kurban Bayramı'nda maddi durumu iyi olanlar ibadet amacıyla koyun, keçi, deve veya sığır gibi hayvanlar keserler. Kesilen kurbanların etleri akrabalarla, komşularla ve ihtiyacı olanlarla paylaşılır. Yardım kurumlarına kurbanlıklar bağışlanır.

Kurban bayramlarının yanında kutladığımız dinî günler de vardır. Mevlit, Regaip, Miraç, Berat ve Kadir Gecesi dinî günlerdendir.

İşkender07 (İlköğül etkinlikleri)


• Aşağıda verilen cümlelerin doğru olanların başına "D" yanlış olanların başına "Y" yazınız.

- () Ramazan ve Kurban Bayramı olmak üzere 2 tane milli bayramımız vardır.
() Milli bayramlarda sınıflarımızı, okulumuzu ve sokaklarımızı süsleriz. Şiirler, resimler, oyunlar ve gösterilerle hazırlık yaparız.
() Milli bayramlarda bayram namazı için evimizin yakınındaki camiye gideriz.
() 23 Nisan Ulusal Egemenlik ve Çocuk Bayramı milli bayramımızdır.
() Dini bayramlarımızda yardıma muhtaç akraba ve komşularımıza yardım ederiz.
() Mevlit, Regaib, Miraç, Berat ve Kadir Gecesi kutladığımız milli bayram günlerindedir.
() Dini bayramlarımız toplumda birlik ve beraberliğimizi güçlendirir.
() Atatürk'ü Anma Gençlik ve Spor Bayramı çocuklara armağan edilmiştir.
() Kurban Bayramı'nın diğer adı "Şeker Bayramı"dır.
() Dinî bayramlardan önce evlerimizi özenle temizleriz.
() Kurban Bayramı'nda kurbanlık hayvanların etleri ihtiyacı olanlarla paylaşılır.

İskender TAS

• Aşağıda verilen çoktan seçmeli soruları cevaplayınız.

1-) Aşağıdaki bayramlardan hangisi Kurban Bayramını anlatmaktadır?



4-) Aşağıdakilerden hangisi Ramazan Bayramı'yla ilgili değildir?

- A) İhtiyacı olan yoksullara yardım edilir.
B) Bayram öncesinde oruç tutulur.
C) İbadet amacıyla kurban kesilir,

5-) Aşağıdakilerden hangisi dini bayramdır?

- A) Cumhuriyet Bayramı
B) Ramazan(Şeker) Bayramı
C) Zafer Bayramı

2-) "23 Nisan"da kutladığımız millî bayramı Atatürk kimlere armağan etmiştir?

- A) Gençlerimize
B) Ordumuza
C) Çocuklarımıza

3-) Aşağıdakilerden hangisi dinî bayramların özelliği değildir?

- A) Yardımlaşma günleridir.
B) Dayanışma günleridir.
C) Sınıflarımızı süsler, şarkılar söyleriz.

İskender07 (ilkökul etkinlikleri)
www.mebders.com

5-) Aşağıdaki görsellerden hangisi milli bayramlarımız anlatmaktadır?



ORGANLAR

Vücuttaki organlar kendi aralarında toplantı yapıyorlarmış. İlk konuşmayı ağız yapmış:

- Arkadaşlar, ben hep mide için çalışmaktan bıktım usandım. Besinleri değirmen gibi öğütüp duruyorum. O ise paşalar gibi oturup göndereceğim besinleri bekliyor. Ben artık gelen gıdaları çiğnemeyeceğim, demiş.

Diğer organlarda ağız, şikâyetinde haklı bulmuşlar. Söz sırası gözde imiş:

- Ben de mideden şikâyetçiyim. Ona gidecek besinleri seçmek gibi bir görevim yok artık. Başının çaresine baksın. Söz sırası dile gelmiş:

- Beni bir kapıcı gibi kullanıyor. Ona gidecek besinleri tadıyorum. Şayet beğenirsem gönderiyorum. Beğenmezsem kapı dışarı ediyorum.

Burun, el, ayak derken bütün organlar mideden şikâyetçi olmuşlar. Toplantının sonunda ise bundan böyle midenin isteklerini yerine getirmemeye karar vermişler. Dediklerini de yapmışlar. Ancak aradan çok bir zaman geçmemiş ki organlara bir hâller olmuş. Gözler bulanmaya, eller titremeye, ağız kurumaya, dişler çürümeye başlamış. İşte o zaman bütün organların birbiri için çalıştığını, birlik olmadan yaşamalarının mümkün olmadığını anlamışlar.



A-) Aşağıda verilen soruları metne göre cevaplayınız.

1-) Organlar kendi aralarında **ne** yapıyorlarmış?

2-) Besinleri değirmen gibi öğütüp gelen gıdaları çiğneyen organ **kimdir**?

3-) Organlardan dil, **neden** mideden şikâyet etmektedir?

4-) Toplantının sonunda organlar **nasıl** bir karar almışlar?

5-) Organlar görevlerini yerine getiremeyince **neyi** anlamışlar?

www.mebders.com

1) İlk konuşmayı hangi organ yapmıştır?

- A) Mide
- B) Göz
- C) Ağız

B-) Doğru olanı işaretleyelim.

2) Organların hepsi kimden şikâyetçidir?

- A) Mide
- B) Ağız
- C) Dil

3) Metnin ana düşüncesi nedir?

- A) En önemli organ midedir.
- B) Şikâyetlerimizi söylemeliyiz.
- C) Yardımlaşma ve dayanışma içerisinde yaşamalıyız.

TÜRKÇE DERSİ ETKİNLİK ÇALIŞMALARI

Aşağıda kutucuklarda görseller verilmiştir. Kutucuklara sırasıyla görseli verilen kelimeyi kelimedeki harf sayısı, sesli harf ve sessiz harfleri yazınız.



Kelime:
Harf sayısı:
Sesli harfler:
Sessiz harfler:



Kelime:
Harf sayısı:
Sesli harfler:
Sessiz harfler:



Kelime:
Harf sayısı:
Sesli harfler:
Sessiz harfler:



Kelime:
Harf sayısı:
Sesli harfler:
Sessiz harfler:



Kelime:
Harf sayısı:
Sesli harfler:
Sessiz harfler:



Kelime:
Harf sayısı:
Sesli harfler:
Sessiz harfler:



Kelime:
Harf sayısı:
Sesli harfler:
Sessiz harfler:



Kelime:
Harf sayısı:
Sesli harfler:
Sessiz harfler:

Aşağıdaki kutucuklarda görseller verilmiştir. Kutucuklara sırasıyla görsellerdeki kelimeyi, kelimedeki hece sayısını ve görseli oluşturan kelimenin hecelenişini yazınız.



Kelime:
Hece sayısı:
Hecelere ayrılışı:



Kelime:
Hece sayısı:
Hecelere ayrılışı:



Kelime:
Hece sayısı:
Hecelere ayrılışı:



Kelime:
Hece sayısı:
Hecelere ayrılışı:



Kelime:
Hece sayısı:
Hecelere ayrılışı:



Kelime:
Hece sayısı:
Hecelere ayrılışı:



Kelime:
Hece sayısı:
Hecelere ayrılışı:



Kelime:
Hece sayısı:
Hecelere ayrılışı:

TÜRKÇE DERSİ ETKİNLİK ÇALIŞMALARI

Aşağıdaki cümlelerde yay ayrıç ile gösterilen yerlere uygun noktalama işaretlerini koyunuz.

Ege () Ali () Esila ve Buğlem 2-A sınıfının öğrencileridir.

Yaşasın () hafta sonu dayım geliyor ()

Bize ne zaman geleceksin ()

Öğretmenimi ve okulumu çok seviyorum ()

Oleyy () Yarışmayı biz kazandık ()


Bazı çiçekleri çok severim: papatya () gül () lale() zambak gibi

Kuzenim () kitap okumayı çok sevdiği için hikayeler aldı ()

Ödevlerini zamanında yaptın mı ()

Ali () nin yeni aldığı çanta çok güzelmiş ()

Pazardan elma () armut () portakal aldık ()



Aşağıdaki cümlelerde uygun yerlere nokta (.) koyunuz.

Dr Bahar Hanım'a çiçek aldık.

İlkokula 17 09 2015'te başladım.

Sınavda 1 olduğum için bani tebrik ettiler.

Yarın saat 14 30'da buluşalım.

Mahkemede Av Osman Bey'i gördük.

6 katlı binanın, 4 katında oturuyoruz.

Sınıfta önden 2 sırada oturuyorum.

TÜRKÇE DERSİ ETKİNLİK ÇALIŞMALARI

Aşağıda verilen özel adlara getirilen ekleri kesme işareti kullanarak, doğru şekilde ayırınız.

Aynura



Akdenize



İstanbulda



Tuz Gölünde



Mustafada



Antalyadan



Erciyes Dağının



Türkiyeyi



Karabaşın



Fatmaya



Aşağıdaki cümlelerde, büyük harflerin kullanımıyla ilgili hatalar yapılmıştır. Bu hataları düzelterek örnekteki gibi yazınız.

pazartesi günü gezmeye gideceğiz.



Pazartesi

Müzik dersinde istiklal marşını söyledik.



ramazan bayramında dedemi ziyaret ettik.



Mustafa Kemal Atatürk selanikte doğdu.



TBMM 23 nisan 1920'de kurulmuştur.



Kedim tekiri veterinerine götürdük





BÜTÜN - YARIM - ÇEYREK

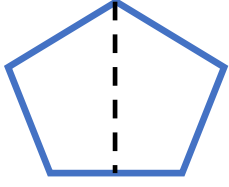


Bütün: Bir varlığın kendisine **bütün** denir.

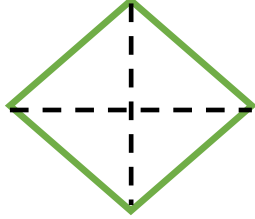
Yarım: Bütünün iki eş parçasından her birine **yarım** denir.

Çeyrek: Bütünün dört eş parçasından her birine **çeyrek** denir.


1-) Aşağıda verilen şekillerin istenen parçalarını boyayalım.



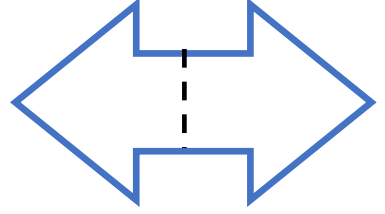
yarım



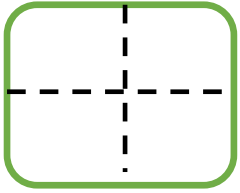
çeyrek



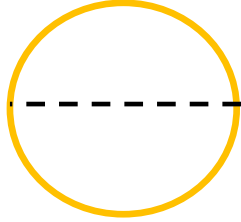
bütün



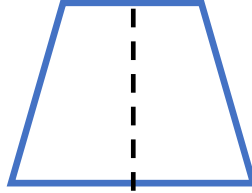
yarım



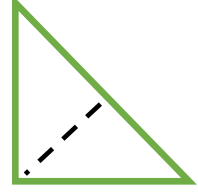
çeyrek



bütün





yarım



bütün

2-) Aşağıda verilmiş olan nesnelere bakarak **bütün** , **yarım** , **çeyrek** şeklinde eşleştirin.


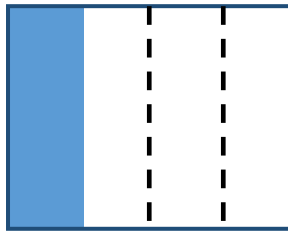



yarım

çeyrek

bütün

3-) Aşağıdaki şekillerin boyanan kadarını bütün, yarım, çeyrek şeklinde ismini altına yazınız.



.....

.....

.....


.....



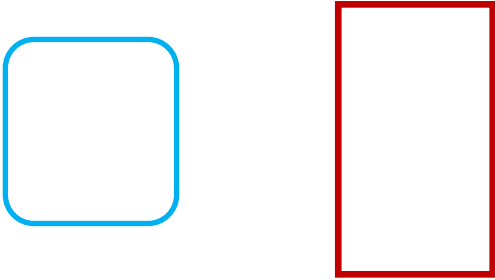
BÜTÜN- YARIM- ÇEYREK 2




1-) Aşağıdaki şekillerin **yarısını** boyayalım.




2-) Aşağıda verilen nesnelere **çeyreğini çizip** boyayalım.






3-) Aşağıdakilerden hangisi **ÇEYREKTİR ?**



4-) Aşağıdakilerden hangisi **yarımı** gösterir?



6-) Yarım olan varlıkların altlarındaki kutucuğu **yeşile**, bütün olan varlıkların altlarındaki kutucuğu **kırmızıya** boyayalım.





BÜTÜN - YARIM - ÇEYREK



Aşağıdaki resimleri uygun sözcüklerle eşleştiriniz.



BÜTÜN

YARIM

ÇEYREK



Aşağıda verilen cümlelerdeki noktalı yerleri kutulardaki ifadelerden uygun olanlarıyla doldurunuz.

bütün

4

2

yarım

1 bütün, tane çeyrekten oluşur.

8 yarım karpuz, 4 karpuz eder.

2 bütün elma, 4 elma eder.

8 çeyrek ekmek, bütün ekmek eder.

Aşağıdaki noktalı yerlere uygun sayıları yazınız.

3 bütün elma çeyrek elma eder.

2 bütün karpuz yarım karpuz eder.

4 çeyrek ekmek bütün ekmek eder.

4 yarım armut bütün armut eder.

8 yarım domates bütün domates eder.

12 çeyrek pizza bütün pizza eder.

4 çeyrek ekmek yarım ekmek eder.

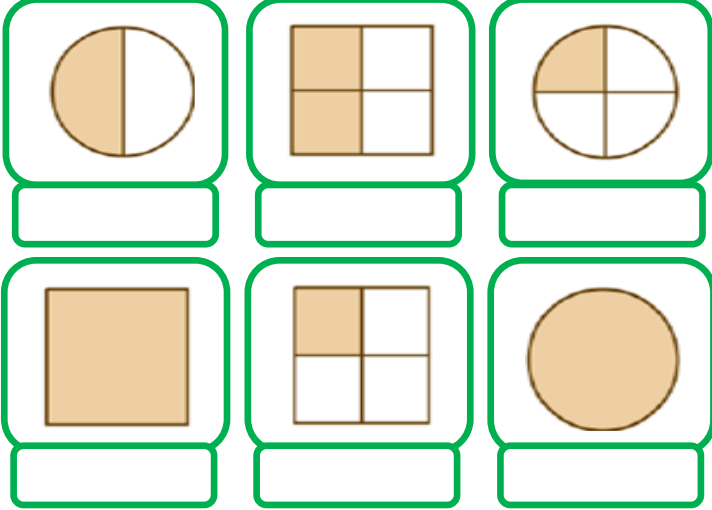
6 yarım pizza çeyrek pizza eder.



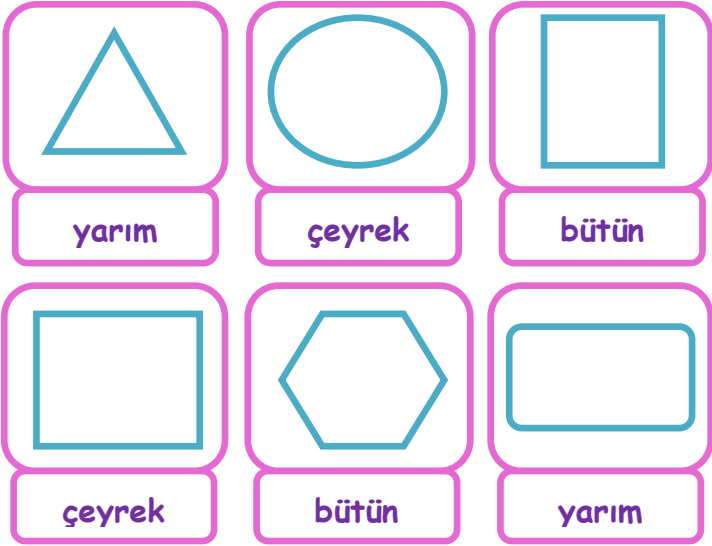
BÜTÜN -YARIM -ÇEYREK




- Aşağıda şekillerin boyalı bölümlerini "bütün, yarım, çeyrek" olarak altlarına yazınız.




- Aşağıda verilen şekillerin altlarında yazılan kısım çizdikten sonra boyayınız.



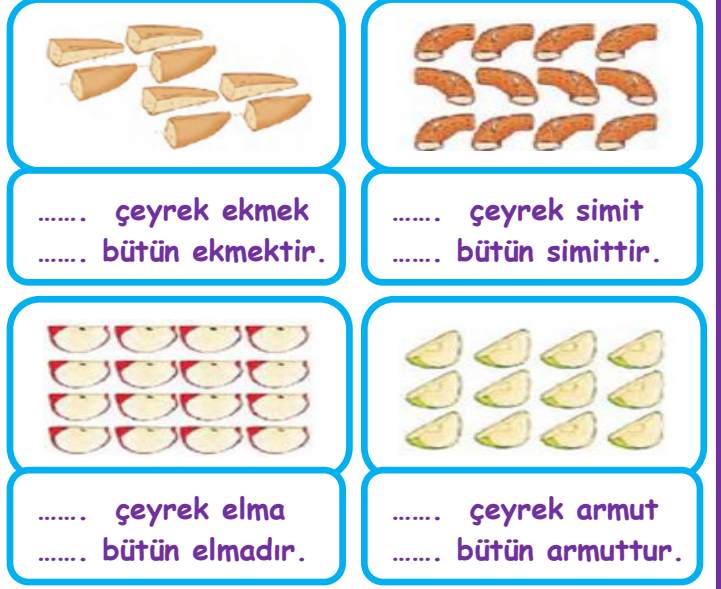
- Aşağıdaki verilen şekillerin çeyreğini ayırınız.



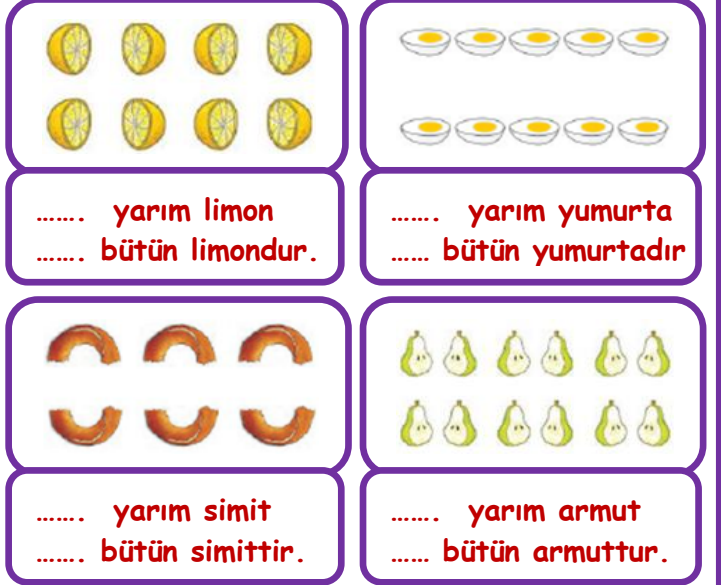
- Aşağıdaki verilen şekillerin yarısını ayırınız.



- Bir bütününde 4 çeyrek vardır. Buna göre aşağıda verilen çeyrekleri gruplayarak kaç bütün oluşturduğunu şekillerin altına yazınız.



- Bir bütününde 2 yarım vardır. Buna göre aşağıda verilen yarımaları gruplayarak kaç bütün oluşturduğunu şekillerin altına yazınız.



- Aşağıdaki şekillerde bütünlerin kaç yarım oluşturduklarını şekillerin altına yazınız.



KESİR PROBLEMLERİ 1

1-) Maysa'nın 16 tane elması vardır. Bu elmaların çeyreğini ablası Bulut'a veriyor. Maysa'nın geriye kaç elması kalmıştır?



Cevap:



Kukuli yukarıdaki muzların çeyreğini yediğine göre kaç muz yemiştir?



Cevap:

3-) Arı Maya sabah 8 yarım çita bal akşam ise 8 çeyrek çita bal yapmıştır. Arı Maya bir günde kaç bütün çita bal yapmıştır?



Cevap:

4-) Kral Şakir'in 2 düzine kalemi vardır. Bu kalemlerin çeyreğini arkadaşları ile paylaşıyor. Geriye kaç kalemi kalmıştır?



Cevap:

5-) Fil Necati sabah 8 çeyrek dürüm, öğlen 10 yarım dürüm, akşam ise 5 bütün dürüm yemiştir. Fil Necati bir günde kaç bütün dürüm yemiştir?



Cevap:

6-)



Nasrettin Hoca yukarıda verilen çeyrek elmaları elde edebilmek için kaç bütün elma kesmiştir?



Cevap:

7-) Elif'in sınıfında 16 öğrenci vardır. Sınıfın yarısı kız öğrencidir. Kız öğrencilerin çeyreği gözlüklüdür. Elif'in sınıfında kaç tane gözlüklü kız öğrenci vardır?



Cevap:

8-) Maşa 2 deste gül topluyor. Topladığı gülleri vazoya koyuyor. Vazodaki güllerin yarısı solduğuna göre sağlam kaç gül kalmıştır?



İskender07

Cevap:

KESİR PROBLEMLERİ 2

1-) Koca Ayı 10 yaşındadır. Maşa'nın yaşı ise Koca Ayı'nın yaşının **yarısı** kadardır. İkisinin yaşları toplamı kaçtır?



Cevap:

2-)



Remzi bir tencere dolmaya yukarıdaki yarım limonları sıkmıştır. Remzi kaç tane bütün limon kullanmıştır?



Cevap:

3-) Tanju marketten aldığı **3 düzine** gofretin **2 destesini** yedi. Kalan gofretin çeyreğini arkadaşlarına dağıttı. Arkadaşlarına kaç gofret dağıtmıştır?



Cevap:

4-)



Mandalina yukarıda verilen bütün karpuzları **yarım** haline getirip hepsini arkadaşlarına dağıtıyor. Kaç arkadaşına dağıtmıştır?



Cevap:

www.mebders.com

5-) Garfield oltasıyla 24 tane balık tutmuştur. Bu balıkların **yarısı** çipura balığıdır. Kalan balıkların ise **çeyreği** levreklerdir. Garfield kaç levrek tutmuştur?



Cevap:

6-) Akıllı Tavşan Momo tarlasından **2 deste** havuç toplamıştır. Bu havuçlardan **16 çeyrek** ve **10 yarım** havucu yediğine göre geriye kaç havucu kalmıştır?




Cevap:

7-) Doru çiftlikteki saman balyalarının çeyreğini yemiştir. Doru 9 balya saman yediğine göre çiftlikte kaç saman balyası vardır?



Cevap:

8-)



Keloğlan yukarıda verilen yarım ve çeyrek simitleri yemiştir. Kaç bütün simit yemiştir?



Cevap:

İskender07 (İlkokul etkinlikleri)

İskender07



KARTALLAR

Kartal yavruları doğduktan sekiz, dokuz gün sonra dört kilogram, ağırlığa ulaşır. Kartal yavrularının doğduklarında rengi gridir. Dört yaşına kadar gri tüylere sahip olan kartal yavruları daha sonra ebeveynlerinin rengini almaya başlar. Afrika, Asya ve Avrupa kıtalarında 60'in üzerinde kartal türleri bulunmaktadır.

Kartallar, eski yıllarda polislere ve ordulara yardım için kullanılmıştır. Kuş türleri içinde en uzun yaşayan canlılardır. Kartal türlerinin çoğunda dişi olan kartallar erkek olan kartallardan daha güçlü ve daha büyüktürler. Gökyüzünde en yüksekten uçan kuş türü kartallardır.

Not: İlk 3 soruyu metne göre cevaplayınız.

1) Kartallar ile ilgili hangi bilgi **yanlıştır**?

- A) Erkek olan kartallar dişi olan kartallardan daha güçlü ve daha büyüktürler.
 B) 60'dan fazla kartal türü bulunmaktadır.
 C) Kuş türleri içinde en uzun yaşayan canlılardır.


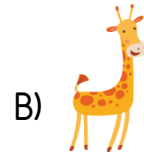
2) Gökyüzünde en yüksekten uçan kuş türü **hangisidir**?

- A) Karga B) Şahin C) Kartal

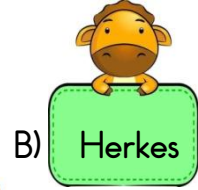

3) Kartallar, eski yıllarda kimlere yardım etmek için **kullanılmamıştır**?

- A) Polislere B) Çiftçilere
 C) Ordulara

4) Aşağıdaki hayvanların hangisinin adındaki harf sayısı "**pencere**" kelimesindeki harf sayısına eşittir?



5) Aşağıdaki tabelalarda yazılı olan kelimelerden hangisinin **yazımı yanlıştır**?



6) Aşağıda verilen deyimlerin hangisinde "**Davranış ve yetenekleriyle ilgi ve önem kazanmak**" anlamı vardır?





7) Otobüsteki yolcular balık istifi gibi dizilmişlerdi.

Yukarıdaki cümlede kullanılan "balık istifi" deyiminin anlamı aşağıdakilerden hangisidir?

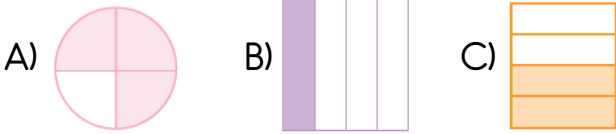
- A) Şaşırarak, telaşlanmak
- B) Çok sıkışık bir durumda olmak
- C) Önemsiz bir olayı büyütme

8) Satranç() dama ve mangala oyununu Hakan()dan daha iyi oynarım.

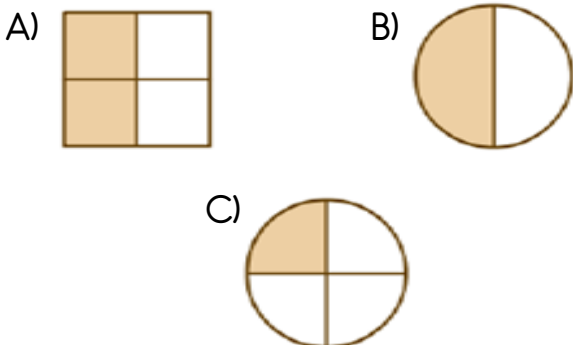
Yukarıdaki cümlede parantez ile belirtilen yerlere hangi noktalama işareti gelemez?

- A) Kesme işareti
- B) Virgül
- C) Ünlem


9) Aşağıda verilen şekillerden hangisinin çeyreği boyanmıştır?



10) Aşağıda verilen şekillerden hangisi yarımı ifade etmez?




11)



Yukarıda verilen yarım narlar kaç bütün nar oluşturmaktadır?

- A) 5
- B) 4
- C) 3

12)



Yukarıdaki verilen karpuzlardan kaç yarım karpuz elde ederiz?

- A) 4
- B) 8
- C) 16


13)



Yukarıda verilen simitlerden kaç bütün simit elde edebiliriz?

- A) 6
- B) 8
- C) 9

14)



Kadriye yukarıda verilen yarım pizzalardan kaç çeyrek pizza oluşturabilir?

- A) 16
- B) 24
- C) 32



15) Mert'in sınıfında 28 öğrenci vardır. Sınıftaki kız öğrencilerin sayısı, sınıfın çeyreğinden 6 fazladır. Bu sınıfta kaç kız öğrenci vardır?

- A) 13 B) 20 C) 36

16) Aşağıdaki görsellerden hangisinde dini bayramlarımız anlatmaktadır?

A)



B)



C)



17) Otuz gün oruç tuttuktan sonra kutlanılan bayram aşağıdakilerden hangisidir?

- A) Zafer Bayramı
B) Ramazan Bayramı
C) Kurban Bayramı

18) Dini gün ve bayramlarımızla ilgili olarak aşağıdakilerden hangisi doğrudur?

- A) Bayramlar tatil yapmak için kutlanılır.
B) Dini günler hediye olmak için kutlanılır.
C) Dini gün ve bayramlar sevgi, paylaşım ve dayanışma günleridir.

19)



Bu yıl halam ve amcamlarla birlikte bir kurban alıp bayramda kestik. Yakın akraba ve komşulara dağıttık.

Yukarıda anlatılan olay aşağıda verilen hangi bayramda gerçekleşmiştir?

- A) Nevruz Bayramı
B) Kurban Bayramı
C) Ramazan (Şeker) Bayramı

20) Aşağıdakilerden hangisini dini bayramlarda yaparız?

- A) Büyüklerimizi ziyaret ederiz.
B) Günün anlam ve önemini belirten konuşmalar yapılır.
C) Cadde ve sokaklar bayraklarla süslenir.

Cevap Anahtarı

1)A 2)C 3)B 4)A 5)C
6)A 7)B 8)C 9)B 10)C
11)A 12)B 13)A 14)C 15)A
16)C 17)B 18)C 19)B 20)A