
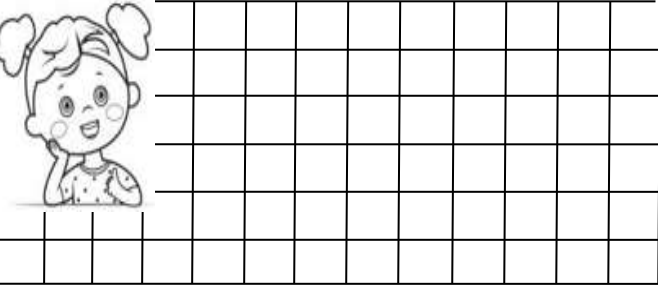


ÇIKARMA İŞLEMİ PROBLEMLER


1. Kümesteki 8 tavuktan 3 tanesi dışarı çıktı. Kümeste kaç tane tavuk kalmıştır ?




2. Tabakta 7 bisküvi vardı. Nuray bisküvilerin 4 tanesini yedi. Tabakta kaç tane bisküvi kalmıştır?




3. Kutuda toplam 10 tane yeşil ve sarı boncuk var. Boncukların 5 tanesi yeşil olduğuna göre kutuda kaç tane sarı boncuk vardır?



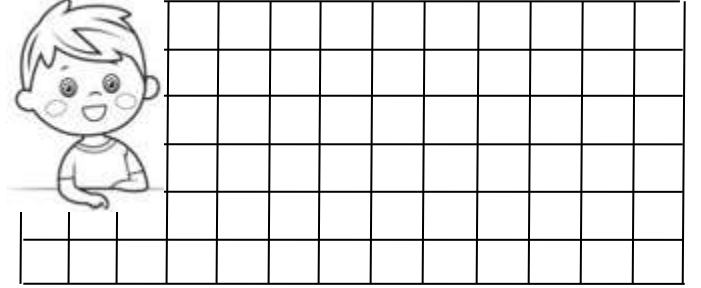
4. Ozan'ın 13 lirası vardı. Ozan kırtasiyeden 13 liraya defter aldı. Ozan'ın kaç lirası kaldı?




5. Demet 9 yaşındadır. Sıla ise Demet'ten 3 yaş küçüktür. Sıla kaç yaşındadır?




6. Fatma'nın 10 tane tokası vardı. Fatma tokalarının 2 tanesini kaybetmiş. Fatma'nın kaç tane tokası kalmıştır?



7. Ağaçta 6 tane kuş vardı. Kuşların tamamı uçtu. Ağaçta kaç tane kuş kalmıştır ?




8. Buzdolabında 11 tane yumurta vardı. Annem yumurtaların 4 tanesini kek yaparken kullandı. Geriye kaç tane yumurta kalmıştır?

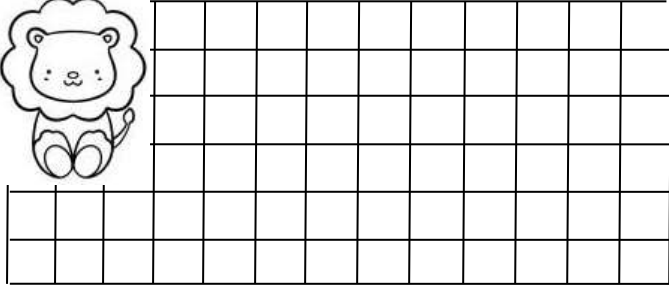


ÇIKARMA İŞLEMİ PROBLEMLER

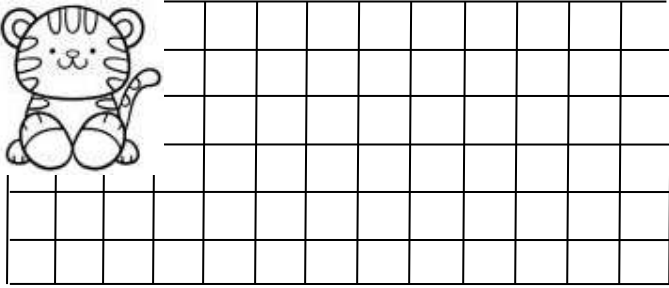
1. Bahçede 9 tane çocuk var. Çocuklardan 4 tanesi erkek olduğuna göre kaç tanesi kızdır?



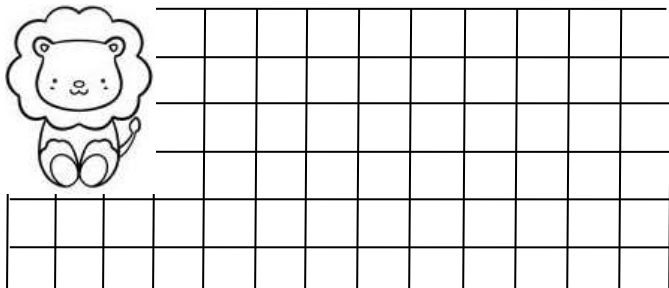
2. Kırmızı arabada 5 kişi vardı. Arabadan hepsi indi. Arabada kaç kişi kalmıştır?




3. Hülya'nın 7 tane hikaye kitabı vardı. 2 tanesini Suna'ya verdi. Hülya'nın kaç tane hikaye kitabı kaldı ?




4. Fatih 8 yaşındadır. Erkan ise Fatih'ten 3 yaş küçüktür. Erkan kaç yaşındadır ?




5. Sepetteki 10 elmanın 4 tanesini yedik. Sepette kaç tane elma kalmıştır?



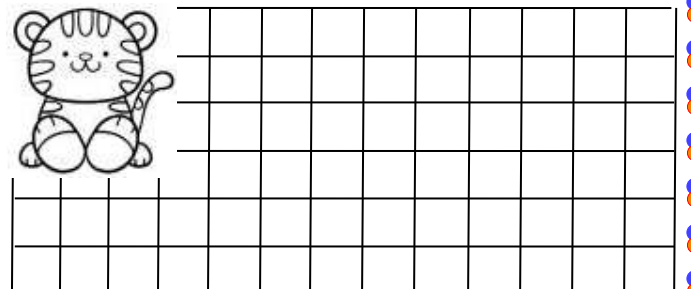
6. Otobüs durağında 12 kişi vardı. 7 kişi otobüse bindi. Durakta kaç kişi kalmıştır ?



7. Doğan'ın 11 tane bilyesi vardı. Bilyelerin 5 tanesini Vedat'a verdi. Doğan'ın kaç tane bilyesi kaldı?




8. Arda 14 sayfa olan hikaye kitabından 6 sayfa okumuş. Geriye okunacak kaç sayfa kalmıştır?

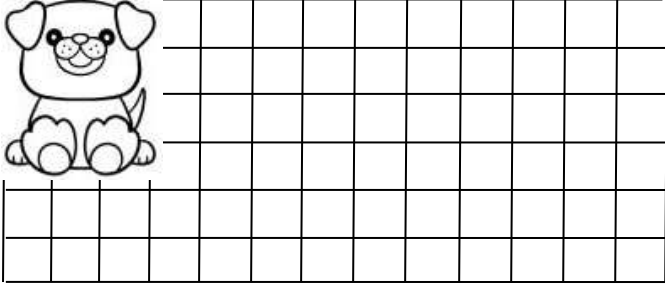


ÇIKARMA İŞLEMİ PROBLEMLER

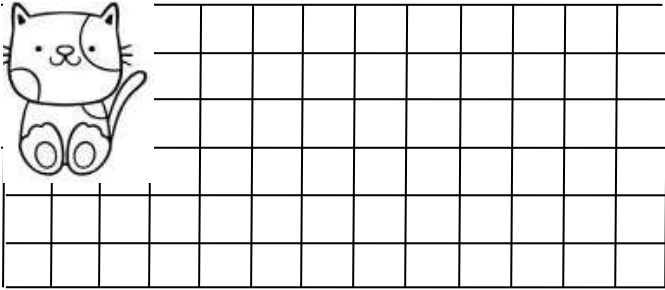
1. Uğur'un 15 tane cevizi vardı. Cevizlerin 6 tanesini Seda'ya verdi. Uğur'un kaç tane cevizi kaldı?



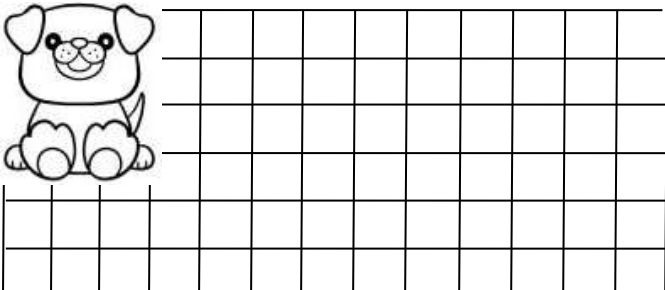
2. 10 tane yumurtanın bir kısmını yedik. Geriye 4 tane yumurta kaldığına göre, kaç tane yumurta yedik ?



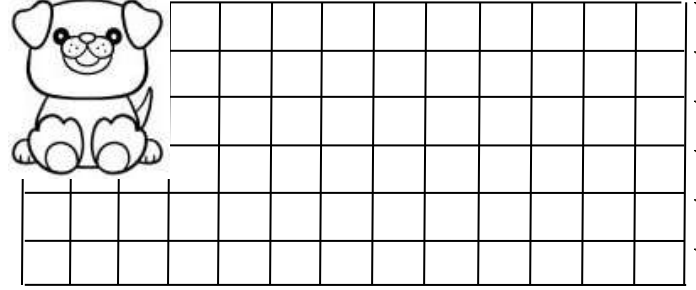
3. Melih 9 yaşındadır. Melih 3 yıl önce kaç yaşındaydı?



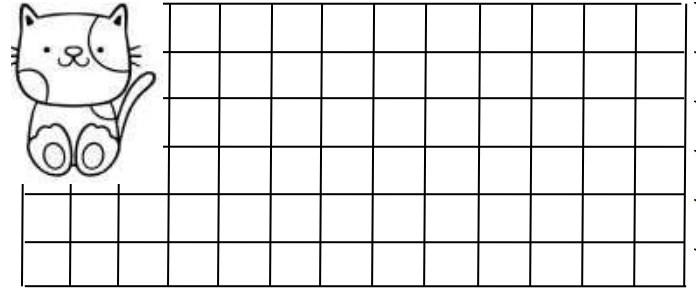
4. Babam toplam 8 kilogram patates ve soğan aldı. Patates 5 kilogram olduğuna göre soğan kaç kilogramdır?



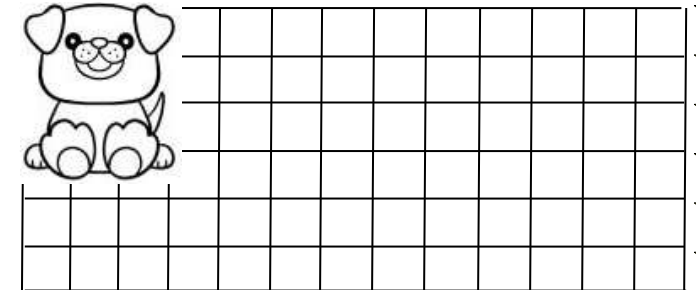
5. Salih'in 18 lirası vardı. Salih parsının 13 lirasını harcamış. Salih'in geriye kaç lirası kalmıştır ?



6. Can'ın 12 tane kalemin bir kısmını kullanmış. Geriye 6 kalem kaldığına göre, Can kaç tane kalem kullanmış ?



7. Çınar tabaktaki 11 fındığın bir kısmını yemiştir. Geriye 7 fındık kalmış. Çınar kaç tane fındık yemiştir ?



8. Otobüsteki 20 yolcudan bir kısmı inmiş. Geriye 14 yolcu kalmış. Otobüsten kaç tane yolcu inmiş ?

