


ZAMANI ÖLÇME PROBLEMLERİ

- Aşağıda verilen problemleri dikkatlice okuyalım, çözelim.

1. Sabah saat 07.30'da evden çıkan Kemal Bey, akşam üzeri 17.30'da eve dönüyor. Kemal Bey kaç saat sonra eve dönmüştür?



2. Merve ve arkadaşları 18.45'te başlayan sinemaya gitmişler, film 135 dakika sürmüştür. Merve ve arkadaşları sinemadan çıktıklarında saat kaçtır?



3. Bir spor salonunda antrenmana başlayan Yalvaç, saat 14.15'ten 16.00'ya kadar çalışmıştır. Yalvaç ne kadar süre çalışmıştır?



4. Elektrik şirketinin attığı mesaja göre pazar günü bulunduğumuz bölgede 150 dakika boyunca elektrik kesintisi yapılacaktı. Mesaja göre kaç saat kaç dakika boyunca elektriksiz kalacağız?



5. Saat 11.30'da başlayan çizgi film, 12.55'te bitti. Çizgi film kaç dakika sürmüştür?



6. Konak'tan Karşıyaka'ya saat 15.35'te kalkan vapur 25 dakika sonra yolculuğunu tamamlamıştır. Vapur Karşıyaka'ya vardığında saat kaçtır?



7. İbrahim öğretmenin evi ile okulu arası 45 dakikadır. İbrahim öğretmen okulda da 6 saat geçirdiğine göre İbrahim öğretmen bir günde eve kaç saat kaç dakika sonra dönmüş olur?



8. Her gün 30 dakika kitap okuyan İlknur, 6 gün sonunda kaç saat kitap okumuş olur?



• Verilen boşlukları dikkatlice dolduralım.

1 lira=tane 25 kr. eder.



1 lira=tane 50 kr. eder.

50 kuruş=tane 10 kr. eder.



200 kuruş= tane 1 lira eder.

25 kuruş=tane 5 kuruş eder.



8 tane 25 kuruş=lira eder.

3 lira=tane 50 kr. eder.



50 kuruş=tane 5 kuruş eder.

75 kuruş=tane 50 kr,
.....tane 25 kuruş eder.

• Paraların değerini hesaplayıp altlarına yazalım.




- Problemleri dikkatlice okuyalım, çözelim.

PARA PROBLEMLERİ

1. Kumbaramda 1 tane 50 TL, 2 Tane 20 TL, 1 tane 5 TL, 5 tane de 1 TL olduğuna göre kaç TL biriktirmişimdir?



5. Her gün 125 TL kazanan bir satıcı, 1 hafta sonunda kaç TL kazanır?



2. Tanesi 60 TL olan tişörtlerden 4 tane alıp satıcıya 200 TL verdim. Satıcı paranın eksik olduğunu söyledi. Kaç TL daha para vermem gerekir?



6. Tanesi 50 kuruş olan şekerlerden 10 tane almak isteyen Erdem'in kaç TL'ye ihtiyacı vardır?



3. Montumun cebinden çıkan 5 liramın 300 kuruşuna su aldım. Kaç kuruşum kaldı?



7. Bir fırıncı tanesini 2 liradan ürettiği 50 poğaçayı, tanesi 5 liradan sattı. Fırıncı kaç lira kâr etmiştir?



4. Kardeşim marketten 375 liralık alışveriş yapmış. Satıcıya 2 tane 200 lira vermiştir. Kaç lira para üstü almalıdır ?



8. Kilogramı 15 TL olan patatesten iki çuval alan Mahmut, satıcıya kaç TL para ödemelidir? (1 çuval=15 kg)



- Problemleri dikkatlice okuyalım, çözelim.

PARA PROBLEMLERİ

1. 4 tane 1 TL, 4 tane 50 kr. ve 8 tane 25 kr. kaç TL eder?



2. Emirhan harçlıklarından her ay 50 TL biriktiriyor. Bir yıl sonunda Emirhan'ın kaç TL'si birikmiş olur?



3. En küçük kâğıt paramız ile en büyük kâğıt paramız arasında kaç TL fark vardır?



4. Zeynep bayramda babasından 100 TL, dedesinden 50 TL, annesinden 40 TL, teyzesinden 10 TL harçlık aldı. Topladığı paralarla çok istediği 75 TL değerindeki bebeği aldı. Zeynep'in kaç TL'si kaldı?



5. Sıradaki soruları verilen bilgilere göre çözelim.



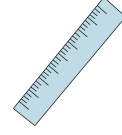
15 TL



20 TL



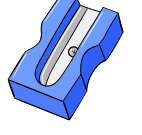
35 TL



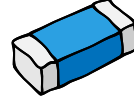
10 TL



7 TL 50 Kr.



2 TL 50 Kr.



4 TL



5 TL



75 TL

- Kırtasiyeden 1 boya paleti, boya kalemleri, ve 1 okul çantası alan Ece kaç TL öder?

- Kırtasiyeden 4 kalem, 2 silgi, 1 cetvel ve 1 makas alan Efe kaç TL öder?

- Kırtasiyeden 1 not defteri, 1 kalem ve 1 kalem taşı alan Ege satıcıya 20 TL verirse ne kadar para üstü alır ?

- Kırtasiyeden tüm ürünlerden birer tane alan Eda, satıcıya kaç TL ödeme yapmalıdır?

