

KESİR PROBLEMLERİ 3

1-) Canan'ın sınıfında 32 öğrenci vardır. Sınıftaki kız öğrencilerin sayısı sınıfın **çeyreğinden 6 fazladır**. Bu sınıfta kaç kız öğrenci vardır?



Cevap:

2-) Bob Usta bir top telin **yarısını** kullanıyor. Bob Usta'nın kullandığı tel 45 metre olduğuna göre telin **bütünü(tamamı)** kaç metredir?



Cevap:

3-) Keloğlan'ın çiftliğinde 20 tane keçi vardır. Keloğlan'ın keçilerinin **yarısı** kadar koyunu, keçilerin **çeyreği** kadar ineği vardır. Bu çiftlikte toplam kaç hayvan vardır?



Cevap:

4-) Pırl 36 sayfalık hikaye kitabının **çeyreğini** okudu. Pırl kaç sayfa daha hikaye okursa kitabın tamamını(bütün) okumuş olur?



İskender07

Cevap:

İskender07 (İlkokul etkinlikleri) - www.mebders.com

5-)



Şirin Baba yukarıda verilen **yarım** karpuzları şirinler köyünde dağıtmıştır. Şirin baba kaç **bütün** karpuz dağıtmıştır?



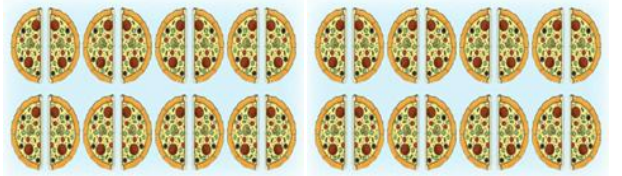
Cevap:

6-) Can'ın yaşı babasının yaşının **çeyreği** kadardır. Babası **40 yaşında** olduğuna göre **ikisinin yaşları toplamı** kaçtır?



Cevap:

7-)



Kadriye yukarıda verilen **yarım** pizzalardan kaç **çeyrek pizza** oluşturabilir?



Cevap:

8-)



İskender07

Erdem yukarıdaki **çeyrek** elmaları bütün hale getirdikten sonra yiyor. Kaç bütün elma yemiştir?

Cevap:

KESİR PROBLEMLERİ 4

1-) Kukuli bir kasadaki muzun çeyreğini yiyince kasada 27 muz kaldığına göre kasanın tamamında(bütün) kaç tane muz vardır?



Cevap:

2-) Kare takımı oyuncuları 28 sayısının çeyreğinin 5 katını bulmak istiyor. Sonucu kaç bulmuştur?




Cevap:


3-) Heidi ineklerinden elde ettiği 40 litre sütün çeyreğinden 5 litre fazlası kadar sütle peynir yapıyor. Heidi peynir yapımında kaç litre süt kullanmıştır?



Cevap:



Ozi limonata yapmak için yukarıda verilen limonların hepsini kullanmıştır. Ozi kaç bütün limon kullanmıştır?



Cevap:

5-) Aslan 32 sayfalık hikaye kitabının önce yarısını daha sonra, kalan sayfaların çeyreğini okumuştur. Geriye okuması gereken kaç sayfa kalmıştır?




Cevap:

6-) Ege ile Gaga 20 sayısının yarısı ile çeyreğini çarpıyor. Sonucu kaç bulmuştur?



Cevap:




Doru ve Karatay yukarıda verilen yarım ve çeyrek karpuzları yemiştir. Doru ve Karatay kaç bütün karpuz yemiştir?



Cevap:

8-) Mert'in bindiği otobüste 30 yolcu vardır. Bu otobüsteki çocuk yolcuların sayısı otobüsteki yolcu sayısının yarısından 5 eksiktir. Otobüsteki çocuk sayısı kaçtır?



İskender07