





AT İLE EŞEK

Adamın birinin bir atı ile bir eşiği varmış. Atına biner, yüklerini de eşiğine taşıtmış. Bir gün eşiğine çok ağır yük yüklemiş. Eşek neredeyse devrilecekmiş. Biraz gidince eşiğin dayanacak gücü kalmamış. Ata yalvarmış:

— Ne olur, hiç gücüm kalmadı, yükümün birazını sen al. Ama at bu sözlere hiç aldirmamış, yoluna devam etmiş. Az sonra eşiğin bütün gücü tükenmiş, düşüp ölüvermiş. Adam eşiğin sırtındaki yükleri ata yüklemiş, üstelik eşiğin derisini de yüzüp yüklerin üstüne koymuş. At, eşiğin neler çektiğini o zaman anlamış, ona yardım etmediğine çok pişman olmuş.

Not: İlk 3 soruyu metne göre cevaplayınız.

1) Aşağıdaki hayvanlardan hangisi masalda yer almamaktadır?



2) Eşek ölünce adam aşağıdakilerden hangisini yapmamıştır?

A) Eşiğin yüklerini ata yüklemiştir.

B) Eşiğin derisini de yüzüp ata yüklemiştir.

C) Yükleri ata yükledikten sonra ata binmiştir.

3) Eşek ölünce, at hangi duyguya kapılmıştır?

A) Pişman olmuştur.

B) Çok sevinmiştir.

C) Çok korkmuştur.

4) 1 Hitap sözlerinden sonra nokta konur.

2 Kısaltmaların sonuna virgül konur.

3 Soru işaretlerinden sonra büyük harfle başlarız.

Yukarıdaki numaralanmış cümlelerde verilen bilgilerden hangisi doğrudur?

A) 1

B) 2

C) 3

5)

Özel adlara gelen "-cı, -sız, -lı -ler" gibi ekler kesme işareti ile ayrılmaz.



Aşağıdakilerden hangisi öğretmenin anlattığına örnek olarak gösterilemez?

A) Antalyalı

B) Ankaradan

C) Türkler

6)



Yukarıdaki resmi anlatan atasözü aşağıdakilerden hangisidir?

- A) Öfke ile kalkan zararlar oturur.
- B) Ayağını yorganına göre uzat.
- C) Kelin ilacı olsa başına sürer.

7)



Bir işin emek ve zaman sarf etmeden, kendiliğinden olmasını beklemek.

Elif konuşmasında hangi atasözünün açıklamasını yapmıştır?

- A) **ARMUT PIŞ AĞZIMA DÜŞ**
- B) **AÇ AYI OYNAMAZ**
- C) **AĞAÇ YAŞ IKEN EĞİLİR**

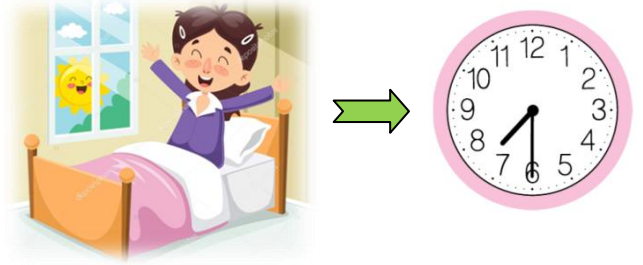
8)

..... yattığı yerden belli olur.

Yukarıdaki atasözü aşağıda verilen hangi resmin adıyla doğru olarak tamamlanır?

- A)
- B)
- C)

9)



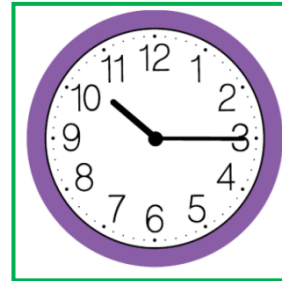
Görsele göre aşağıdakilerden hangisi Ayşe'nin uyandığı zamanı göstermektedir?

- A) 07.00
- B) 07.15
- C) 07.30

10) Aşağıdaki saatlerden hangisi öğleden sonra saat dördü göstermektedir?

- A)
- B)
- C)


11)



Aşağıdakilerden hangisi yandaki saati ifade eder?




- A) Saat 10'a çeyrek var.
- B) Saat 10'u çeyrek geçiyor.
- C) Saat 11'i çeyrek geçiyor.

12)










Saat 05.30 iken yelkovan hangi sayı üzerindedir?

- A) 3
- B) 6
- C) 9

- 13)  Bir saat, 30 dakikadır.
 Bir gün 24 saattir.
 Bir hafta 7 gündür.

Yukarıdaki ifadelerden hangileri **doğrudur**?

- A)   B)    C)  

14)

pazartesi	salı	çarşamba	perşembe	cuma	cumartesi	pazar
	1	2	3	4	5	6
7	8	9	10	11	12	13
14	15	16	17	18	19	20
21	22	23	24	25	26	27
28						

Yukarıda verilen takvime göre 18 Şubat'tan **8 gün sonra** gelen gün hangisidir?

- A) Salı B) Cuma C) Cumartesi

15) Aşağıdaki aylardan hangisi diğerlerinden **farklı** bir mevsimdedir?

- A) Eylül B) Aralık C) Kasım

16) Aşağıdakilerden hangisi **kültürümüze ait geleneksel** bir oyundur?



Yiyecek ve içecekler

Gelenek ve görenekler

17)

Halk oyunları

Kutlamalar

Yukarıda verilenlerin hepsine birden aşağıdaki adlardan hangisi verilmektedir?

- A) Milli tarih B) El sanatları
C) Kültürel miras

18) Gelenek ve göreneklerimizle ilgili aşağıdaki bilgilerden hangisi **doğrudur**?

- A) Zamanla unutulur.
B) Kuşaktan kuşağa aktarılır.
C) Kültürel öğeler bütün toplumlarda aynıdır, değişiklik göstermez.

19)



zeybek

salsa

halay

Yukarıdaki oyunlardan hangisi kültürümüze ait **değildir**?

- A) zeybek B) salsa C) halay

20)



mantı

kebab

pizza

Yukarıdakilerden hangisi milli kültürümüze ait bir yemek **değildir**?

- A) mantı B) kebab
C) pizza

Cevap Anahtarı

1)A 2)C 3)A 4)C 5)B
6)B 7)A 8)A 9)C 10)C
11)B 12)B 13)A 14)C 15)B
16)A 17)C 18)B 19)B 20)C