



KÜLTÜREL MİRAS ÖĞELERİMİZ



Kültür: Bir milletin tarihsel gelişme süreci içinde meydana getirdiği maddi ve manevi değerlerin bütününe **kültür** denir.

Milli Kültür: Bir toplumu diğer toplumlardan ayıran kültürel değerlere milli kültür denir. Düğünlerimiz, bayramlarımız, oyunlarımız, yemeklerimiz, kıyafetlerimiz, misafirperverliğimiz gibi birçok unsur kültürümüzün vazgeçilmez parçalarıdır.

Gelenek: Bir toplumda çok eskilerden kalmış olmaları dolayısıyla saygın tutulup kuşaktan kuşağa aktarılan, yaptırım gücü olan kültürel kalıntılar, alışkanlıklar, bilgi, töre ve davranışlardır.

Görenek: Bir şeyi eskiden beri görüldüğü gibi yapma alışkanlığı, adet.

- Aşağıda kültürel miras öğelerimize verilmiştir. Bu öğelere örnekler yazınız.

GELENEK VE GÖRENEKLERİMİZ



-
-
-
-
-
-

YÖRESEL OYUNLARIMIZ



-
-
-
-

ÇALGILARIMIZ



-
-
-
-
-
-

KÜLTÜREL MİRAS ÖĞELERİMİZ

TÜRKÜLERİMİZ



-
-
-
-
-
-

YEMEKLERİMİZ



-
-
-
-

YÖRESEL KIYAFETLERİMİZ



-
-
-
-
-
-



KÜLTÜREL MİRAS ÖĞELERİMİZ



Aşağıdaki cümlelerden doğru olanların başına "D", yanlış olanların başına "Y" yazınız.

D	Y	İFADELER
		Pizza bizim kültürümüze ait bir yemektir.
		Gelenek ve göreneklerimiz kültürel mirasımızı oluşturur.
		Halk oyunları bölgeden bölgeye farklılık gösterir.
		Yeni yapılan binalar, alışveriş merkezleri kültürel mirasımıza örnektir.
		Gelenek ve göreneklerimizi yaşatmak için çaba sarf etmeliyiz.
		Türkülerimiz, yöresel kıyafetlerimiz kültürel mirasımızdandır.
		Baklava ve kebab bizim kültürümüze ait bir yiyecek değildir.
		Kına geceleri, asker uğurlama törenleri gelenek ve göreneklerimizdendir.

Aşağıda verilen görsellerden milli kültürümüze ait olanları işaretleyiz.



Aşağıdaki cümlelerde boş bırakılan yerleri verilen kelimelerle uygun olacak şekilde tamamlayınız.

kına gecesi

misafirlik

miras

yemeği

kültürel

- Ülkemizde her yörenin kendine özgü bir vardır.
- Türkülerimiz ve yöresel kıyafetlerimiz birer mirastır.
- Düğünlerden önce yapılan geleneklerimizdendir.
- Bir toplumun yaşadığı dönemden sonraki dönemlere bıraktığı her şeytır.
- ülkemize özgü bir ziyaret şeklidir.

KAVANOZDAKİ BAL

Bal ticaretiyle uğraşan bir adam, yakın bir akrabasına her hafta bir miktar bal gönderiyordu. Balı gönderdiği akrabası gönderilen balın bir kısmını tüketti. Geri kalan kısmını ise satmak amacıyla biriktirip saklardı. Böylece, duvardaki rafın üzerindeki kavanozda epeyce bal birikti.

Bir gün adam, yatağında uzanıyordu. Uzandığı yerden gözü bal kavanozuna ilişti. Bir hayli bal birikmiş, diye düşündü. Biriken balları seyredip tatlı hayaller kurmaya başladı:

Kavanozun tamamı balla dolarsa bir altına satabilirim. Bu altınla pazara gider ve on koyun alırım. Elbette bunların her yıl yavruları olacak.

Bu yavrular büyüyünce onların da yavruları olacak. Derken birkaç yıl içinde koyunlarımın sayısı dört yüze çıkar. İşte o zaman koyunlarımı satarım. Yerlerine yüz inek ve birkaç öküz alırım. İnekler birkaç yıl içinde çoğalınca bir kısmını satarım. Yerlerine tarla ve bir miktar tohum alırım, çiftçiliğe başlarım. Öküzlerin yardımıyla toprağı eker biçerim. O zamana kadar birçok çocuğum olur. Onların yardımıyla ineklerin sütünü sağır ve satarım. Sonra ...

Adam böylece hayal dünyasında gezinirken, ayağı raftaki kavanoza çarptı. Kırılan kavanozun içindeki bal, adamın hayalleriyle birlikte aktı.



A-) Aşağıda verilen soruları metne göre cevaplayınız.

- 1-) Bal ticaretiyle uğraşan adam **kime** her hafta bal göndermektedir?
- 2-) Hayal kuran adam, balı **nasıl** değerlendiriyormuş?
- 3-) Adam hayalinde ballardan kazandığı altınla **hangi** hayvanları almak istemiş?
- 4-) Adam hayal dünyasında gezinirken **ne** olmuş?

www.mebders.com

1) Hayal kuran adam, öncelikle bir altınla ne almak istemiş?

- A) on koyun
- B) yüz inek
- C) birkaç öküz

B-) Doğru olanı işaretleyelim.

2) Okuduğumuz öyküye yeni bir başlık koymak istersek hangisi uygun olmaz?

- A) Hayal Dünyasındaki Adam
- B) Akıp Giden Hayaller
- C) Hayalindeki Başarmak

3) Aşağıdakilerden hangisi masaldan çıkarabileceğimiz derslerden birisi değildir?

- A) Boş hayaller sonuç getirmez.
- B) Çalışmadan hayal kurmak yetmeyebilir.
- C) Çok hayal kurarak amacımıza ulaşabiliriz.

TÜRKÇE DERSİ İSİM BİLGİSİ

Aşağıdaki tabloda verilen cümlelerde altı çizili sözcüklerden hangisi özel isim, hangisi cins isimdir? İşaretleyiniz.

CÜMLELER	CİNS İSİM	ÖZEL İSİM
<u>Seda</u> dün kırtasiyeden <u>kalem</u> aldı.		
<u>Furkan</u> 'ın dedesibahçedeki <u>çiçekleri</u> suluyor.		
<u>Efe</u> ve Ali parktaki <u>salıncakta</u> sallanıyor.		
<u>Annem</u> pazardan yeni <u>çanta</u> aldı.		
<u>Tekir</u> 'in tabağına <u>süt</u> koydum.		
<u>Otobüs</u> yarın <u>Ankara</u> 'ya gidecek		
<u>Arda</u> , salondaki <u>masada</u> ders çalıştı		
<u>Maviş</u> , akşam <u>kafesten</u> kaçtı.		
<u>Osman</u> kardeşine <u>çikolata</u> aldı.		
Ağrı Dağı'ndan aşağıya doğru kayalar düştü.		

Aşağıdaki cümlelerdeki altı çizili kelimeleri tekil, çoğul, topluluk adı oluşlarına göre işaretleyiniz.

CÜMLELER	Tekil Ad	Çoğul Ad	Topluluk adı
Hayvanat bahçesinde <u>fil</u> gördüm.			
İlkbahar mevsiminde ormandan <u>papatyalar</u> topladım.			
Bahçede kocaman bir <u>kiraz</u> ağacı var.			
Bizim <u>takım</u> yarışmayı kazandı.			
<u>Ekmekleri</u> nereye götürüyorsun ?			
Kırtasiyeden iki <u>düzine</u> kalem aldım.			
<u>Güneş</u> pırıl pırıl parlıyordu.			
Denizdeki <u>balıklar</u> nerede?			
Öğretmenimiz <u>grup</u> çalışması yaptı.			

TÜRKÇE DERSİ OLUMLU - OLUMSUZ CÜMLELER

Aşağıda verilen olumlu cümleleri, olumsuz cümleye dönüştürerek yazınız.

Hafta sonu yağmur yağacak.



Çikolata ve şekeri çok severim.



Ahmet yalan söyledi.



Bu kıyafetler eski değil.



Denizdeki gemi fırtınada battı.



Seni bu parkta görmüştüm.



Bizim okulda masa tenisi var.



Aldığım çanta çok güzel.



Akşam televizyonda belgesel vardı.



Aşağıdaki kelime dizilerini olumsuz cümle oluşturacak şekilde tamamlayınız.

Ödevlerimi zamanında

Benim aradığım elbise bu

Çok geç saatlerde

Bize bu akşam misafirler

Bu yaz tatile

Terli terli soğuk su

Son günlerde kendime hiç zaman

TÜRKÇE DERSİ YAZIM YANLIŞLIKLARI

Aşağıdaki levhalarda yazılan kelimelerden yazım yanlışı yapılanları boyayınız.



Süpriz



prens



zebze



kral



tren



sovan



yanlız



kirpik



şarj



filim



eşortman



domatez



heycanlı



torpak



spor



dükan

Cümlelerdeki yanlış yazılmış sözcükleri belirleyiniz. Yanlışlıkları düzelterek cümleleri yeniden yazınız.

Van gölüne gezmeye gideceğiz.

Bugün İngilizce dersinde ne yaptınız?

Halamlar vatan caddesinde oturuyor.

29 Ekimde cumhuriyet bayramını coşkuyla kutluyoruz.

KESİR PROBLEMLERİ 3

1-) Canan'ın sınıfında 32 öğrenci vardır. Sınıftaki kız öğrencilerin sayısı sınıfın **çeyreğinden 6 fazladır**. Bu sınıfta kaç kız öğrenci vardır?



Cevap:

2-) Bob Usta bir top telin **yarısını** kullanıyor. Bob Usta'nın kullandığı tel 45 metre olduğuna göre telin **bütünü(tamamı)** kaç metredir?



Cevap:

3-) Keloğlan'ın çiftliğinde 20 tane keçi vardır. Keloğlan'ın keçilerinin **yarısı** kadar koyunu, keçilerin **çeyreği** kadar ineği vardır. Bu çiftlikte toplam kaç hayvan vardır?



Cevap:

4-) Pırl 36 sayfalık hikaye kitabının **çeyreğini** okudu. Pırl kaç sayfa daha hikaye okursa kitabın tamamını(bütün) okumuş olur?



İskender07

Cevap:

İskender07 (İlkokul etkinlikleri) - www.mebders.com

5-)



Şirin Baba yukarıda verilen **yarım** karpuzları şirinler köyünde dağıtmıştır. Şirin baba kaç **bütün** karpuz dağıtmıştır?



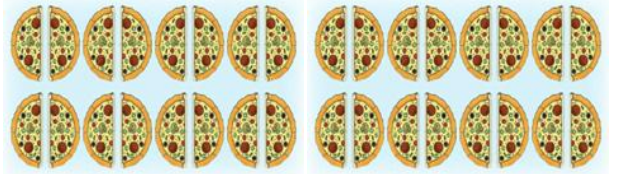
Cevap:

6-) Can'ın yaşı babasının yaşının **çeyreği** kadardır. Babası **40 yaşında** olduğuna göre **ikisinin yaşları toplamı** kaçtır?



Cevap:

7-)



Kadriye yukarıda verilen **yarım** pizzalardan kaç **çeyrek pizza** oluşturabilir?



Cevap:

8-)



Erdem yukarıdaki **çeyrek** elmaları bütün hale getirdikten sonra yiyor. Kaç bütün elma yemiştir?



İskender07

Cevap:

KESİR PROBLEMLERİ 4

1-) Kukuli bir kasadaki muzun **çeyreğini** yiyince kasada 27 muz kaldığına göre kasanın **tamamında(bütün)** kaç tane muz vardır?



Cevap:

2-) Kare takımı oyuncuları 28 sayısının **çeyreğinin 5 katını** bulmak istiyor. Sonucu kaç bulmuştur?




Cevap:


3-) Heidi ineklerinden elde ettiği 40 litre sütün **çeyreğinden 5 litre fazlası** kadar sütle peynir yapıyor. Heidi peynir yapımında kaç litre süt kullanmıştır?



Cevap:



Ozi limonata yapmak için yukarıda verilen limonların hepsini kullanmıştır. Ozi kaç bütün limon kullanmıştır?



Cevap:

5-) Aslan 32 sayfalık hikaye kitabının önce **yarısını** daha sonra, kalan sayfaların **çeyreğini** okumuştur. **Geriye okuması gereken** kaç sayfa kalmıştır?




Cevap:

6-) Ege ile Gaga 20 sayısının **yarısı** ile **çeyreğini çarpıyor**. Sonucu kaç bulmuştur?



Cevap:




Doru ve Karatay yukarıda verilen **yarım ve çeyrek** karpuzları yemiştir. Doru ve Karatay **kaç bütün karpuz** yemiştir?



Cevap:

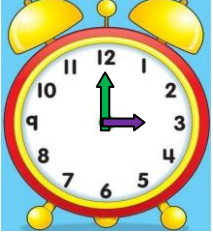
8-) Mert'in bindiği otobüste 30 yolcu vardır. Bu otobüsteki çocuk yolcuların sayısı otobüsteki yolcu sayısının **yarısından 5 eksiktir**. Otobüsteki çocuk sayısı kaçtır?



İskender07

TAM - YARIM - ÇEYREK SAATLERİN OKUNUŞU 1

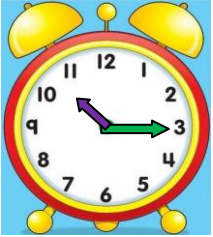
- Aşağıda verilen saatlerin kaç gösterdiklerinin okunuşlarını yazınız.



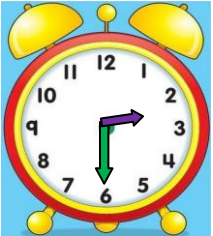
Okunuşu:



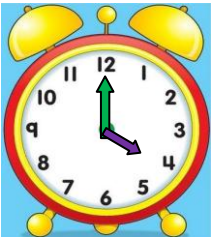
Okunuşu:



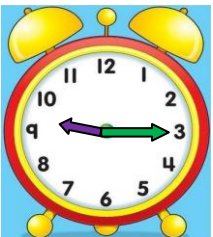
Okunuşu:



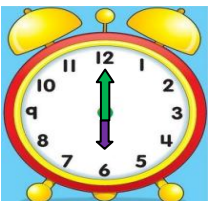
Okunuşu:



Okunuşu:



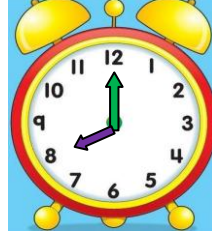
Okunuşu:



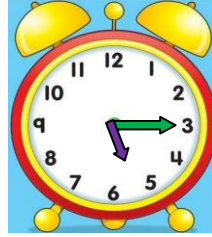
Okunuşu:

İskender07 (İlkokul etkinlikleri)

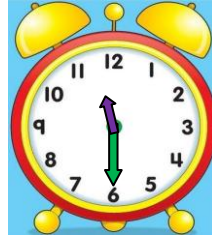
- Aşağıda verilen saatlerin kaç gösterdiklerinin okunuşlarını yazınız.



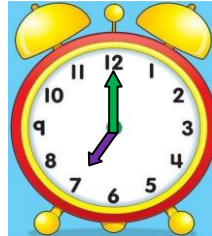
Okunuşu:




Okunuşu:



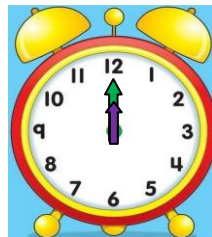
Okunuşu:



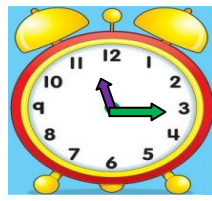
Okunuşu:



Okunuşu:



Okunuşu:



Okunuşu:

www.mebders.com


TAM YARIM ÇEYREK SAATLERİN OKUNUŞU VE GÖSTERİLİŞİ 2

- Aşağıda verilen saatleri **akrep** ve **yelkovan** kullanarak saat modelinde çiziniz. Saatlerin okunuşunu yazınız.




03.00

Okunuşu:



10.30

Okunuşu:




07.15

Okunuşu:




06.45

Okunuşu:




14.15

Okunuşu:



12.00

Okunuşu:



09.00

Okunuşu:

- Aşağıda verilen saatleri **akrep** ve **yelkovan** kullanarak saat modelinde çiziniz. Saatlerin okunuşunu yazınız.




11.45

Okunuşu:




01.30

Okunuşu:




04.15

Okunuşu:




05.30

Okunuşu:




09.45

Okunuşu:



11.15

Okunuşu:

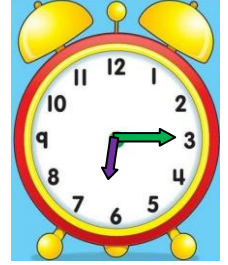
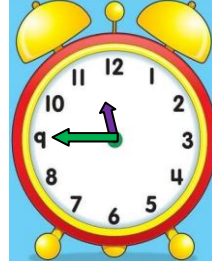
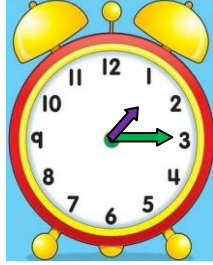
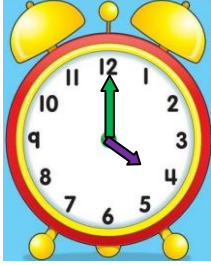
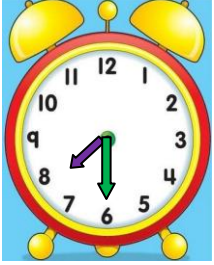


12.30

Okunuşu:

TAM - YARIM - ÇEYREK SAATLERİN OKUNUŞU VE GÖSTERİLİŞİ 3

- Aşağıda okunuşları verilen ifadeleri uygun saat modelleriyle eşleştiriniz.



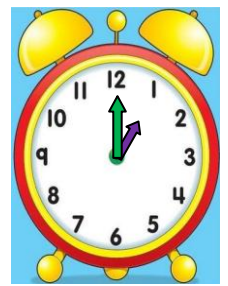
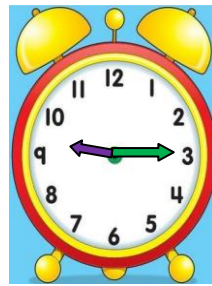
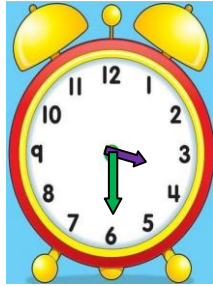

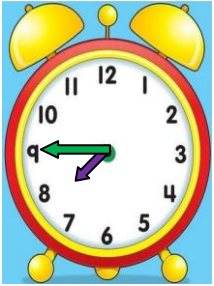
On ikiye
çeyrek var

Altıyı çeyrek
geçiyor

Biri çeyrek
geçiyor

Yedi buçuk

Saat dört



Dokuzu çeyrek
geçiyor

Saat bir






Sekize çeyrek
var

Altı buçuk

Beş buçuk

İşkender07

- Aşağıda verilen dijital saatleri, analog saatlere akrep ve yelkovan kullanarak çiziniz.



14.30

20.15

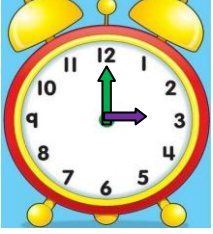
08.45

16.30

21.30

TAM YARIM ÇEYREK SAATLERİN OKUNUŞU VE GÖSTERİLİŞİ 4

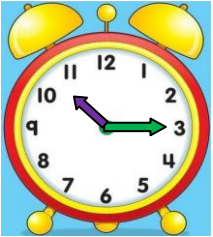
- Aşağıda verilen saatlerin öğleden önce kaçı gösterdiklerini okunuşlarını yazınız.



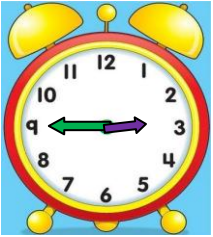
Okunuşu:



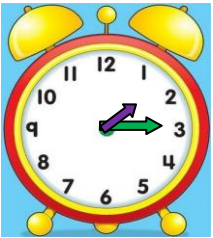
Okunuşu:



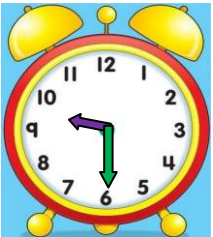
Okunuşu:



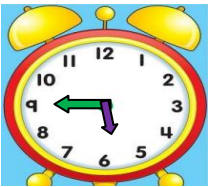
Okunuşu:



Okunuşu:

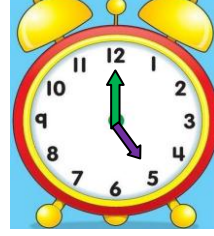


Okunuşu:

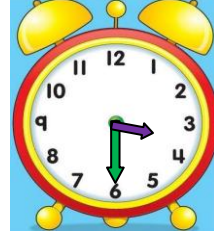


Okunuşu:

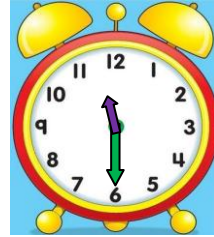
- Aşağıda verilen saatlerin öğleden sonra kaçı gösterdiklerini okunuşlarını yazınız.



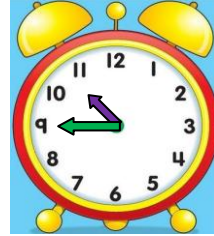
Okunuşu:



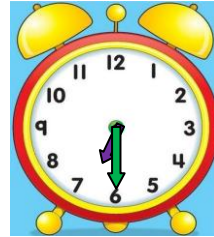
Okunuşu:



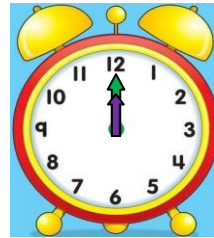
Okunuşu:



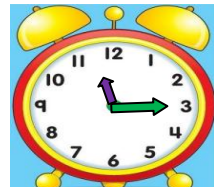
Okunuşu:



Okunuşu:



Okunuşu:



Okunuşu:





AT İLE EŞEK

Adamın birinin bir atı ile bir eşiği varmış. Atına biner, yüklerini de eşiğine taşıtmış. Bir gün eşiğine çok ağır yük yüklemiştir. Eşek neredeyse devrilecekti. Biraz gidince eşiğin dayanacak gücü kalmamış. Ata yalvarmış:

— Ne olur, hiç gücüm kalmadı, yükümün birazını sen al. Ama at bu sözlere hiç aldirmamış, yoluna devam etmiş. Az sonra eşiğin bütün gücü tükenmiş, düşüp ölüvermiş. Adam eşiğin sırtındaki yükleri ata yüklemiş, üstelik eşiğin derisini de yüzüp yüklerin üstüne koymuş. At, eşiğin neler çektiğini o zaman anlamış, ona yardım etmediğine çok pişman olmuş.

Not: İlk 3 soruyu metne göre cevaplayınız.

1) Aşağıdaki hayvanlardan hangisi masalda yer almamaktadır?



2) Eşek ölünce adam aşağıdakilerden hangisini yapmamıştır?

A) Eşiğin yüklerini ata yüklemiştir.

B) Eşiğin derisini de yüzüp ata yüklemiştir.

C) Yükleri ata yükledikten sonra ata binmiştir.

3) Eşek ölünce, at hangi duyguya kapılmıştır?

A) Pişman olmuştur.

B) Çok sevinmiştir.

C) Çok korkmuştur.

4) 1 Hitap sözlerinden sonra nokta konur.

2 Kısaltmaların sonuna virgül konur.

3 Soru işaretlerinden sonra büyük harfle başlarız.

Yukarıdaki numaralanmış cümlelerde verilen bilgilerden hangisi doğrudur?

A) 1

B) 2

C) 3

5)

Özel adlara gelen "-cı, -sız, -lı -ler" gibi ekler kesme işareti ile ayrılmaz.



Aşağıdakilerden hangisi öğretmenin anlattığına örnek olarak gösterilemez?

A) Antalyalı

B) Ankaradan

C) Türkler

6)



Yukarıdaki resmi anlatan atasözü aşağıdakilerden hangisidir?

- A) Öfke ile kalkan zararlar oturur.
- B) Ayağını yorganına göre uzat.
- C) Kelin ilacı olsa başına sürer.

7)



Bir işin emek ve zaman sarf etmeden, kendiliğinden olmasını beklemek.

Elif konuşmasında hangi atasözünün açıklamasını yapmıştır?

- A) **ARMUT PIŞ AĞZIMA DÜŞ**
- B) **AÇ AYI OYNAMAZ**
- C) **AĞAÇ YAŞ IKEN EĞİLİR**

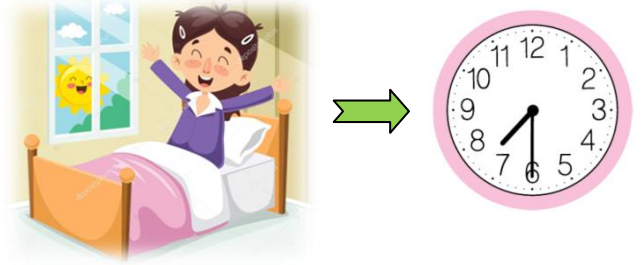
8)

..... yattığı yerden belli olur.

Yukarıdaki atasözü aşağıda verilen hangi resmin adıyla doğru olarak tamamlanır?

- A)
- B)
- C)

9)



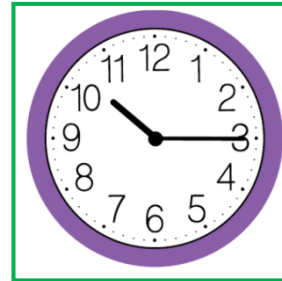
Görsele göre aşağıdakilerden hangisi Ayşe'nin uyandığı zamanı göstermektedir?

- A) 07.00
- B) 07.15
- C) 07.30

10) Aşağıdaki saatlerden hangisi öğleden sonra saat dördü göstermektedir?

- A)
- B)
- C)


11)



Aşağıdakilerden hangisi yandaki saati ifade eder?




- A) Saat 10'a çeyrek var.
- B) Saat 10'u çeyrek geçiyor.
- C) Saat 11'i çeyrek geçiyor.

12)










Saat 05.30 iken yelkovan hangi sayı üzerindedir?

- A) 3
- B) 6
- C) 9

- 13)  Bir saat, 30 dakikadır.
 Bir gün 24 saattir.
 Bir hafta 7 gündür.

Yukarıdaki ifadelerden hangileri **doğrudur**?

- A)   B)    C)  

14)

pazartesi	salı	çarşamba	perşembe	cuma	cumartesi	pazar
	1	2	3	4	5	6
7	8	9	10	11	12	13
14	15	16	17	18	19	20
21	22	23	24	25	26	27
28						

Yukarıda verilen takvime göre 18 Şubat'tan **8 gün sonra** gelen gün hangisidir?

- A) Salı B) Cuma C) Cumartesi

15) Aşağıdaki aylardan hangisi diğerlerinden **farklı** bir mevsimdedir?

- A) Eylül B) Aralık C) Kasım

16) Aşağıdakilerden hangisi **kültürümüze ait geleneksel** bir oyundur?



Yiyecek ve içecekler

Gelenek ve görenekler

17)

Halk oyunları

Kutlamalar

Yukarıda verilenlerin hepsine birden aşağıdaki adlardan hangisi verilmektedir?

- A) Milli tarih B) El sanatları
C) Kültürel miras

18) Gelenek ve göreneklerimizle ilgili aşağıdaki bilgilerden hangisi **doğrudur**?

- A) Zamanla unutulur.
B) Kuşaktan kuşağa aktarılır.
C) Kültürel öğeler bütün toplumlarda aynıdır, değişiklik göstermez.

19)



zeybek

salsa

halay

Yukarıdaki oyunlardan hangisi kültürümüze ait **değildir**?

- A) zeybek B) salsa C) halay

20)



mantı

kebab

pizza

Yukarıdakilerden hangisi milli kültürümüze ait bir yemek **değildir**?

- A) mantı B) kebab
C) pizza

Cevap Anahtarı

1)A 2)C 3)A 4)C 5)B
6)B 7)A 8)A 9)C 10)C
11)B 12)B 13)A 14)C 15)B
16)A 17)C 18)B 19)B 20)C