




PARALARIMIZLA İLGİLİ PROBLEMLER

1.) Bir kutu süt 85 kuruştur.
4 kutu süt alan Ela ne kadar
para öder ?



Çözüm :

4.) Arda tanesi 6 lira olan
defterlerden 7 tane almış.
Arda satıcıya 50 lira vermiş.
Arda kaç lira para üstü alır ?



Çözüm :

2.) Melih 5 lirasının 3 lira 75
kuruşunu harcamış. Geriye kaç
kuruşu kalmıştır ?



Çözüm :

5.) Sinem 80 lira parasının
önce 17 lirasını , sonra 28
lirasını harcamış. Sinemin kaç
lirası kalmıştır ?




Çözüm :

3.) Bir kilosu 200 kr. olan
elmadan 4 kg alan babam
kaç lira ödemiştir ?



Çözüm :

6.) Erdem'in kumbarasında 69
lirası vardı. Kumbaraya 8
tane 25 kr. koydu. Kumbara-
da kaç lirası olmuştur ?



Çözüm :



PARALARIMIZLA İLGİLİ PROBLEMLER

1.) Umut 100 lirasının önce yarısını , sonra 35 lirasını harcamış. Umut'un kaç lirası kalmıştır ?



Çözüm :

4.) Fatih tanesi 150 kr olan ekmeklerden 4 tane almış. Satıcıya 10 lira vermiş. Kaç lira para üstü alır ?



Çözüm :

2.) Taner'in 4 lira 50 kuruşu , Can'ın 5 lira 50 kuruşu var. Paralarını birleştirerek fiyatı 15 lira olan toptan almak istiyorlar. İki arkadaşın kaç liraya daha ihtiyaçları vardır?



Çözüm :

5.) Eray bir haftada 15 lira biriktirmektedir. Biriktirdiği parayla fiyatı 92 lira olan ayakkabıyı almak istiyor. 5 hafta sonra ayakkabıyı almak için kaç lira eksikliği kalır ?



Çözüm :

3.) Rana'nın 8 lira 25 kuruşu , Ömer'in 6 lira 75 kuruşu vardı. İki kardeş paralarını birleştirdi ve 9 lirasını harcadılar. İki kardeşin kaç lirası kalmıştır ?



Çözüm :

6.) Yavuz kumbarasına her gün 50 kuruş atmaktadır. İki hafta sonra toplam kaç lira atmış olur?



Çözüm :



PARALARIMIZLA İLGİLİ PROBLEMLER

1. Üç kardeş 90 liranın 12 lirasını harcamışlar. Kalan parayı ise eşit olarak paylaşmışlar. Her birine kaç lira düşmüştür ?

Çözüm:




2. Ayça tanesi 75 kuruş olan gofretten 7 tane almış. Bakkala 6 lira vermiş. Kaç lira para üstü alır ?

Çözüm:



3. Hasan'ın 8 lirası vardı. Parasının 5 lira 25 kuruşuna defter aldı. Hasan'ın kaç kuruşu kalmıştır ?

Çözüm:



4. Pazardan kilosu 4 liradan 3 kg elma , kilosu 5 liradan 5 kg portakal aldık. Aldıklarımız toplam kaç liradır ?

Çözüm:



5. Apartmanımızda 16 daire var. Her daireden 50 lira toplanmış ve paranın 670 lirası asansör tamiri için kullanılmış. Buna göre toplanan paradan kaç lira kalmıştır?

Çözüm:



6. Jale'nin haftalık harçlığı 10 liradır. Bu paranın 6 lirasını harcıyıp kalanını kumbarasını atıyor. Bir yıl sonunda kumbarasına kaç lira atmış olur ?

Çözüm:





PARALARIMIZLA İLGİLİ PROBLEMLER

1. Babam 475 liraya takım elbise ve gömlek almış. Satıcıya 4 tane 50 lira ve 3 tane 100 lira vermiş. Kaç lira para üstü almıştır ?

Çözüm:



2. Annem tanesi 250 kuruştan 2 bağ ispanak ve tanesi 125 kuruştan 4 bağ maydanoz almış. Annem aldıklarına toplam kaç lira ödemiştir ?

Çözüm:



3. Ozan'ın 80 lirası vardı. Parasının $\frac{1}{5}$ 'ini , harcamış. Ozan'ın kaç lirası kalmıştır?

Çözüm:



4. 3 kilogram peynir 96 lira olduğuna göre 7 kilogram peynir kaç liradır. ?

Çözüm:



5. Çiğdem'in 48 lirası var. Ablasının parası ise Çiğdem'in parasının 4 katının 35 lira eksiklidir. Buna göre ablasının kaç lirası vardır?

Çözüm:



6. İlker'in 9 lira 50 kuruşu vardı. Tanesi 125 kuruştan 3 tane kalem aldı. İlker'in kaç kuruşu kalmıştır ?

Çözüm:

