



ÇIKARMA İŞLEMİ PROBLEMLER


1. Babam 20 tane fidanın bir kısmını dikince 12 tane fidan kalmış. Babam kaç tane fidan dikmiştir?




2. Kenan'ın 15 lirası vardı. Kenan 10 liraya kitap aldı. Kenan'ın geriye kaç lirası kaldı ?




3. Kutuda 17 tane boncuk vardı. Serap kutudan bir miktar boncuk alınca 9 boncuk kaldı. Serap kaç boncuk almıştır?




4. Melih 19 sayfa olan kitabından biraz okumuş. Geriye okunacak 9 sayfa kalmış. Melih kaç sayfa kitap okumuş ?




5. Arzu ile Gamze'nin yaşları toplamı 18'dir. Arzu 10 yaşında olduğuna göre Gamze kaç yaşındadır ?




6. Dayımların 14 tane koyunu vardı. Dayım koyunların 9 tanesini sattı. Geriye kaç tane koyun kaldı ?



7. Yalçın 18 tane sorunun 8 tanesini cevaplamış. Yalçın cevaplanacak kaç tane sorusu kalmıştır ?




8. Kümeste 16 tane tavuk ve horoz var. Bunların 4 tanesi horoz olduğuna göre kaç tanesi tavuktur?

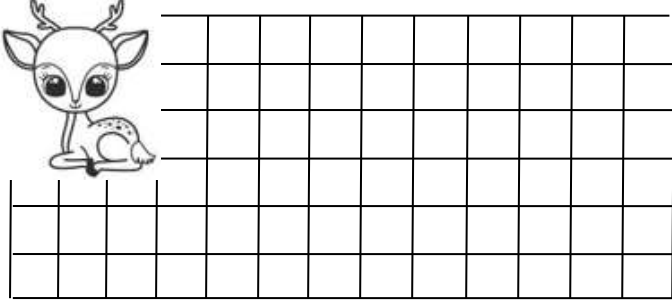


ÇIKARMA İŞLEMİ PROBLEMLER

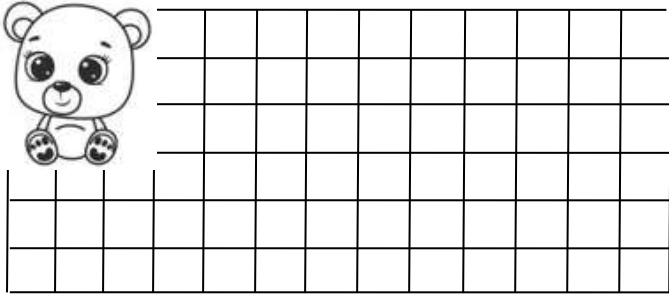
1. Yaren'in 10 tane, Merve'nin 6 tane cevizi var. Yaren'in cevizleri Merve'nin cevizlerinden kaç tane fazladır?



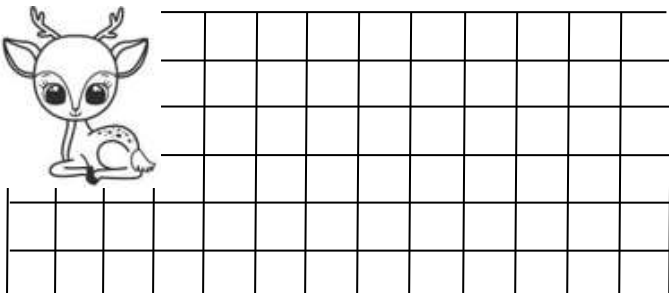
2. Sepette 9 tane kırmızı elma, 7 tane sarı elma var. Kırmızı elmalar sarı elmalardan kaç tane fazladır?



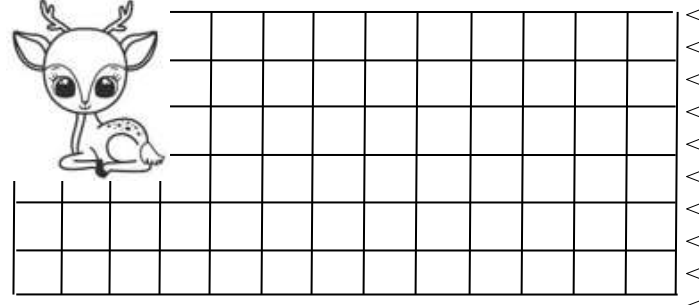
3. Kemal 11 yaşındadır. Kemal 3 yıl önce kaç yaşındaydı?




4. Bahçede 13 kız, 8 erkek öğrenci oyun oynuyor. Kız öğrenciler erkek öğrencilerden kaç tane fazladır?




5. Erdem tabaktaki 8 çileğin tamamını yemiştir. Tabakta kaç tane çilek kalmış?



6. Burçin 14, İlgar 9 yaşındadır. Burçin İlgar'dan kaç yaş büyüktür?



7. Vazodaki 15 tane çiçeğin 7 tanesi kurumuş. Kuruyan çiçekleri alınca vazoda kaç tane çiçek kalır?



8. Ayça'nın 12 tane tokası var. Demet'in tokaları ise Ayça'nın tokalarından 3 tane azdır. Demet'in kaç tane tokası var?

