
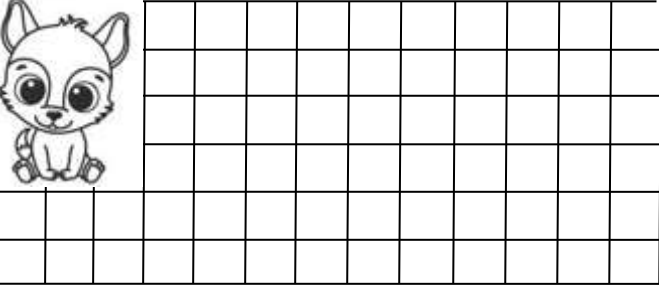


TOPLAMA VE ÇIKARMA İŞLEMİ İLE İLGİLİ PROBLEMLER


1. Annem 16 tane yumurtanın 5 tanesini pişirdi. Geriye kaç tane yumurta kaldı?




2. Salih dün 13 sayfa, bugün 6 sayfa kitap okumuş. Salih iki günde toplam kaç sayfa kitap okumuştur?



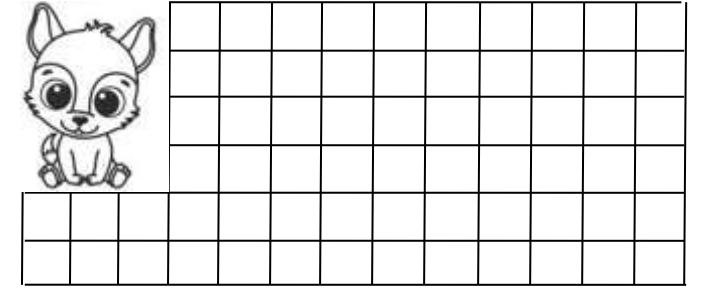
3. Kutuda 25 tane boncuk vardı. Deniz kutuya 12 tane daha boncuk koydu. Kutuda toplam kaç tane boncuk oldu?




4. Betül ve Begüm ikiz kardeşlerdir. Betül 10 yaşında olduğuna göre , ikisinin yaşları toplamı kaçtır?



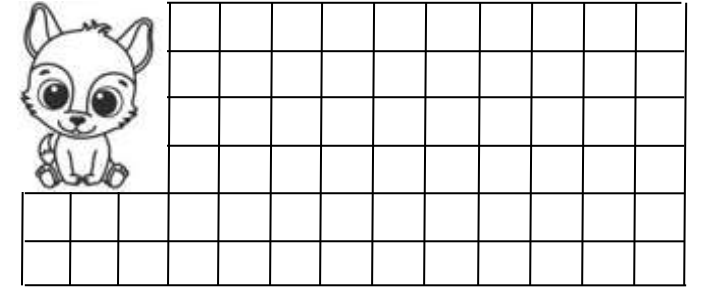
5. Tabakta 14 tane erik vardı. Fatma eriklerin tamamını yedi. Tabakta kaç tane erik kaldı?




6. Hasan 17 yaşındadır. İlke ise Hasan'dan 4 yaş küçüktür. İlke kaç yaşındadır ?



7. Dayımların önce 32 , sonra 5 tane kuzuları doğmuş. Toplam kaç tane kuzu doğmuştur?




8. Kutudaki 48 tane boncuğun 26 tanesi mavi geri kalanı kırmızıdır. Kutuda kaç tane kırmızı boncuk vardır?



TOPLAMA VE ÇIKARMA İŞLEMİ İLE İLGİLİ PROBLEMLER

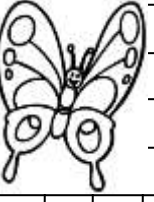
1. Otobüste 45 tane yolcu vardı. Durakta 15 yolcu indi. Otobüste kaç yolcu kalmıştır?



2. Uğur aldığı boyaya 24 lira , deftere ise 13 lira ödedi. Uğur aldıklarına toplam kaç lira ödedi?



3. Arda 55 tane problemin 25 tanesini çözmüş. Geriye çözülecek kaç problem kalmıştır?



4. Bahçede oyun oynayan 47 çocuğun 7 tanesi okula girdi. Bahçede kaç tane çocuk kalmıştır?



5. Buzdolabında 12 tane beyaz , 17 tane kırmızı yumurta var. Buzdolabında toplam kaç tane yumurta var?



6. Ağaçta 39 tane kuş vardı. Kuşlardan 16 tanesi uçtu. Ağaçta kaç tane kuş kalmıştır ?



7. Selin 36 sayfa olan kitabından 23 sayfa okudu. Geriye okunacak kaç sayfa kalmıştır?

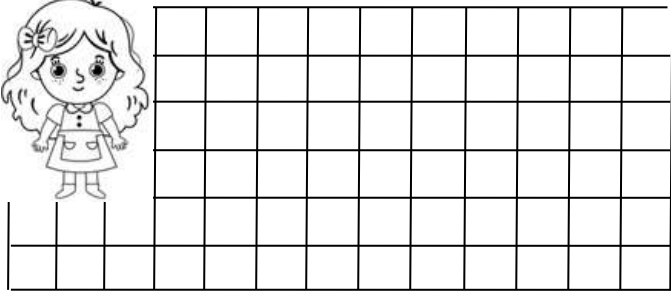


8. Melih ve Gürkan'ın bilye sayıları aynıdır. Melih'in 23 bilyesi olduğuna göre , ikisinin toplam kaç bilyesi vardır?




TOPLAMA VE ÇIKARMA İŞLEMİ İLE İLGİLİ PROBLEMLER

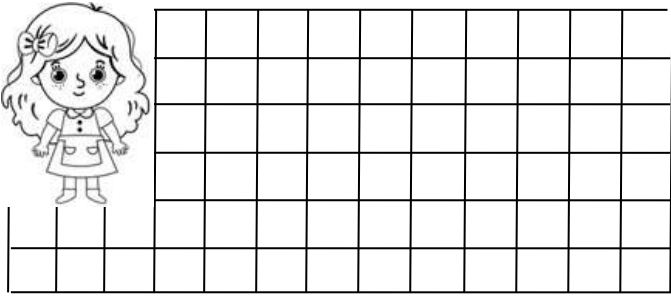
1. Semra kitaplığındaki 59 hikaye kitabından 8 tanesini okumuş. Geriye okunacak kaç tane kitap kalmıştır ?




2. Bahçemizde 24 tane elma 35 tane kayısı ağacı var. Bahçemizde toplam kaç tane ağaç vardır?



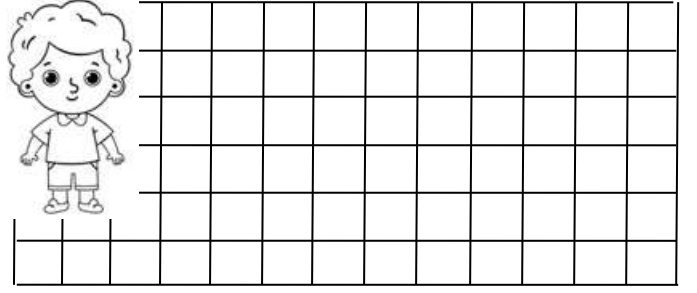
3. Sinemada filmi 32 kişi seyretti. 46 tane koltuk ise boştu. Sinemada kaç tane koltuk var ?




4. Bahçedeki 28 fidanın 15 tanesini suladım. Geriye sulanacak kaç tane fidan kalmıştır?




5. Aysel'in 67 tane boncuğu vardı. Boncukların 32 tanesini arkadaşına verdi. Geriye kaç tane boncuk kalmıştır?



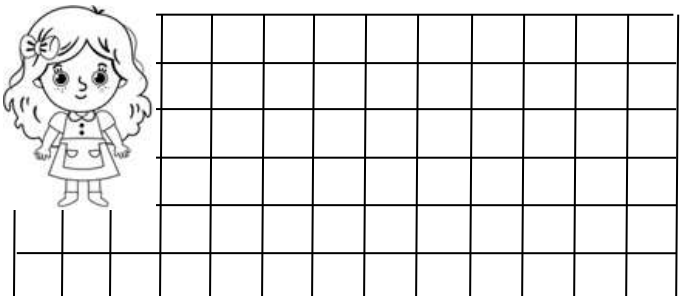
6. Her gün 43 tane ekmek satan bakkal iki günde toplam kaç tane ekmek satar ?



7. Resim kursuna 27 tane kız, 12 tane erkek öğrenci gitmektedir. Resim kursuna toplam kaç öğrenci gitmektedir?



8. Mert'e 45 liranın 30 lirasına defter ve kalem almış. Mert'in kaç lirası kalmıştır?



TOPLAMA VE ÇIKARMA İŞLEMİ İLE İLGİLİ PROBLEMLER

1. Babam 42 yaşındadır. Babam 6 yıl sonra kaç yaşında olur ?



2. Her gün 34 tane problem çözen Ayça iki günde toplam kaç problem çözer ?



3. Tabaktaki 47 tane fıncığın bir kısmını yiyince 13 fıncık kaldı. Buna göre kaç tane fıncık yedik?



4. Sinem , 78 sayfa olan defterinin 35 sayfasını kullanmış. Geriye kaç sayfa kalmıştır?



5. Okulumuzda birinci sınıflarda toplam 95 öğrenci vardır. Bugün okula 15 öğrenci gelmediğine göre kaç öğrenci gelmiştir?



6. Otobüste 25 tane yolcu vardı. Otobüse 24 kişi daha bindi. Otobüste kaç kişi olmuştur?



7. Vazodaki 29 tane çiçeğin 6 tanesi kurumuş. Kuruyan çiçekleri alınca vazoda kaç tane çiçek kalır?




8. Kerem parasının 34 lirasını harcadıncaya geriye 42 lirası kalmış. Harcamadan önce Kerem'in kaç lirası vardı?




TOPLAMA VE ÇIKARMA İŞLEMİ İLE İLGİLİ PROBLEMLER


1. Kutuda 49 tane boncuk vardı. Sinan boncukların 17 tanesini aldı. Kutuda kaç tane boncuk kalmıştır?



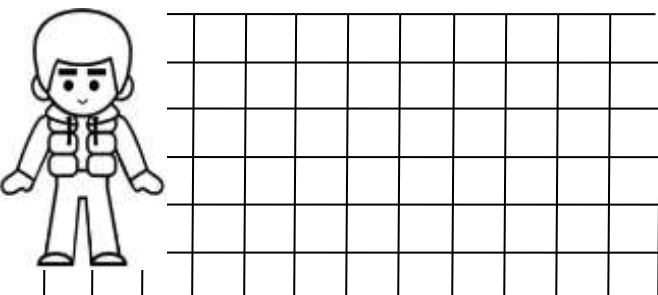
2. Sepette 27 tane sarı 22 tane kırmızı elma var. Sepette kaç tane elma vardır ?




3. Tabaktaki cevizlerden 23 tanesini alıncaya geriye 6 tane ceviz kalmış. Cevizleri almadan önce tabakta kaç tane ceviz vardı?




4. Amcamların 68 tane koyunu var. Keçilerinin sayısı ise koyunlardan 26 azdır. Amcamların kaç tane keçisi vardır?




5. Okulun bahçesinde 67 tane öğrenci var. Öğrencilerin 24 tanesi okula girdi. Bahçede kaç tane öğrenci kaldı ?




6. Rana'nın 30 lirası vardı. Dayısı Rana'ya 20 lira verdi. Rana'nın kaç lirası oldu ?



7. Pazarcı 58 kilogram muzun 43 kilogramını satmış. Geriye kaç kilogram muz kalmıştır?



8. Bakkal öğleden önce 53 , öğleden sonra 34 tane ekmek satmış. Bakkal toplam kaç tane ekmek satmıştır ?



TOPLAMA VE ÇIKARMA İŞLEMİYLE İLGİLİ PROBLEMLER

☆ Aşağıdaki problemleri çözelim . Doğru cevabı boyayalım.

1. Bir baloncu 38 tane balonun 14 tanesini satmış. Geriye kaç tane balon kalmıştır?



14

24

23

2. Taner'in 12 tane bilyesi vardı. 16 tane bilye de arkadaşı verdi. Taner'in kaç bilyesi olmuştur?



28

38

39

3. Ali'nin ablası 13 yaşındadır. 14 yıl sonra ablası kaç yaşında olur?



17

28

27

4. Oya önce 25 sayfa kitap okumuş. Sonra 20 sayfa daha okumuş. Oya toplam kaç sayfa kitap okumuş?



45

35

55

5. Büşra'nın 65 lirası vardı. 23 lirasına kitap aldı. Büşra'nın kaç lirası kalmıştır?



52

44

42

6. Sınıfımızdaki 38 öğrencinin 22 tanesi kızdır. Sınıfımızda kaç tane erkek öğrenci vardır?



16

26

15

7. Babam bahçeye 45 tane domates, 23 tane biber fidesi dikti. Dikilen fidelerin tamamı kaç tanedir?



67

58

68

8. Bir kümesteki 49 tane tavuk ve horoz var. Hayvanların 16 tanesi olduğuna göre kaç tanesi tavuktur?



33

23

34

TOPLAMA VE ÇIKARMA İŞLEMİYLE İLGİLİ PROBLEMLER

☆ Aşağıdaki problemleri çözelim . Doğru cevabı boyayalım.

1. Utku her gün 24 sayfa kitap okursa iki günde kaç sayfa kitap okumuş olur?



26

49

48

2. Sıla 57 tane problemin 25 tanesini çözmüş. Geriye çözülecek kaç problem kalmıştır?



22

32

33

3. Bir çiftlikteki 89 koyunun 36 tanesi satılmış. Geriye kaç tane koyun kalmıştır ?



43

53

52

4. Otobüste 26 tane yolcu vardı. Otobüse 12 kişi daha bindi. Otobüste kaç yolcu olmuştur?



48

37

38

5. Melih 19 yaşındadır. 7 yıl önce Melih kaç yaşındaydı?



12

13

14

6. Bahçede 63 tane çocuk oyun oynuyordu. Bahçeye 26 çocuk daha geldi. Bahçede kaç çocuk olmuştur?



89

88

79

7. Bakkalın ekmek dolabında 14 tane ekmek vardı. Dolaba 54 tane ekmek kondu. Dolapta kaç tane ekmek olmuştur?



67

58

68

8. Bir manavdaki 76 tane karpuzu 46 tanesi satılmış. Geriye kaç tane karpuz kalmıştır?



40

30

50