

3. SINIF

MATEMATİK DERSİ 26. HAFTA ÇALIŞMA KAĞIDI

- Aşağıdaki varlıkları tartarken hangi kütle ölçü birimini kullanırız yazalım. (Kilogram ya da gram)




.....



.....



.....



.....



.....



.....




.....



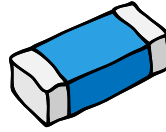
.....




.....



.....




.....




.....


- Aşağıdaki eşit kollu teraziye tartılan ürünlerin kütlelerini yazalım.



.....



.....



.....



.....



.....



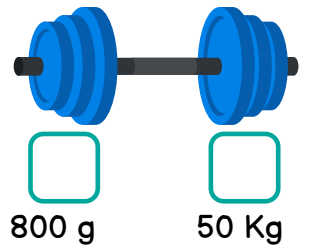
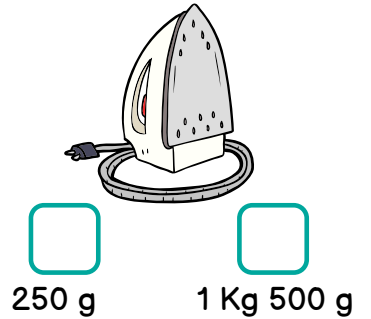
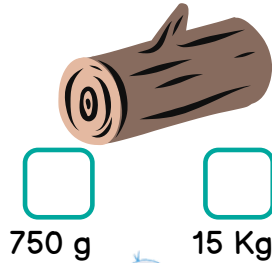
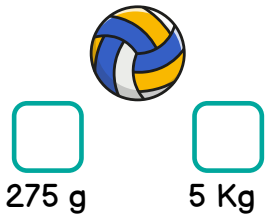
.....



- Ürünleri ölçmek için hangi ağırlıklara ihtiyacımız olduğunu ✓ ile işaretleyerek belirtelim.

ÜRÜN	5 Kg	2 Kg	1 Kg	500 g	250 g	100 g
3 kg 500 g Armut		✓	✓	✓		
8 kg 750 g Patates						
6 kg 250 g Kabak						
850 g Kimyon						
1 kg 750 g Un						
7 kg 500 g Fasulye						
2 kg 750 g Şeker						
8 kg 850 g Nohut						

- Varlıkların kütlesi hangisi olabilir ✓ ile işaretleyelim.



- Problemleri dikkatlice okuyalım, çözelim.

TARTMA PROBLEMLERİ


1. Duru, kardeşinden 15 kg daha ağırdır. Kardeşi 12 kg olduğuna göre Duru ile kardeşi toplam kaç kg'dır?



5. Kemal Efe, Berat ve Alper üç arkadaştır. Kemal Efe 32 kg, Berat 33 kg'dır. Üç arkadaşın kiloları toplamı 100 olduğuna göre Alper kaç kg'dır?



2. Bir horoz 3 kg'dır. Kedi horozdan, köpek de kediden 3 kg ağırdır. Üç hayvan toplam kaç kg'dır?



6. Annem börek yapmak için 200 gr yoğurt, 50 gr yumurta, 250 gr peynir, 450 gr yufka kullandı. Toplam kaç kg malzeme kullanmıştır?



3. Bir tezgahda 75 kg şeker vardı. Sabah 28 kg, öğleden sonra da 33 kg'ı satıldı. Tezgahda satılmayan kaç kg şeker kaldı?




7. Ada 4, Ege 3 tane gofret aldı. Gofretlerin her biri 32 gr'dır. İki arkadaş toplam kaç gr gofret almıştır?



4. Yukarıdaki her kasada 25 kg elma olduğuna göre toplam kaç kg elma vardır?



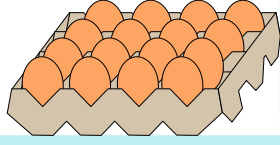
8. Bir çuvalı 15 kg gelen patatesten 15 çuval alan Metin toplam kaç kg patates almıştır?




- Problemleri dikkatlice okuyalım, çözelim.

TARTMA PROBLEMLERİ - 2

1. Bir koli yumurtada 16 tane yumurta vardır ve yumurtaların her biri 60 gr'dır. Kolideki yumurtaların ağırlığı toplam kaç gr'dır?




2. Yasemin her gün kedisine 75 gr mama veriyor. Bir hafta sonunda kedi kaç gr mama yemiştir?



3. Ablamın tatlı yapmak için yarım kg şeker ihtiyacı vardı. Ama evde 175 gr şeker vardı. Ablamın kaç gr şeker ihtiyacı vardır?



4. Bir manav 80 kg limonun $\frac{3}{4}$ 'ünü sattı. Kaç kg limonu kalmıştır?



5. Aşağıda verilen bilgilere göre soruları cevaplayınız.



20 TL



24 TL



15 TL



7 TL



8 TL



16 TL

1. Manavdan 2 kg kabak, 1 kg domates, 2 kg havuç alırsam manava kaç TL ederim?

2. Manavdan 1 kg marul, 2 kg turp, 3 kg dolmalık biber aldım. Manava kaç TL ederim?

3. Manavdan 3 kg domates, 2 kg dolmalık biber aldım. Satıcıya 100 TL uzattım. Satıcı paranın eksik olduğunu söyledi. Kaç TL daha ödemem gerekir?

4. Manavdaki tüm ürünlerden ikişer kg alırsam manava kaç TL ödemem gerekir?

