

3.

SINIF

Nisan Ara Tatili

# HAYAT BİLGİSİ

Değerlendirme Etkinliđi



 [optimistogretmen](https://www.instagram.com/optimistogretmen)





# 3. SINIF HAYAT BİLGİSİ

## NİSAN ARA TATİLİ DEĞERLENDİRME ETKİNLİĞİ



1. Aşağıdakilerden hangisi dengeli ve düzenli beslenen birinin davranışlarından olamaz?

- A) Her besinden yeteri kadar yer.
- B) Asitli ve gazlı içecekler tüketir.
- C) Meyve ve sebze tüketir.



2. Kişisel bakımımız sırasında aşağıdaki hangi davranışı sergilememiz doğru olur?

- A) Suyu dişlerimizi fırçalarken açık bırakmalıyız.
- B) Yazın kaloriferi kapatmamalıyız.
- C) Musluğu gereğinden fazla açmamalıyız.




3. Aşağıdaki meyvelerden hangisi bir yaz meyvesidir?

- A) 
- B) 
- C) 

4. Vücudumuza çeşitli yollarla girerek bizleri hasta eden, özellikle de kalabalık yerlerde ve temiz tutulmayan ortak kullanım alanlarında bulunan gözle görülemeyecek kadar küçük canlılara ne denir?

- A) mikrop
- B) bit
- C) parazit

5. Aşağıdakilerden hangisi bir istek değil ihtiyaçtır?

- A) 
- B) 
- C) 

6. Aşağıdaki mesleklerden hangisi sağlık alanında çalışmamaktadır?

- A) doktor
- B) hemşire
- C) mimar

7. "Kaynakları ..... kullanmalıyız. Çünkü kaynaklar sınırsız değildir, tükenebilir." cümlesinde boş bırakılan yere hangisi getirilmelidir?

- A) bilinçli
- B) düzensiz
- C) yetkili

8. Aşağıdakilerden hangisi aile bütçesini korumaya özen gösteren bir davranış değildir?




- A) İhtiyaçlarıma göre alışveriş yaparım.
- B) Alışveriş listesi hazırlayarak alışverişe çıkarım.
- C) Pahalı ve lüks giysiler alırım.

9. Yan tarafta gösterilen trafik levhasının anlamı nedir?

- A) Okul geçidi
- B) Yaya geçidi
- C) Yürüyüş yolu



10. Aşağıdaki levhalardan hangisi park yapmak yasaktır anlamına gelir?

- A) 
- B) 
- C) 

11. Aşağıdaki ifadelerden yanlış olan hangisidir?

- A) Ambulanların geçiş önceliği hakkı vardır.
- B) Yeşil ışık yanınca araçlar yavaşlar.
- C) Trafik polisinin işaret ve uyarılarına uymalıyız.

12. Aşağıdakilerden hangisi ev kazalarına karşı alınabilecek önlemlerden biri değildir?




- A) Kibritleri ortada bırakmak.
- B) Tehlikeli, zehirli maddeleri yüksek ve çocukların ulaşamayacağı yerlere koymak.
- C) Elektrik prizlerine korumalı kapak takmak.

13. Bekir bir alışveriş merkezinde lavaboya giderken yandaki uyarı levhasını görmüştür. Bu uyarı levhasının anlamı nedir?

- A) Suya girmek tehlikeli ve yasaktır!
- B) Dikkat, kaygan zemin!
- C) Oyun oynamak yasak ve tehlikelidir!



14. Hangi ışık, araçlar için hazırlan anlamı taşır?

- A) 
- B) 
- C) 



15. Ülkemizde acil durumlar için aranacak numaralar tek bir numarada toplanmıştır. Bu numara aşağıdakilerden hangisidir?

- A) **110** B) **155** C) **112**

16. Evde, sokakta, okulda, parkta pek çok kaza ile karşılaşabiliriz. Aşağıdakilerden hangisi evde gerçekleşebilecek bir kaza değildir?




- A) Trafik kazası  
B) Düşme  
C) Doğal gaz zehirlenmesi



17. Tanımadığımız kişilerden istemediğimiz bir teklif geldiğinde ne yapmalıyız?

- A) Teklifleri cazip ise kabul etmeliyiz.  
B) Durup dikkatlice onları dinlemeliyiz.  
C) Kısa ve net cevaplar verip hemen oradan uzaklaşmalıyız.

18. Aşağıdakilerden hangisi bir doğal afetdir?

- A)  B)   
C) 

19. "Kendimizi ..... hissettiğimiz en güzel yer ailemizin yanıdır." cümlesinde boşluk, hangi kelime ile tamamlanmalıdır?

- A) tehlikeli B) güvende C) zorda

20. Okuldaki arkadaşınız İrfan, okul çıkışı biraz parkta oynamayı, sonra da arka mahallede kurulan pazarı gezmeyi teklif etti. Ona hangi cevabı verirseniz doğru bir davranış sergilemiş olursunuz?

- A) Ailemizden izinsiz ve habersiz gitmemeliyiz.  
B) Güzel fikir, dondurma da alalım mı?  
C) Olur ancak çok uzun süre gelemem hava kararmadan ev dönelim.

21. Bir ilçede devleti temsil eden en yetkili yönetim görevlisine ne denir?

- A) muhtar  
B) kaymakam  
C) vali

22. Aşağıdaki yöneticilerden hangisi seçimle başa gelir?

- A) kaymakam  
B) vali  
C) muhtar

23. Ülkemizin yönetim şekli aşağıdakilerden hangisidir?

- A) Krallık  
B) Padişahlık  
C) Cumhuriyet






24. Tarihi ve kültürel öğelerin korunup saklandığı, eski zamanlarda yaşamış insanların kullandığı eşyaların sergilendiği yerlere ne ad verilir?


- A) Müze  
B) Depo  
C) Saray



25. Aşağıdaki görsellerden hangisi ülkemiz tarihinde çok önemli bir yere sahip olan, Mustafa Kemal Atatürk'ün düşmana geçit vermediği, büyük bir zafer kazandığı şehrimiz olan Çanakkale'de bulunmaktadır?

- A)  B)   
C) 

**DEĞERLENDİRME BİTTİ.  
CEVAPLARINI KONTROL ETMEYİ UNUTMA.**



# 3. SINIF HAYAT BİLGİSİ NİSAN ARA TATİLİ DEĞERLENDİRME CEVAP ANAHTARI

|    |   |
|----|---|
| 1  | B |
| 2  | C |
| 3  | C |
| 4  | A |
| 5  | B |
| 6  | C |
| 7  | A |
| 8  | C |
| 9  | B |
| 10 | C |

|    |   |
|----|---|
| 11 | B |
| 12 | A |
| 13 | B |
| 14 | B |
| 15 | C |
| 16 | A |
| 17 | C |
| 18 | B |
| 19 | B |
| 20 | A |

|    |   |
|----|---|
| 21 | B |
| 22 | C |
| 23 | C |
| 24 | A |
| 25 | C |

